

КОНТУРНЫЕ КАРТЫ



ИСТОРИЯ НОВОГО ВРЕМЕНИ

XIX – НАЧАЛО XX ВЕКА



9
класс

Класс _____

Фамилия _____

Имя _____





Задания

1. Покажите территорию Франции к 1799 г.; территории, присоединённые к Франции в 1805—1810 гг., и территории государств, зависимых от Франции.
2. Выделите государства, союзные Франции.
3. Обозначьте места и даты важнейших сражений в 1799—1815 гг.

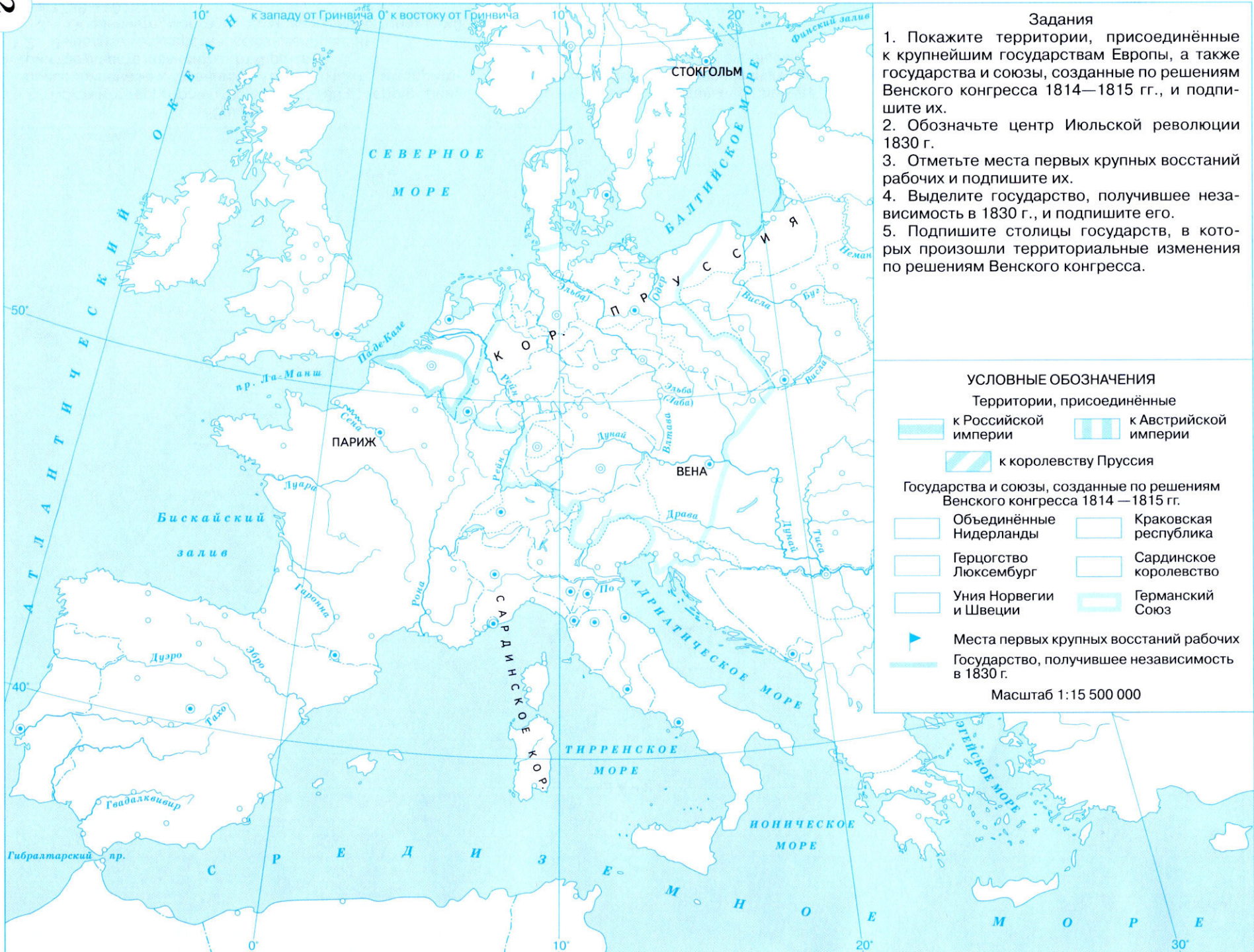
4. Обозначьте континентальную блокаду 1806—1814 гг.
5. Подпишите названия населённых пунктов: Сарагоса, Париж, Ватерлоо, Берлин, Дрезден, Мюнхен, Ульм, Вена, Варшава, Смоленск, Бородино.

УСЛОВНЫЕ ОБОЗНАЧЕНИЯ

- Франция к 1799 г.
- Территории, присоединённые к Франции в 1805—1810 гг.
- Территории государств, зависимых от Франции
- Государства, союзные Франции
- Места и даты важнейших сражений
- Континентальная блокада

6.10.1812

Масштаб 1:15 500 000



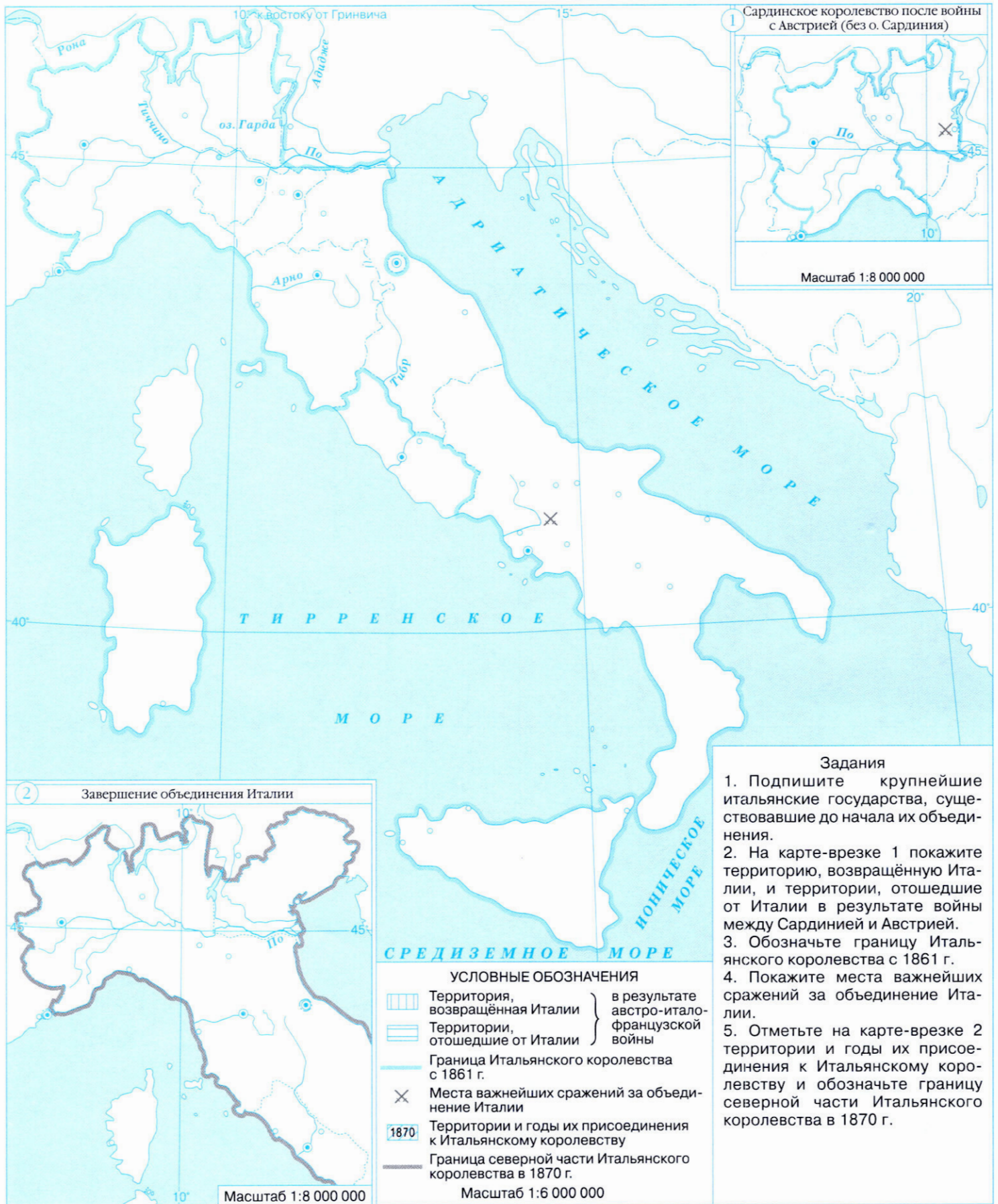


- Задания**
1. Обозначьте места и даты Февральской революции и Июньского восстания во Франции.
 2. Отметьте главные центры революционного движения в Европе и подпишите их.
 3. Покажите районы чартистского движения в Великобритании.
 4. Подпишите народы, боровшиеся за национальную независимость.
 5. Обозначьте места основания социал-демократической рабочей партии Германии и создания I Интернационала и подпишите их.

- УСЛОВНЫЕ ОБОЗНАЧЕНИЯ**
- Главные центры революционного движения
 - Районы чартистского движения в Великобритании
 - ГРЕКИ Народы, боровшиеся за национальную независимость
 - ▤ Создание I Интернационала
 - ▴ Основание социал-демократической рабочей партии

Масштаб 1:14 000 000

ОБЪЕДИНЕНИЕ ИТАЛИИ



ОБЪЕДИНЕНИЕ ГЕРМАНИИ



Задания

1. Обозначьте территорию Пруссии к 1864 г.
2. Отметьте стрелками основные направления действий прусской армии в войнах с Данией в 1864 г., Австрией в 1866 г. и Францией в 1870—1871 гг.
3. Отметьте место и дату сражения при Садове.
4. Выделите границу Северогерманского союза, образованного в 1866—1867 гг. под главенством Пруссии.
5. Обозначьте границу Германской империи, образованной в 1871 г.
6. Подпишите населённые пункты: Берлин, Гамбург, Дрезден, Франкфурт, Штутгарт, Седан, Вена, Садова, Никольсбург.

УСЛОВНЫЕ ОБОЗНАЧЕНИЯ



Пруссия к 1864 г.

Наступление прусских войск в войнах:

← с Данией
в 1864 г.

← с Австрией
в 1866 г.

← с Францией
в 1870—1871 гг.



Места и даты решающих сражений

— Граница Северогерманского союза, образованного в 1866—1867 гг. под главенством Пруссии

— Граница Германской империи, образованной в 1871 г.

Масштаб 1:6 000 000

ОБРАЗОВАНИЕ НЕЗАВИСИМЫХ ГОСУДАРСТВ В ЛАТИНСКОЙ АМЕРИКЕ в первой четверти XIX в.



ЛАТИНСКАЯ АМЕРИКА в конце XIX – начале XX в.










ГРАЖДАНСКАЯ ВОЙНА В США 1861–1865 гг.



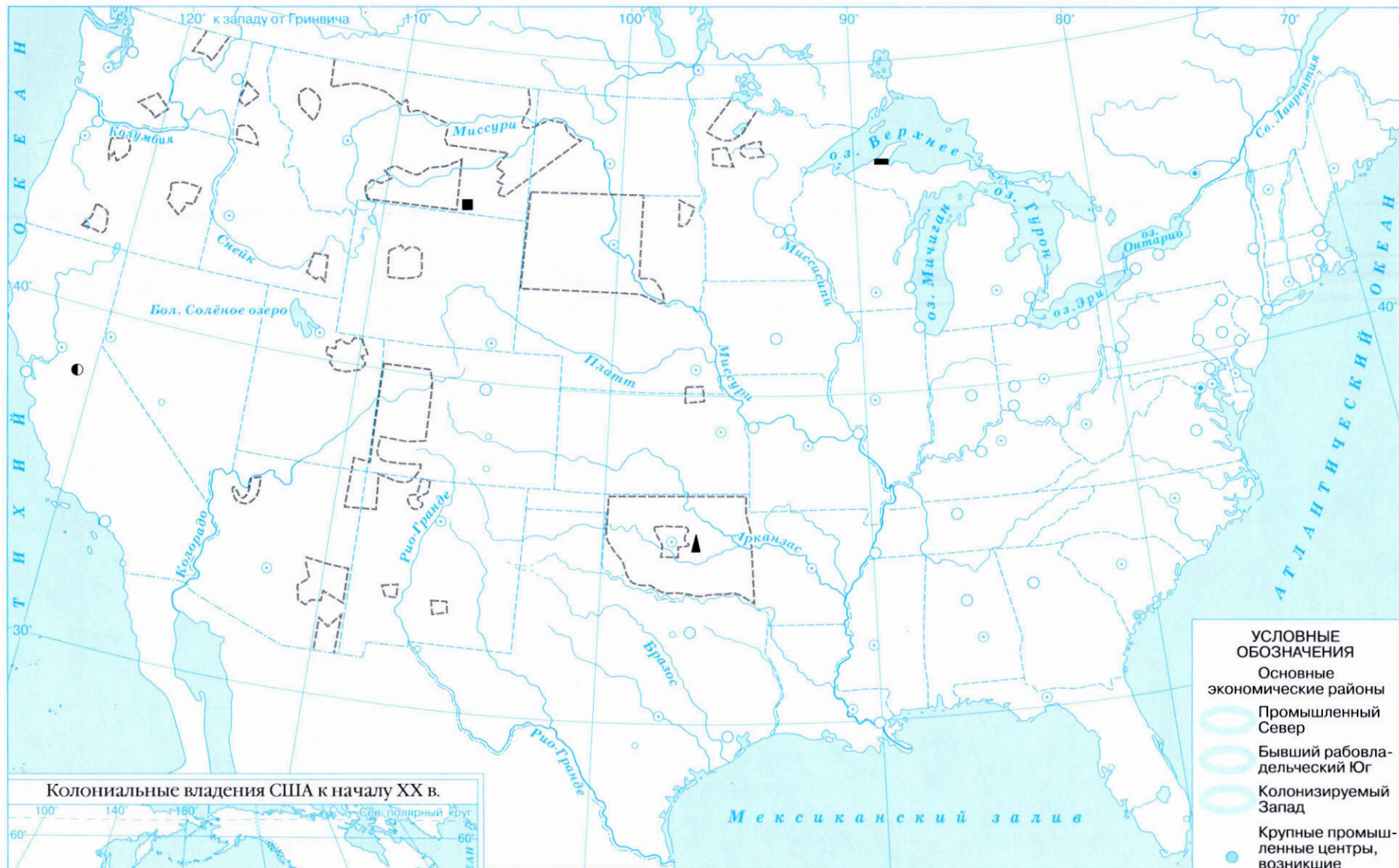
Задания

- Выделите территории:
 - штатов, свободных от рабства;
 - Конфедерации рабовладельческих штатов;
 - рабовладельческих штатов, не вошедших в Конфедерацию и присоединившихся к северянам в начале войны.
- Обозначьте места крупнейших сражений Гражданской войны в США.
- Покажите границу территории, занятой войсками северян к 1865 г.
- Отметьте место нападения мятежников в 1861 г. (начало войны) и место капитуляции главных сил южан в 1865 г.
- Подпишите населённые пункты: Вашингтон, Манассас, Геттисберг, Ричмонд, Форт-Самтер, Висксберг.

УСЛОВНЫЕ ОБОЗНАЧЕНИЯ

-  Территории штатов, свободных от рабства
-  Территории Конфедерации рабовладельческих штатов
-  Рабовладельческие штаты, не вошедшие в Конфедерацию и присоединившиеся к северянам в начале войны
-  Места главных сражений
-  Граница территории, занятой войсками северян к 1865 г.
-  Нападение мятежников на Форт-Самтер в 1861 г.
-  Капитуляция главных сил южан в 1865 г.

Масштаб 1:11 000 000



- УСЛОВНЫЕ ОБОЗНАЧЕНИЯ**
- Основные экономические районы
 - Промышленный Север
 - Бывший рабовладельческий Юг
 - Колонизируемый Запад
 - Крупные промышленные центры, возникшие в 1870—1900 гг.

- Полезные ископаемые**
- уголь ▲ железные руды ● золото
 - ▲ нефть ■ медные руды ● серебряные руды
 - США и их колониальные владения к 1914 г.
 - ▨ Индейские резервации к 1875 г.
- Масштаб 1:19 000 000

Задания

1. Покажите территории основных экономических районов США.
2. Обозначьте и подпишите наиболее крупные промышленные центры США, возникшие в 1870—1900 гг.
3. Отметьте важнейшие месторождения угля, нефти, железной руды и руд цветных металлов.
4. Отметьте территории крупнейших индейских резерваций.
5. На карте-врезке покажите территорию США, их колониальные владения к 1914 г. и подпишите наиболее крупные владения.










РУССКО-ТУРЕЦКАЯ ВОЙНА 1877—1878 гг.



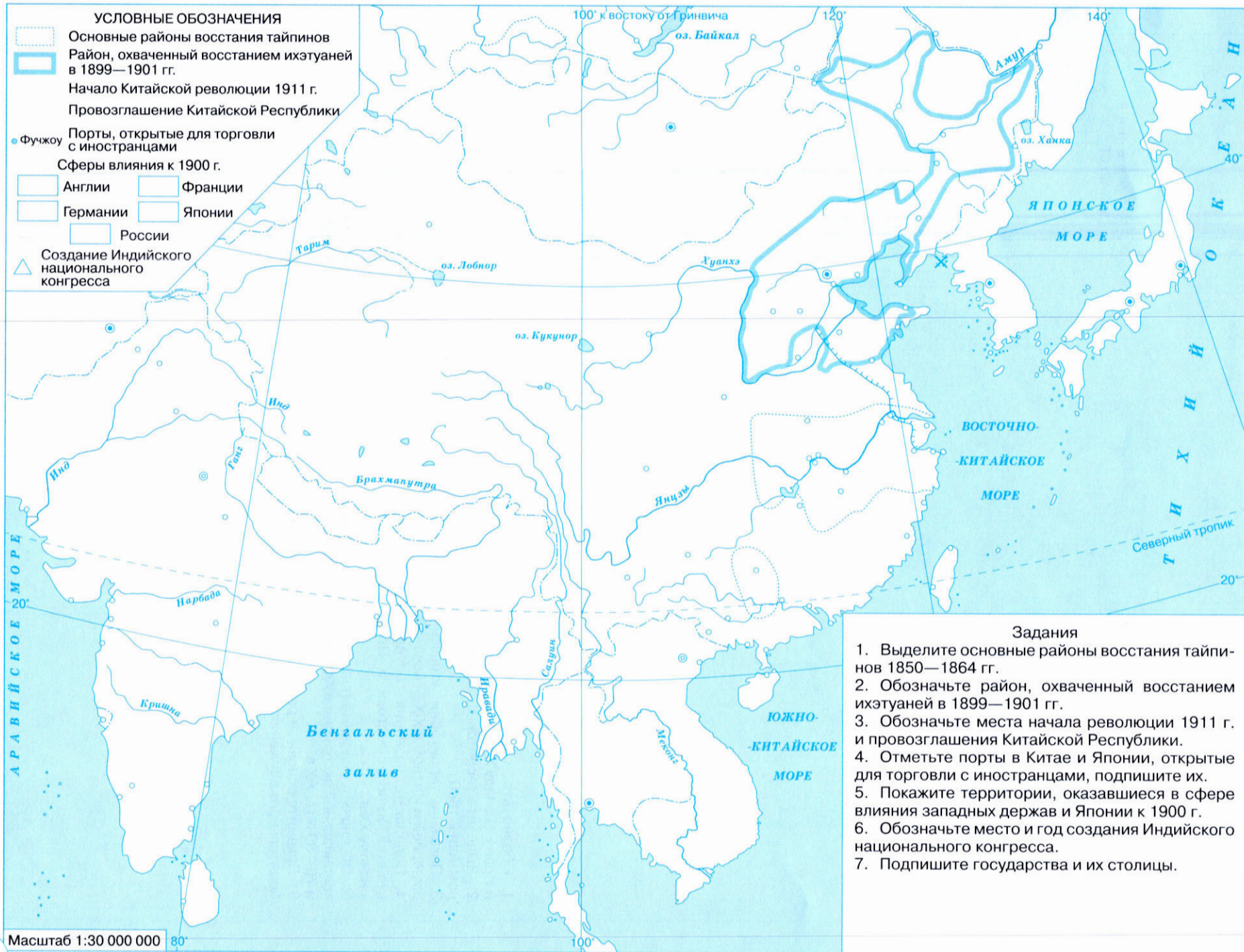
Задания

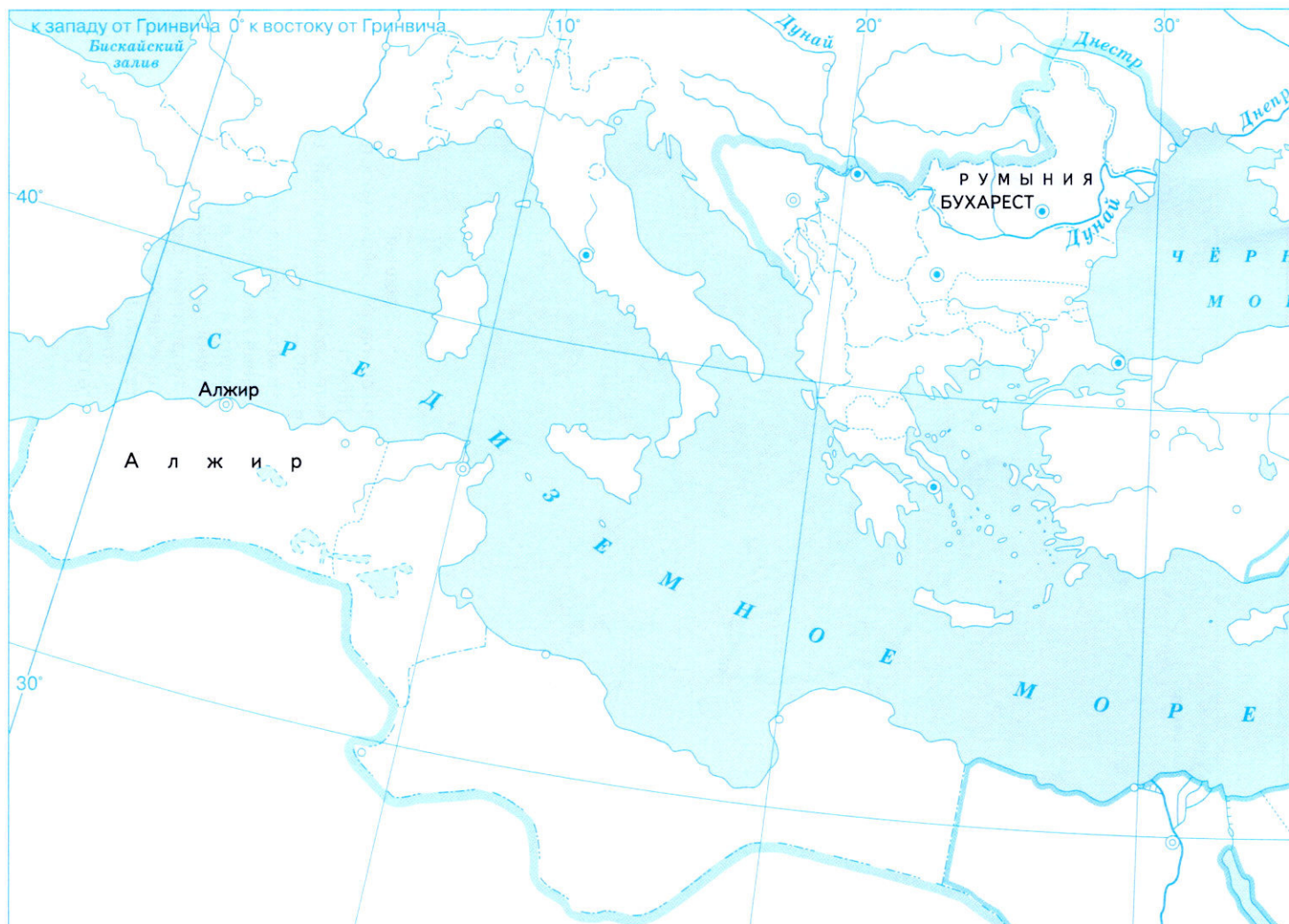
1. Обозначьте районы и годы национально-освободительного движения в конце XIX в.
2. Покажите границу Османской империи к началу русско-турецкой войны 1877—1878 гг.
3. Отметьте места важнейших сражений 1877—1878 гг.
4. Обозначьте государства, получившие полную независимость, и территории, отошедшие от Османской империи в результате русско-турецкой войны 1877—1878 гг.

УСЛОВНЫЕ ОБОЗНАЧЕНИЯ

- | | |
|---|---|
| <ul style="list-style-type: none">  Районы и годы национально-освободительного движения в конце XIX в.  Граница Османской империи к началу русско-турецкой войны 1877—1878 гг.  Места важнейших сражений  Государства, получившие полную независимость в результате войны 1877—1878 гг. | <ul style="list-style-type: none">  к Сербии  к Румынии  к Черногории  к России  к Греции |
|---|---|

Масштаб 1:8 000 000





Задания

1. Обозначьте границы Османской империи и Ирана к началу XIX в.
2. Выделите территорию, завоёванную Мухаммедом-Али к 1840 г.
3. Покажите территории, утраченные Османской империей и Ираном в XIX — начале XX в.
4. Подпишите названия государств и столицы стран Ближнего Востока и Центральной Азии к началу XX в.
5. Обозначьте основные направления британской колониальной экспансии в Афганистане в 30—40-х и 70—80-х гг. XIX в.
6. Покажите основные районы национально-освободительного движения.

УСЛОВНЫЕ ОБОЗНАЧЕНИЯ

Границы государств к началу XIX в.

- Османской империи
- Ирана
- Территория, завоёванная Мухаммедом-Али к 1840 г.
- Территории, утраченные Османской империей и Ираном в XIX в.
- Основные направления британской колониальной экспансии в Афганистане
- Основные районы национально-освободительного движения

Масштаб 1:18 000 000

АФГАНИСТАН в XIX — начале XX в.







Военно-политические блоки держав Европы к 1914 г.



Задания

1. Обозначьте страны Антанты (Тройственного соглашения) и страны Тройственного союза.
2. Подчеркните столицы стран Антанты и стран Тройственного союза.

УСЛОВНЫЕ ОБОЗНАЧЕНИЯ

-  Страны Тройственного союза и их столицы
-  Страны Антанты (Тройственного соглашения) и их столицы















Масштаб 1:36 500 000



Задания

1. Выделите разным фоном государства и их владения к 1914 г.
2. Покажите места, где произошли первые войны за передел мира в эпоху империализма.
3. Подпишите столицы государств, владевших колониями к 1914 г.

УСЛОВНЫЕ ОБОЗНАЧЕНИЯ

	Великобритания		Дания	 Первые войны за передел мира в эпоху империализма
	Российская империя		Османская империя	
	Франция		Германия	Масштаб 1:100 000 000
	Нидерланды		Италия	
	Испания		США	
	Португалия		Япония	
			Бельгия	

АФРИКА в конце XIX – начале XX в.



Задания

1. Обозначьте территории, захваченные европейскими государствами в 1871—1914 гг.
2. Покажите границы африканских государств, оставшихся независимыми, и подпишите их.
3. Отметьте основные районы вооружённого сопротивления народов Африки колонизаторам.
4. Подпишите столицы наиболее крупных африканских государств и владений.

УСЛОВНЫЕ ОБОЗНАЧЕНИЯ

Территории, захваченные европейскими государствами в 1871—1914 гг.

- | | |
|---|---|
| Великобританией | Португалией |
| Францией | Италией |
| Испанией | Бельгией |
| Германией | |

Границы африканских государств, оставшихся независимыми

Основные районы вооружённого сопротивления колонизаторам народов Африки

Масштаб 1:43 000 000