



Гос

география

# Контурные карты



# 9

класс

Класс \_\_\_\_\_

Фамилия \_\_\_\_\_

Имя \_\_\_\_\_

МОСКВА  
«ПРОСВЕЩЕНИЕ»  
2023

## Дорогие друзья!

Мы надеемся, что контурные карты помогут вам при изучении такого интересного предмета, как география. При выполнении любых заданий вы можете пользоваться школьным учебником и географическим атласом, но это не значит, что нужно перерисовывать подробно карты атласа, выполняйте только конкретные задания. Для того чтобы облегчить вашу работу, на каждой карте уже нанесена часть географических объектов. Это поможет вам быстрее сориентироваться, выполняя те задания, которые указаны на контурной карте, и задания, предложенные учителем дополнительно.

Помните, что контурная карта должна быть заполнена не только правильно, но и аккуратно. Посмотрите, как располагаются названия географических объектов в картах атласа. Чтобы не перегружать контурную карту, мелкие географические объекты можно отметить цифрами, а затем пояснить их значения в легенде карты.

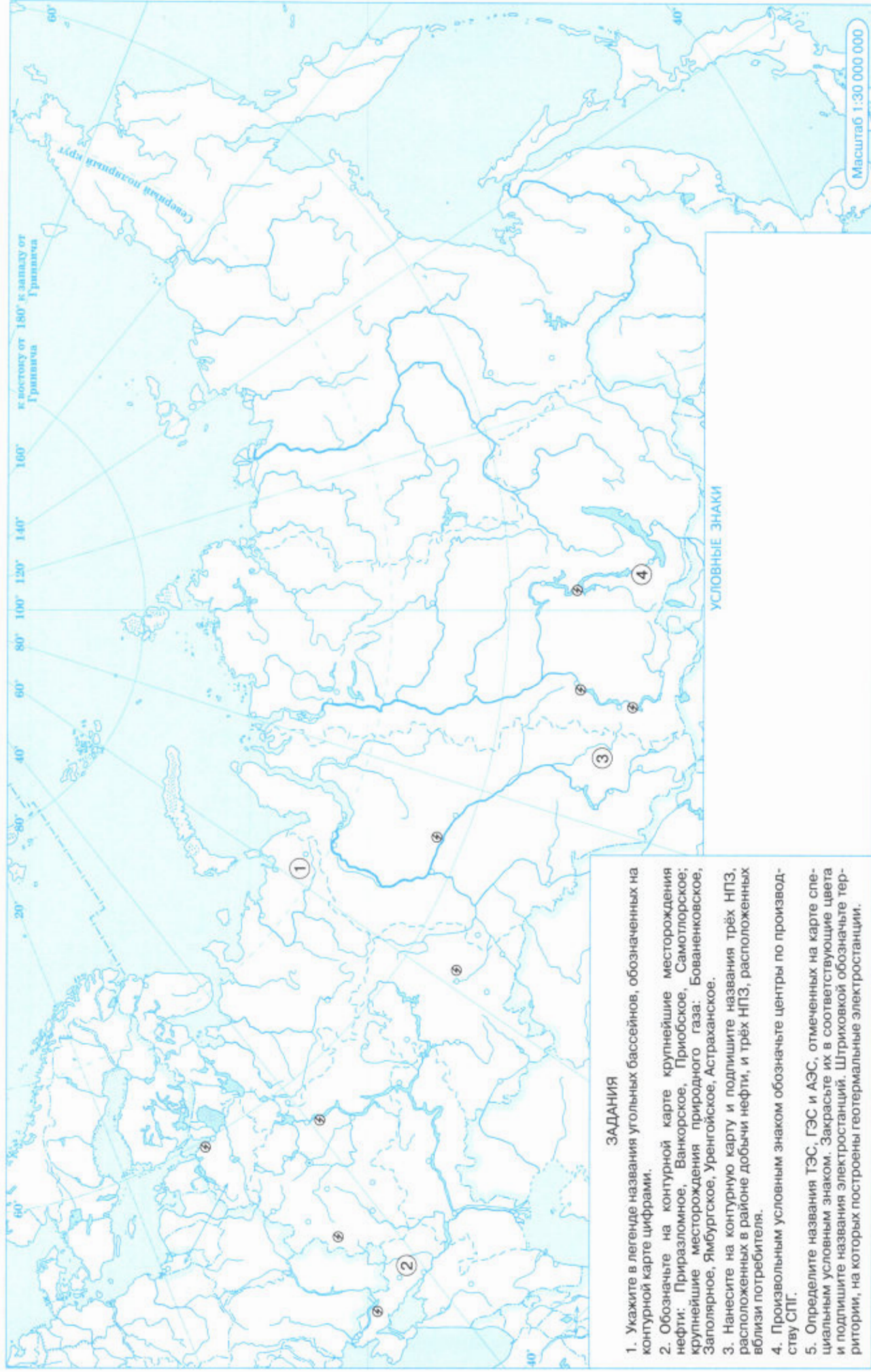
Для правильного и аккуратного нанесения на контурную карту географических названий используйте линии рамок карты, речные системы, береговую линию и границы государств.

Перед началом работы определите условные знаки, которые вы будете использовать, и покажите их значение в легенде карты.

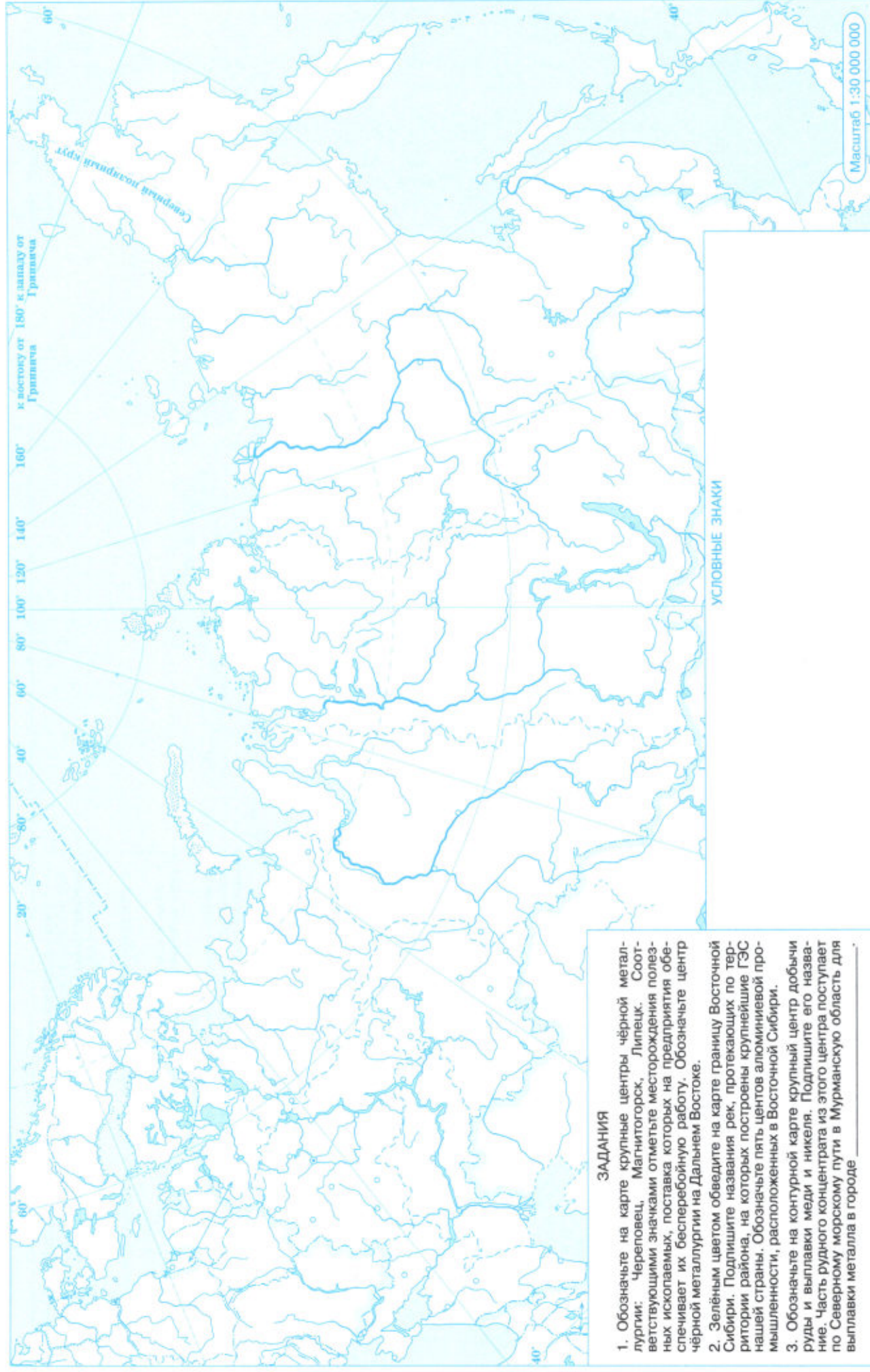
Желаем вам успехов в изучении географии и познании того мира, в котором мы живём.



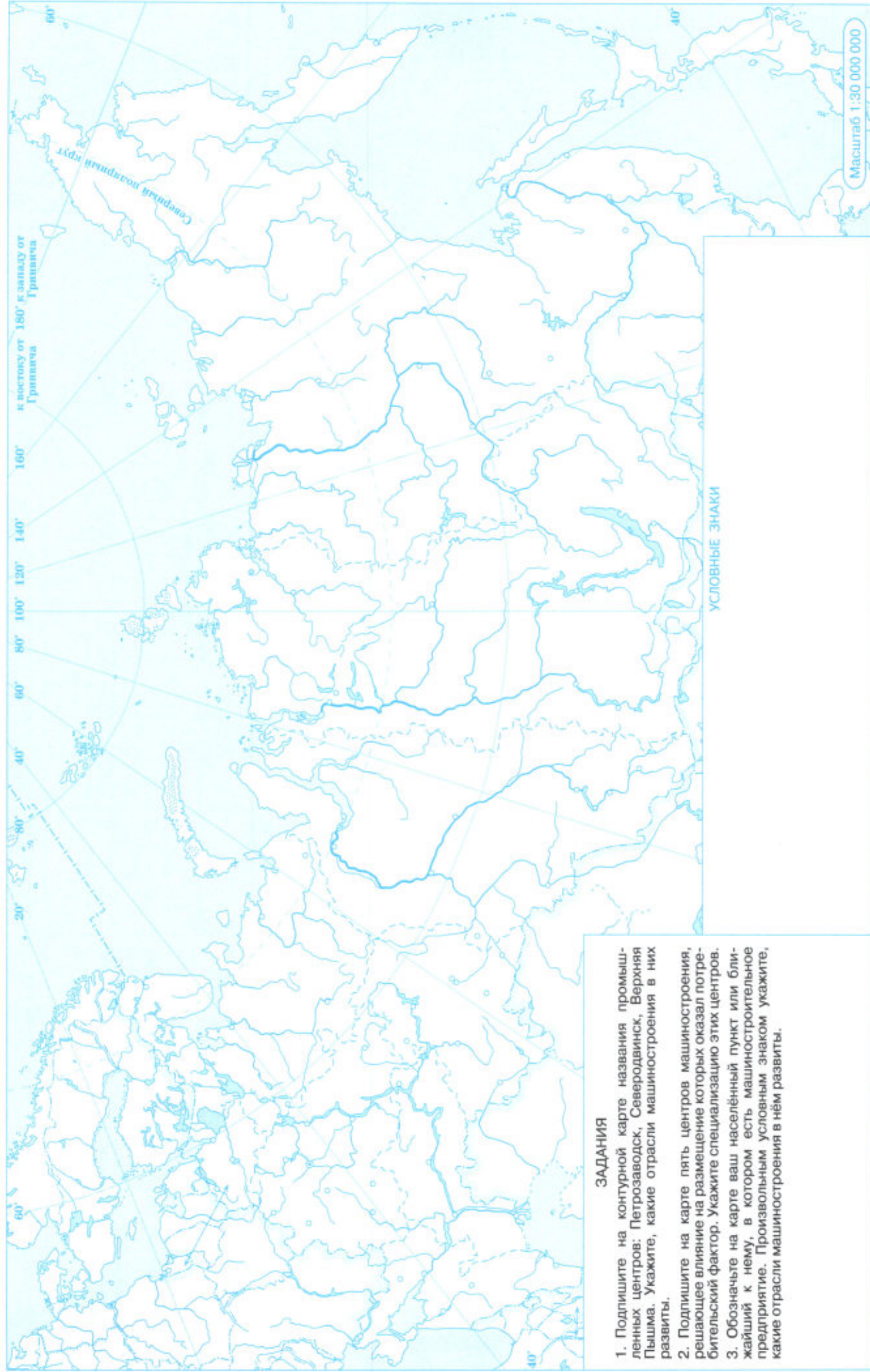
# ТОПЛИВНО-ЭНЕРГЕТИЧЕСКИЙ КОМПЛЕКС



## 2 МЕТАЛЛУРГИЯ



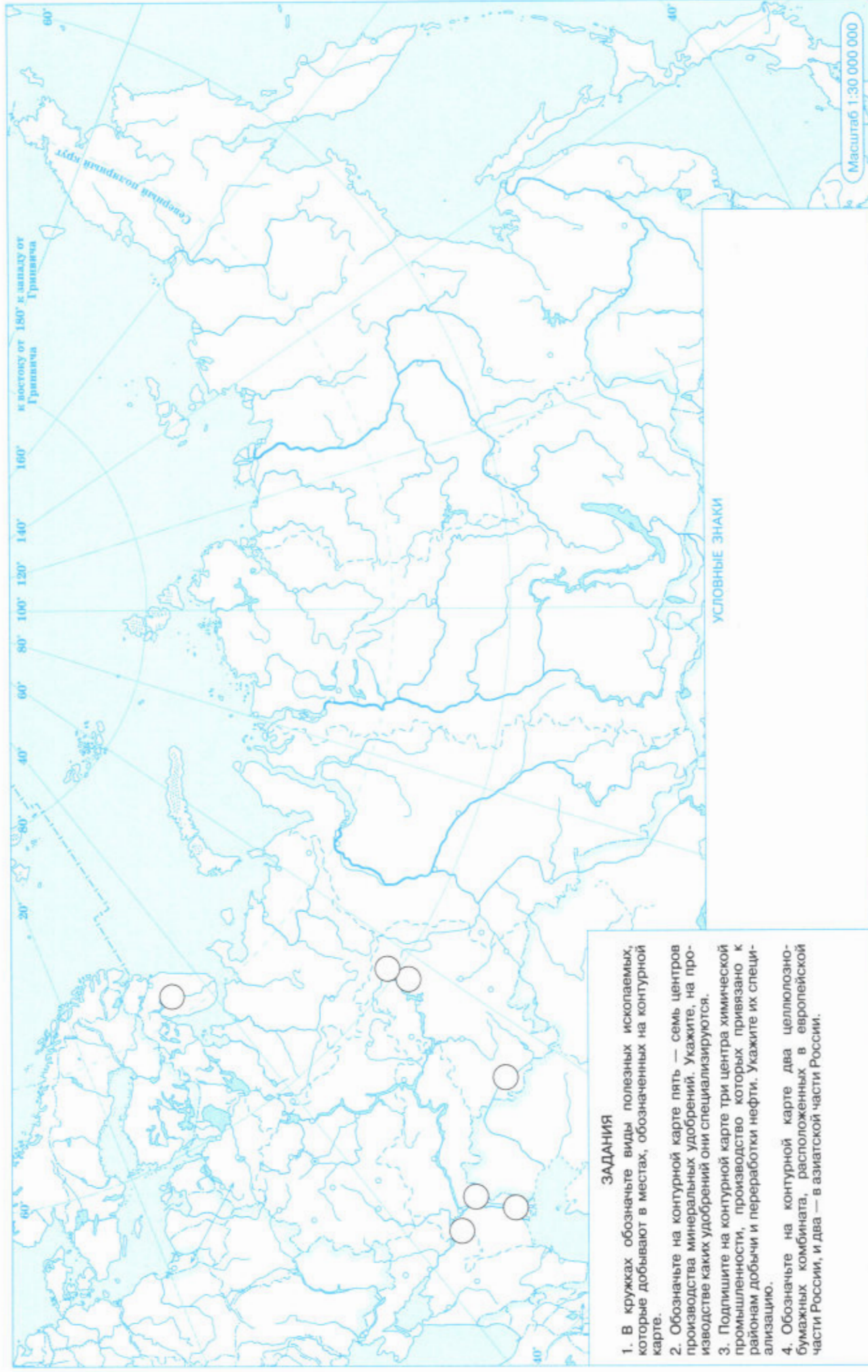
# МАШИНОСТРОЕНИЕ



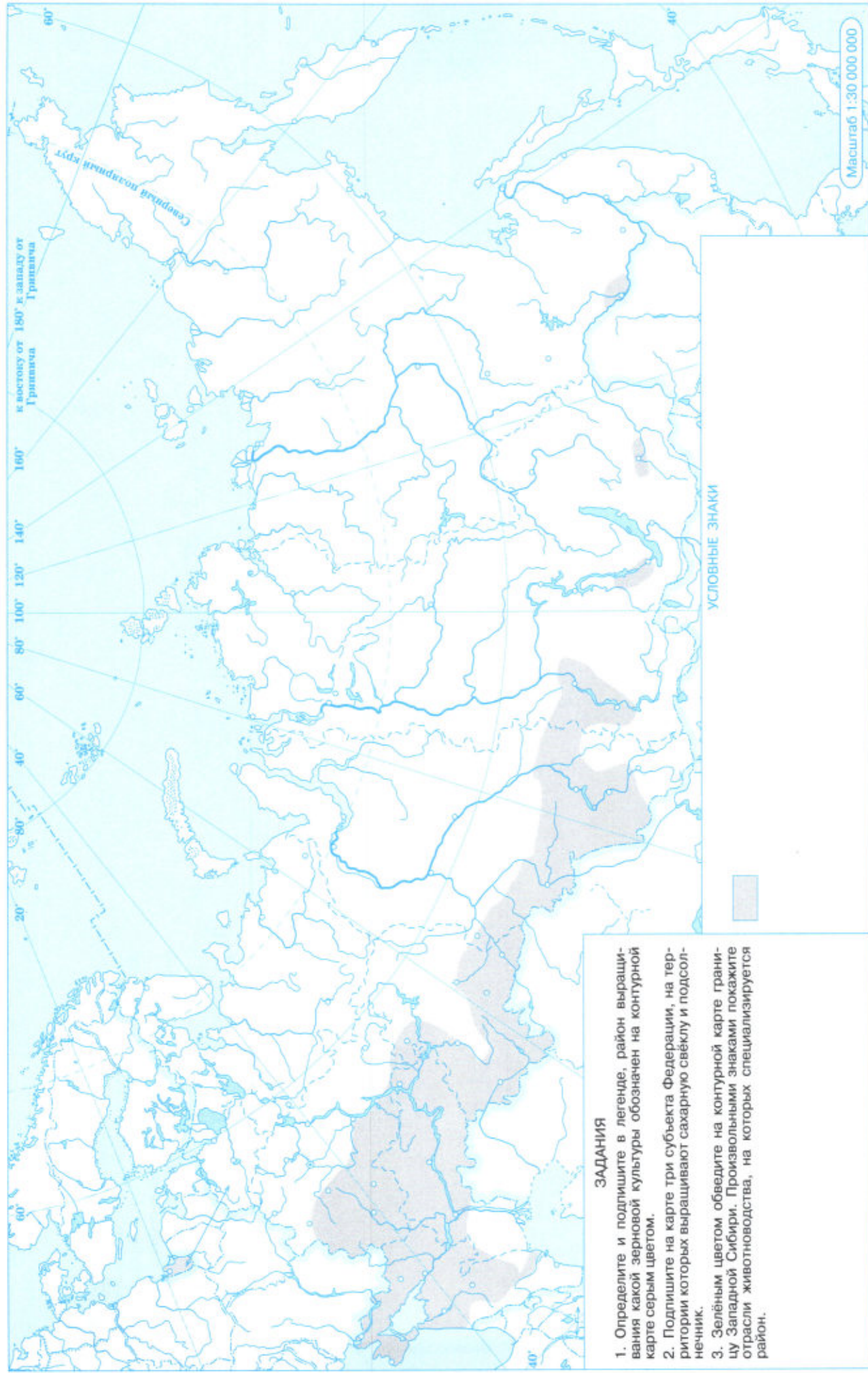
**ЗАДАНИЯ**

1. Подпишите на контурной карте названия промышленных центров: Петрозаводск, Северодвинск, Верхняя Пышма. Укажите, какие отрасли машиностроения в них развиты.
2. Подпишите на карте пять центров машиностроения, решающее влияние на размещение которых оказал потребительский фактор. Укажите специализацию этих центров.
3. Обозначьте на карте ваш населённый пункт или ближайший к нему, в котором есть машиностроительное предприятие. Произвольным условным знаком укажите, какие отрасли машиностроения в нём развиты.

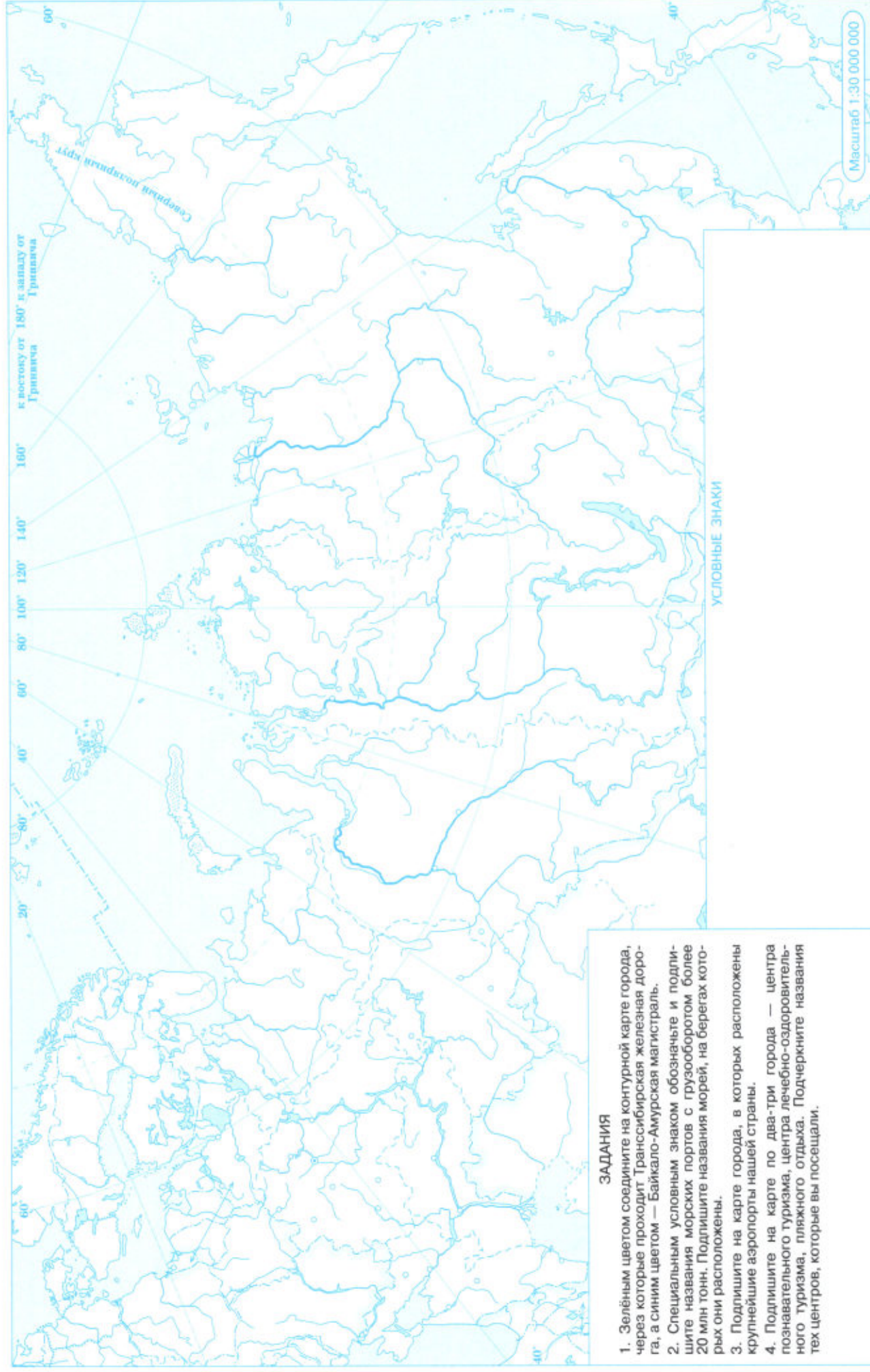
## 4 ХИМИКО-ЛЕСНОЙ КОМПЛЕКС



# СЕЛЬСКОЕ ХОЗЯЙСТВО



## 6 ТРАНСПОРТ И СФЕРА УСЛУГ

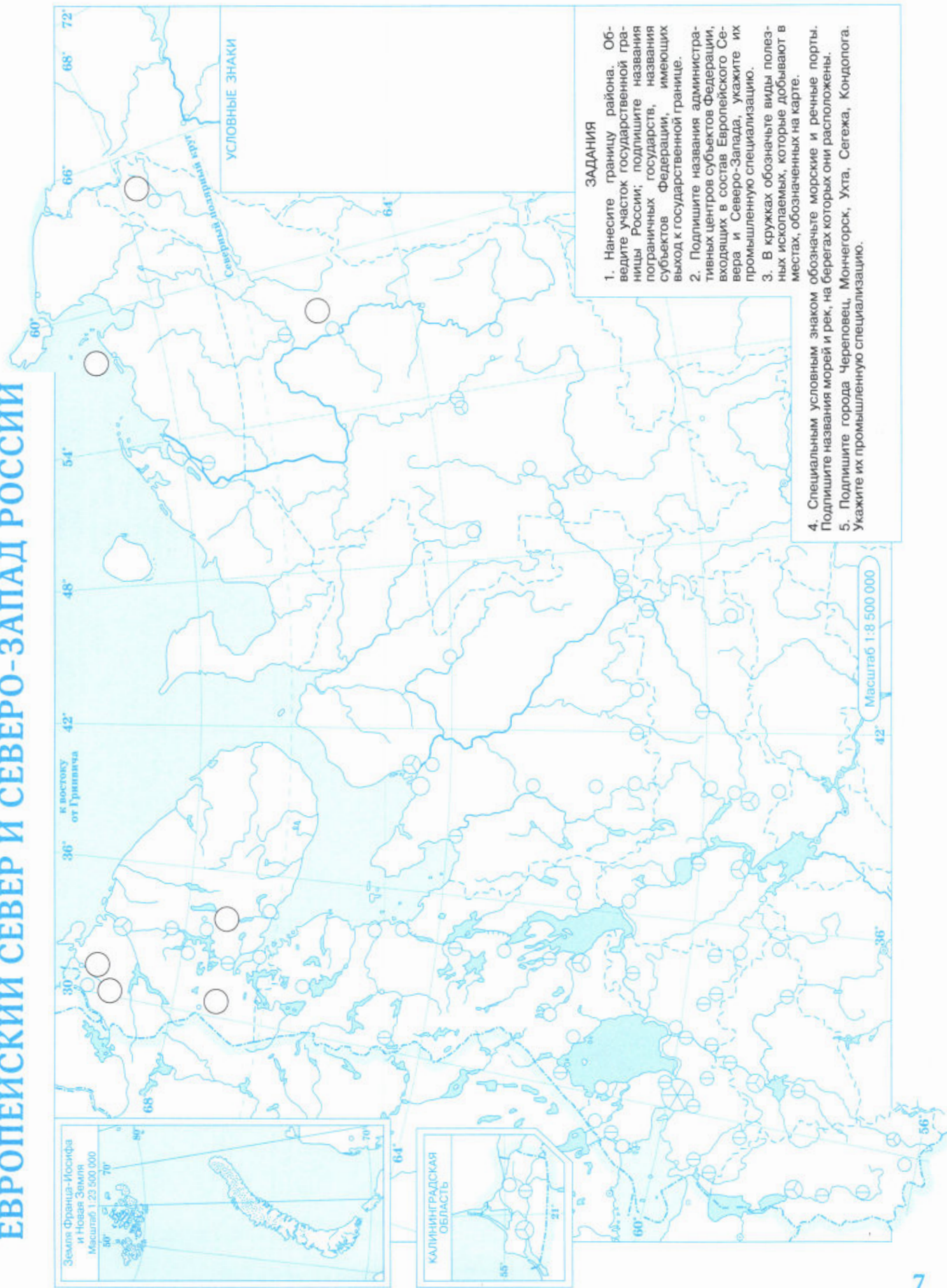


### ЗАДАНИЯ

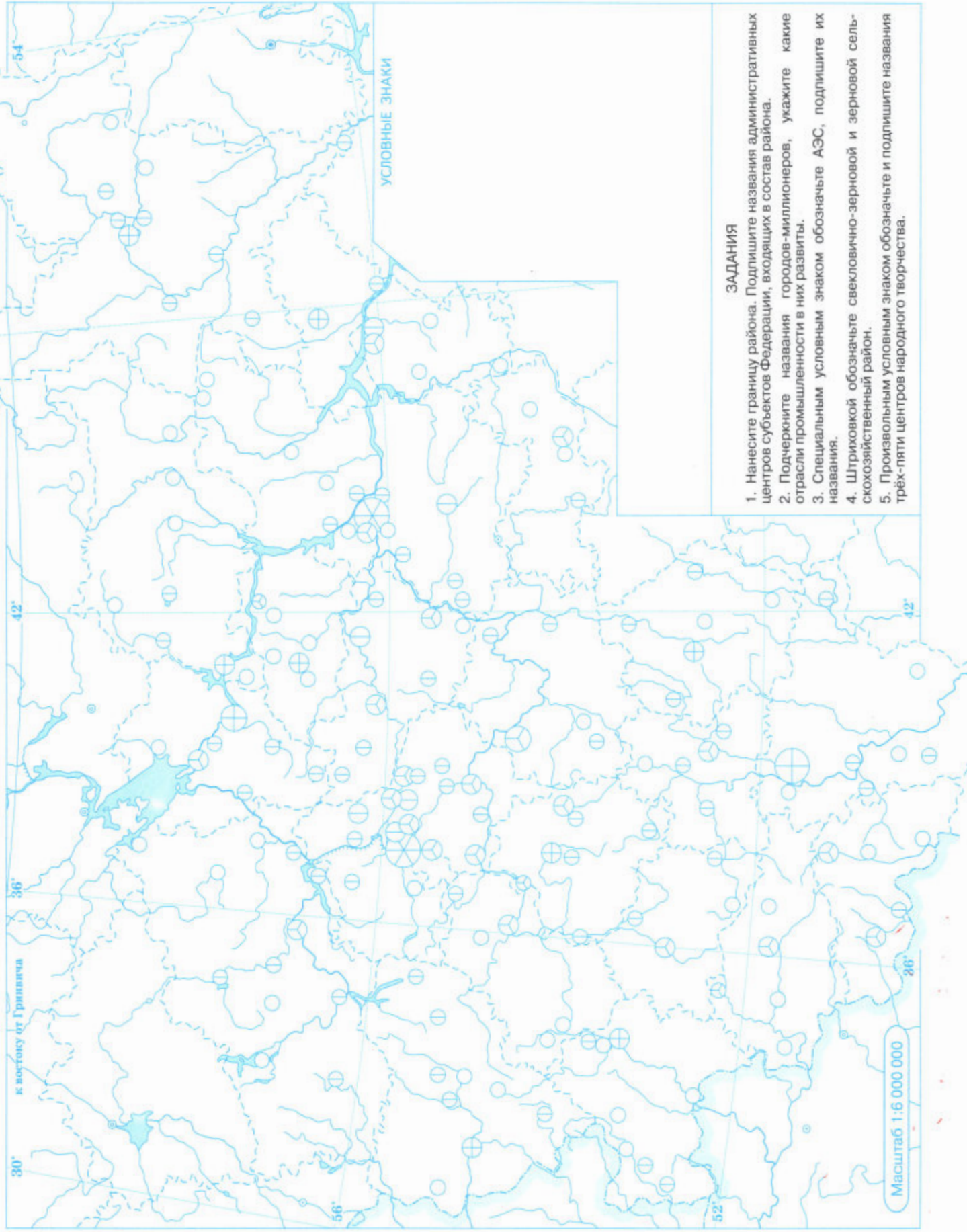
1. Зелёным цветом соедините на контурной карте города, через которые проходит Транссибирская железная дорога, а синим цветом — Байкало-Амурская магистраль.
2. Специальным условным знаком обозначьте и подпишите названия морских портов с грузооборотом более 20 млн тонн. Подпишите названия морей, на берегах которых они расположены.
3. Подпишите на карте города, в которых расположены крупнейшие аэропорты нашей страны.
4. Подпишите на карте по два-три города — центра познавательного туризма, центра лечебно-оздоровительного туризма, пляжного отдыха. Подчеркните названия тех центров, которые вы посетили.



# ЕВРОПЕЙСКИЙ СЕВЕР И СЕВЕРО-ЗАПАД РОССИИ



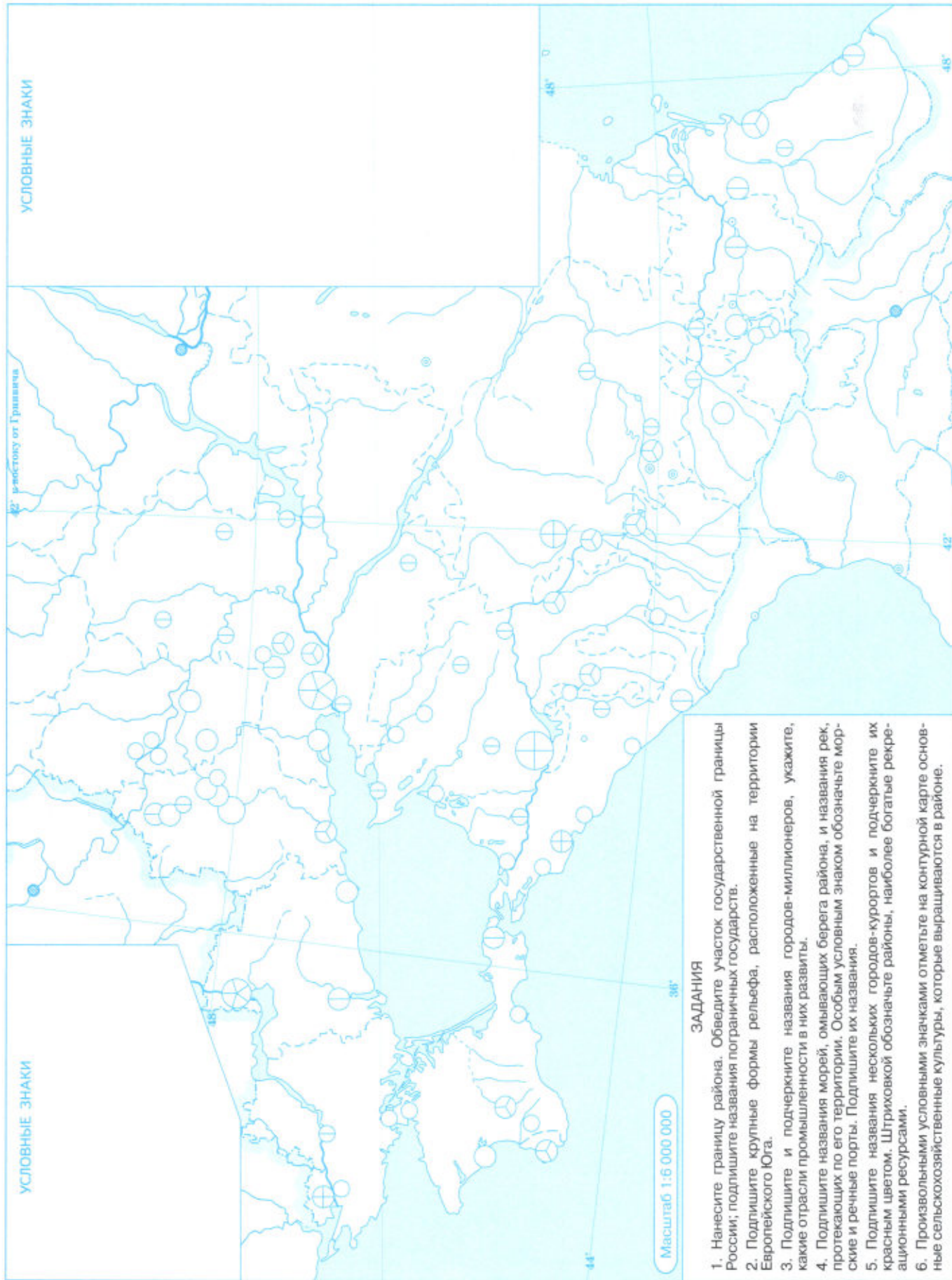
# ЦЕНТРАЛЬНАЯ РОССИЯ



## ЗАДАНИЯ

1. Нанесите границу района. Подпишите названия административных центров субъектов Федерации, входящих в состав района.
2. Подчеркните названия городов-миллионеров, укажите какие отрасли промышленности в них развиты.
3. Специальным условным знаком обозначьте АЭС, подпишите их названия.
4. Штриховкой обозначьте свекловично-зерновой и зерновой сельскохозяйственный район.
5. Произвольным условным знаком обозначьте и подпишите названия трёх-пяти центров народного творчества.

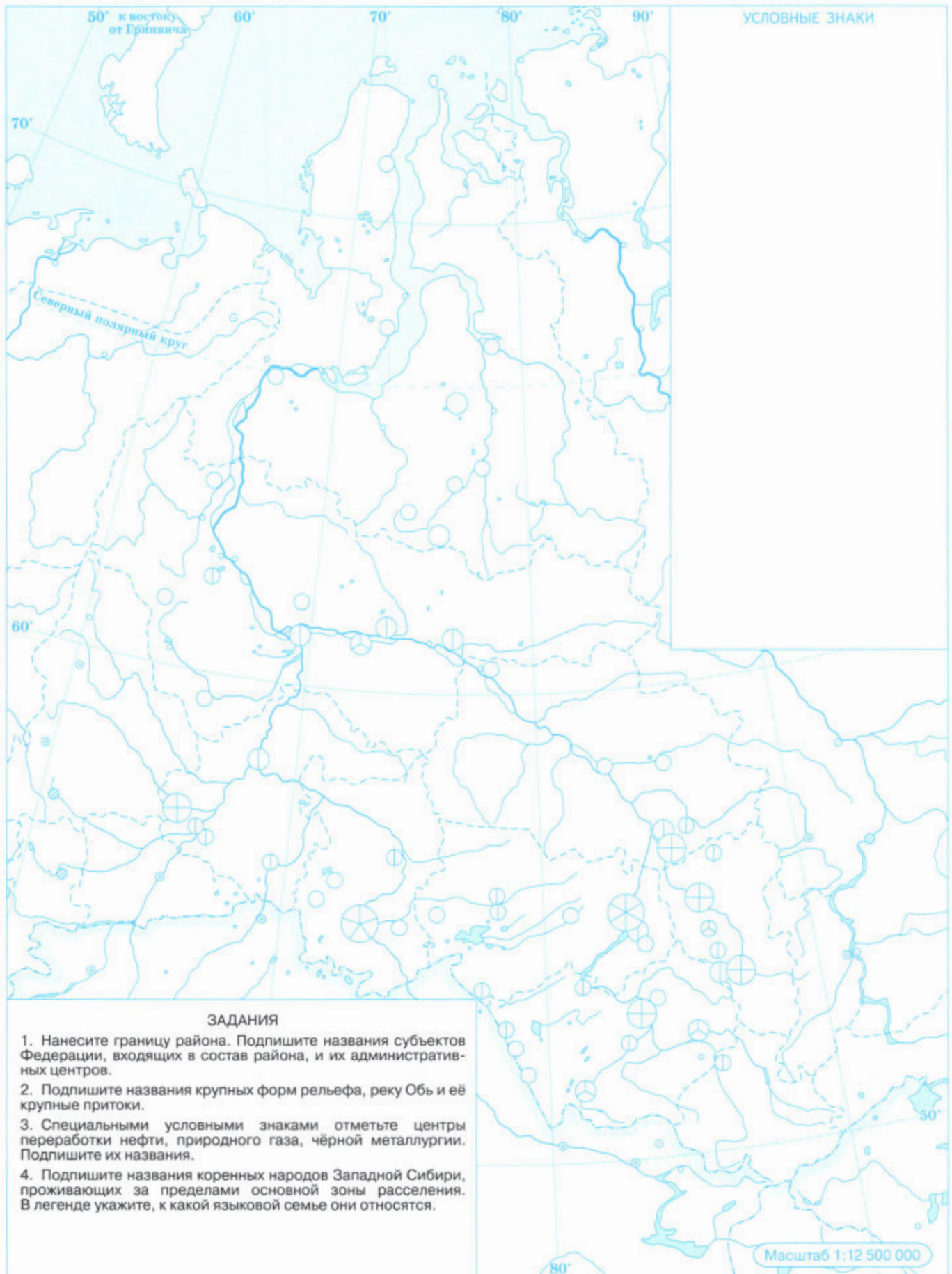
# ЕВРОПЕЙСКИЙ ЮГ РОССИИ



# ПОВОЛЖЬЕ



# ЗАПАДНАЯ СИБИРЬ



## ЗАДАНИЯ

1. Нанесите границу района. Подпишите названия субъектов Федерации, входящих в состав района, и их административных центров.
2. Подпишите названия крупных форм рельефа, реку Обь и её крупные притоки.
3. Специальными условными знаками отметьте центры переработки нефти, природного газа, чёрной металлургии. Подпишите их названия.
4. Подпишите названия коренных народов Западной Сибири, проживающих за пределами основной зоны расселения. В легенде укажите, к какой языковой семье они относятся.

Масштаб 1:12 500 000

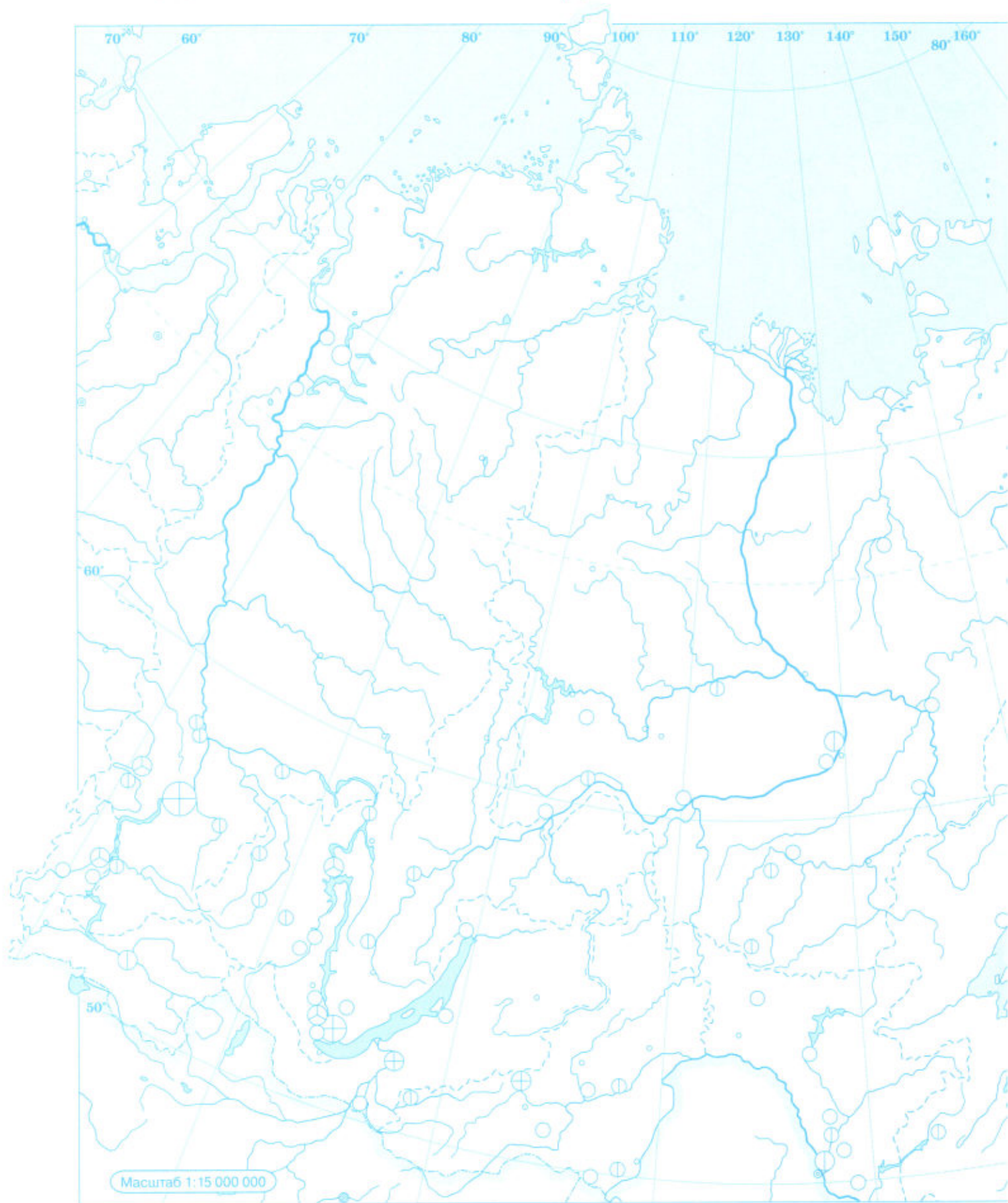
## ЗАДАНИЯ

1. Нанесите границу района. Подпишите названия географических районов, с которыми граничит Урал.
2. Укажите в легенде названия субъектов Федерации, обозначенных на карте цифрами. Подпишите названия административных центров субъектов Федерации, входящих в состав района. Подчеркните названия городов-миллионеров.
3. В кружках обозначьте виды полезных ископаемых, которые добывают в местах, обозначенных на карте. Подпишите названия пяти — семи промышленных центров, которые используют местные природные ресурсы, укажите, какие отрасли промышленности в них развиты.
4. Разными цветами обозначьте на карте районы компактного проживания двух народов финно-угорской языковой группы и двух народов тюркской языковой группы.





# ВОСТОЧНАЯ СИБИРЬ И ДАЛЬНИЙ ВОСТОК



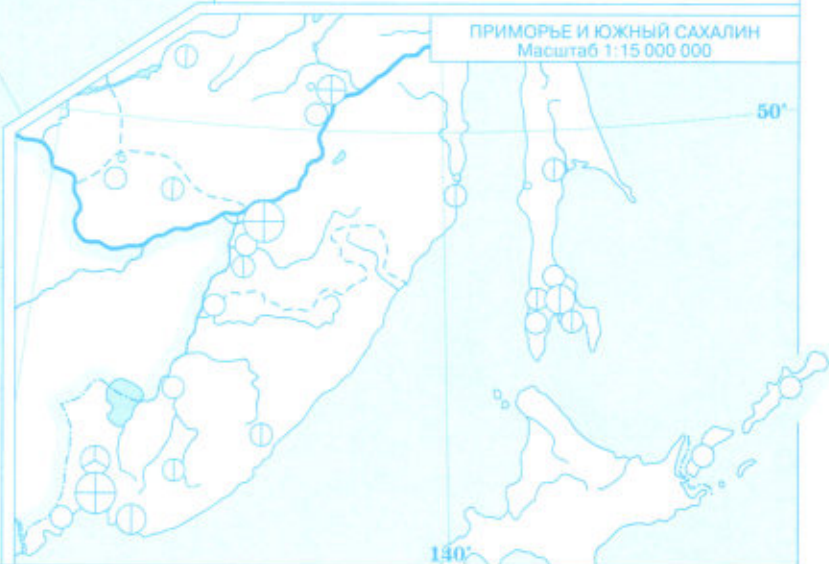




### ЗАДАНИЯ

1. Нанесите границу Восточной Сибири и Дальнего Востока. Подпишите названия субъектов Федерации, входящих в состав районов, и их административные центры.
2. Подпишите названия географических объектов, расположенных в Восточной Сибири и на Дальнем Востоке: полуостров Таймыр, полуостров Камчатка, Верхоянский хребет, Сихотэ-Алинь, Среднесибирское плоскогорье, озеро Байкал, реки: Лена, Енисей, Амур.
3. Подчеркните зелёным цветом названия субъектов Федерации, уровень урбанизации которых более 80%, и синим цветом название субъекта Федерации, плотность населения в котором составляет от 10 до 50 чел. на км<sup>2</sup>.
4. Подпишите на карте города: Норильск, Иркутск, Улан-Удэ, Усть-Илимск, Хабаровск, Владивосток, Комсомольск-на-Амуре, Якутск, Красноярск, Магадан, Южно-Сахалинск, Петропавловск-Камчатский. Цветом в кружках обозначьте промышленную специализацию этих населённых пунктов.
5. Специальными условными знаками обозначьте на карте газопровод «Сила Сибири», и нефтепровод «Восточная Сибирь — Тихий океан».

### УСЛОВНЫЕ ЗНАКИ





## СОДЕРЖАНИЕ

Страницы		Масштаб
1	ТОПЛИВНО-ЭНЕРГЕТИЧЕСКИЙ КОМПЛЕКС .....	1:30 000 000
2	МЕТАЛЛУРГИЯ .....	1:30 000 000
3	МАШИНОСТРОЕНИЕ .....	1:30 000 000
4	ХИМИКО-ЛЕСНОЙ КОМПЛЕКС .....	1:30 000 000
5	СЕЛЬСКОЕ ХОЗЯЙСТВО .....	1:30 000 000
6	ТРАНСПОРТ И СФЕРА УСЛУГ .....	1:30 000 000
7	ЕВРОПЕЙСКИЙ СЕВЕР И СЕВЕРО-ЗАПАД РОССИИ .....	1:8 500 000
8	ЦЕНТРАЛЬНАЯ РОССИЯ .....	1:6 000 000
9	ЕВРОПЕЙСКИЙ ЮГ РОССИИ .....	1:6 000 000
10	ПОВОЛЖЬЕ .....	1:6 000 000
11	ЗАПАДНАЯ СИБИРЬ .....	1:12 500 000
12–13	УРАЛ .....	1:6 000 000
14–15	ВОСТОЧНАЯ СИБИРЬ И ДАЛЬНИЙ ВОСТОК .....	1:15 000 000
16	КАРТА РОССИИ .....	1:30 000 000

УДК 373.167.1:91(084)

ББК 26.8я6

Г35

Политическое устройство мира отражено на картах по состоянию на октябрь 2022 г.

*Учебное издание*

### ГЕОГРАФИЯ

9 класс

Контурные карты

Контурные карты составлены и подготовлены к изданию АО «Издательство «Просвещение»

Редакторы *Н. В. Ольховая, А. Н. Приваловский*

Картограф *Е. Г. Волкова*

Компьютерная вёрстка *Е. Г. Волкова*

Технический редактор *А. А. Боровикова*

Корректор *Е. Е. Никулина*

Оформление обложки *Т. А. Гущина*

Подписано в печать 16.02.2023. Формат 60x90/8. Гарнитура «Прагматика».

Усл. печ. л. 2,0. Тираж 100000 экз.

Заказ №23-0813ЯПД

Акционерное общество «Издательство «Просвещение».

Российская Федерация, 127473, г. Москва, ул. Краснопролетарская, д. 16, стр. 3, этаж 4, помещение I.

Адрес электронной почты «Горячей линии» — [vopros@prosv.ru](mailto:vopros@prosv.ru)

Отпечатано в ООО «Типография Ярославский печатный двор».

В полном соответствии с качеством предоставленных материалов.

Юр. адрес: 150003, г. Ярославль, ул. Полушкина роща д.9, строение 17, офис 94.

ISBN 978-5-09-107362-1

© Картографическая основа. Росреестр, 2014

© АО «Издательство «Просвещение», 2021

© Художественное оформление.

АО «Издательство «Просвещение», 2021

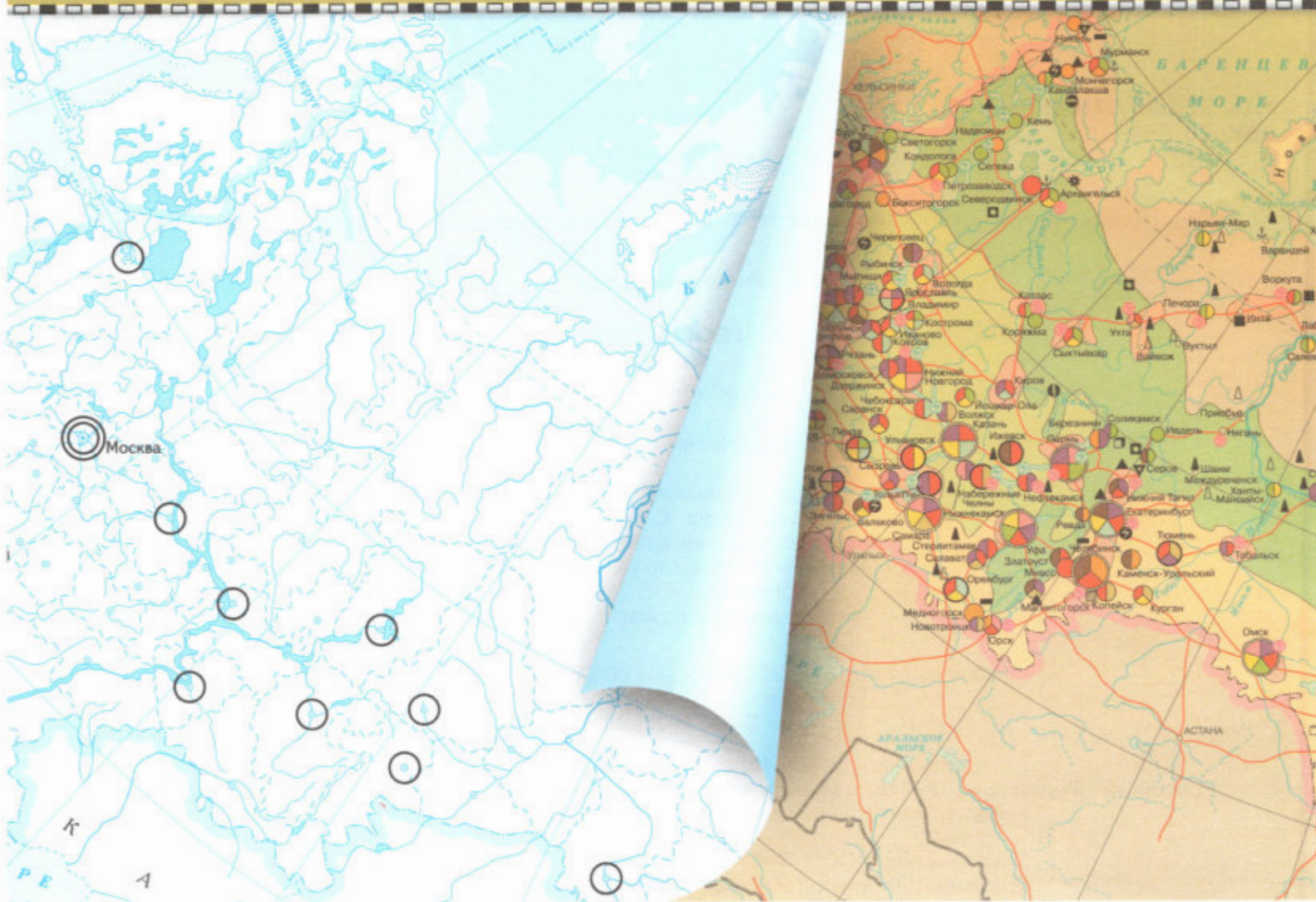
Все права защищены



# география

# 9

## класс



Официальный интернет-магазин издательства «Просвещение» [shop.prosv.ru](http://shop.prosv.ru)

12+

ISBN 978-5-09-107362-1



9 785091 073621



ПРОСВЕЩЕНИЕ  
ИЗДАТЕЛЬСТВО

[www.prosv.ru](http://www.prosv.ru)

