




АТЛАС

ЭКОНОМИЧЕСКАЯ И СОЦИАЛЬНАЯ
9 ГЕОГРАФИЯ РОССИИ
класс



С КОМПЛЕКТОМ КОНТУРНЫХ КАРТ

ГИА

ГОТОВИМСЯ
К ЭКЗАМЕНАМ

АСТ-ПРЕСС
ИЗДАТЕЛЬСКИЙ ДОМ

СОДЕРЖАНИЕ

Страницы	Масштаб
1 УСЛОВНЫЕ ОБОЗНАЧЕНИЯ	
2–3 ФИЗИЧЕСКАЯ КАРТА	1:25 000 000
4–5 ФЕДЕРАТИВНОЕ УСТРОЙСТВО НАСЕЛЕНИЕ	1:25 000 000
6–7 Плотность населения	1:30 000 000
7 Доля детей и подростков в населении России	1:60 000 000
Доля пожилых людей в населении России	1:60 000 000
8–9 Народы	1:30 000 000
9 Религии народов России	1:60 000 000
ХОЗЯЙСТВО	
10–11 Производство промышленной и сельскохозяйственной продукции	1:30 000 000
11 Экономическое районирование	1:60 000 000
АГРОПРОМЫШЛЕННЫЙ КОМПЛЕКС	
12 Производство зерна	1:40 000 000
Производство картофеля	1:40 000 000
13 Производство мяса	1:40 000 000
Производство молока	1:40 000 000
14 Сельскохозяйственные районы	1:40 000 000
15 Пищевая промышленность	1:40 000 000
Лёгкая промышленность	1:40 000 000
ТОПЛИВНО–ЭНЕРГЕТИЧЕСКИЙ КОМПЛЕКС	
16 Нефтяная промышленность	1:40 000 000
17 Газовая промышленность	1:40 000 000
Газопроводы Центральной России	
18 Угольная промышленность	1:40 000 000
19 Электроэнергетика	1:40 000 000
Производство электроэнергии	1:60 000 000
МЕТАЛЛУРГИЧЕСКИЙ КОМПЛЕКС	
20 Чёрная металлургия	1:40 000 000
Цветная металлургия	1:40 000 000
ХИМИКО–ЛЕСНОЙ КОМПЛЕКС	
21 Производство минеральных удобрений	1:40 000 000
Производство шин	1:40 000 000
Лесная промышленность	1:40 000 000
МАШИНОСТРОИТЕЛЬНЫЙ КОМПЛЕКС	
22 Производство продукции машиностроения	1:40 000 000
Автомобильная промышленность. Тракторное и сельскохозяйственное машиностроение	1:40 000 000
23 Авиационная и ракетно-космическая промышленность	1:40 000 000
Железнодорожное машиностроение. Судостроение	1:40 000 000
ТРАНСПОРТ	
24–25 Транспорт	1:30 000 000
24 Плотность автодорог	1:60 000 000
ЭКОНОМИЧЕСКИЕ РАЙОНЫ	
26–27 Северный и Северо-Западный	1:8 000 000
27 Калининградская область	1:2 250 000
28–29 Центральный, Волго-Вятский и Центрально-Чернозёмный	1:6 000 000
30 Поволжский	1:6 000 000
31 Северо-Кавказский	1:6 000 000
Крымский	1:4 700 000
32 Уральский	1:6 000 000
33 Центральная часть Уральского экономического района	1:3 000 000
34 Западно-Сибирский	1:12 500 000
35 Восточно-Сибирский	1:12 500 000
36–37 Дальневосточный	1:15 000 000
38–39 Объекты Всемирного наследия ЮНЕСКО	1:24 000 000
ВНЕШНЕЭКОНОМИЧЕСКИЕ СВЯЗИ РОССИИ	
40 Россия и мир. Внешняя торговля	1:165 000 000
Россия и страны Зарубежной Европы. Внешняя торговля	1:30 000 000

НАСЕЛЕННЫЕ ПУНКТЫ

НА ФИЗИЧЕСКОЙ КАРТЕ

○ МОСКВА

Столицы государств

○ Пермь

Прочие населенные пункты

НА ТЕМАТИЧЕСКИХ КАРТАХ

○ МОСКВА

○ Пермь

НА КАРТЕ ФЕДЕРАТИВНОГО УСТРОЙСТВА

МОСКВА	Столицы государств	○	1 000 000 и более жителей
КАЗАНЬ	Столицы и центры субъектов Российской Федерации	○	от 500 000 до 1 000 000 жителей
Ухта	Прочие города и поселки городского типа	○	от 100 000 до 500 000 жителей
Оленек	Населенные пункты сельского типа	○	от 50 000 до 100 000 жителей
		○	менее 50 000 жителей

НА КАРТАХ ЭКОНОМИЧЕСКИХ РАЙОНОВ

○	МОСКВА	1 000 000 и более жителей
○	ВОРОНЕЖ	от 500 000 до 1 000 000 жителей
○	Ухта	от 100 000 до 500 000 жителей
○	Тихвин	от 50 000 до 100 000 жителей
○	Луга	менее 50 000 жителей

ПОДЧЕРКАМИ НАЗВАНИЙ ВЫДЕЛЕНА

—	Столицы государств
- - -	Столицы и центры субъектов Российской Федерации
—	Центры федеральных округов Российской Федерации

ГРАНИЦЫ

—	государственные
- - -	полярных владений Российской Федерации
- - -	субъектов Российской Федерации
—	экономических районов

* На картах экономических районов
** На тематических картах

БЕЛОРУССИЯ	Названия государств
Липецкая область	Названия субъектов Российской Федерации

ПУТИ СООБЩЕНИЯ

— — — — —	Железные дороги и железнодорожные паромные переправы
— — — — —	Автомобильные дороги магистральные
— — — — —	прочие

— — — — —	Нефтепроводы
— — — — —	Газопроводы

ГИДРОГРАФИЯ

— — — — —	Реки, судоходные участки рек
○	Озера пресные, отметки урезов воды над уровнем моря
○	Озера соленые
— — — — —	Реки пересыхающие и озера с меняющейся береговой линией
— — — — —	Каналы судоходные

РЕЛЬЕФ

.166	Отметки высот над уровнем моря в метрах
788	Отметки глубин в метрах

ПРОЧИЕ ОБЪЕКТЫ

— — — — —	Болота
— — — — —	Солончаки
— — — — —	Пески
— — — — —	Леса
— — — — —	Ледники и вечные снега
— — — — —	Границы национальных парков и государственных заповедников
↓	Морские порты и речные пристани
↑	Аэропорты

БЕРХОЯНСКИЙ ХРЕБЕТ	Орографические названия
Возейское	Названия мест добычи полезных ископаемых, пояснительные подписи

НА КАРТАХ МАСШТАБОВ 1 : 500 000 и 1 : 1 000 000

НАСЕЛЕННЫЕ ПУНКТЫ

По количеству жителей

САМАРА	Города	1 000 000 и более
ХАБАРОВСК		от 500 000 до 1 000 000
ХИМКИ		от 100 000 до 500 000
ВИДНОЕ		от 50 000 до 100 000
КОЛЬЦОВО		от 10 000 до 50 000
ЛУКИНО		менее 10 000
ПУЛКОВО		части города

Поселки городского типа*

ДУБРОВКА	2 000 и более
САПЕРНЫЙ	менее 2 000

Поселки сельского типа

Кагальник	1 000 и более
Нов. Роша*	
Южки	менее 1 000
Павлово*	

* На картах масштаба 1 : 500 000

По типу поселения

	Города с населением 50 000 жителей и более, крупные железнодорожные узлы
	Города с населением менее 50 000 жителей и поселки городского типа
	Населенные пункты сельского типа

ПУТИ СООБЩЕНИЯ

Железные дороги

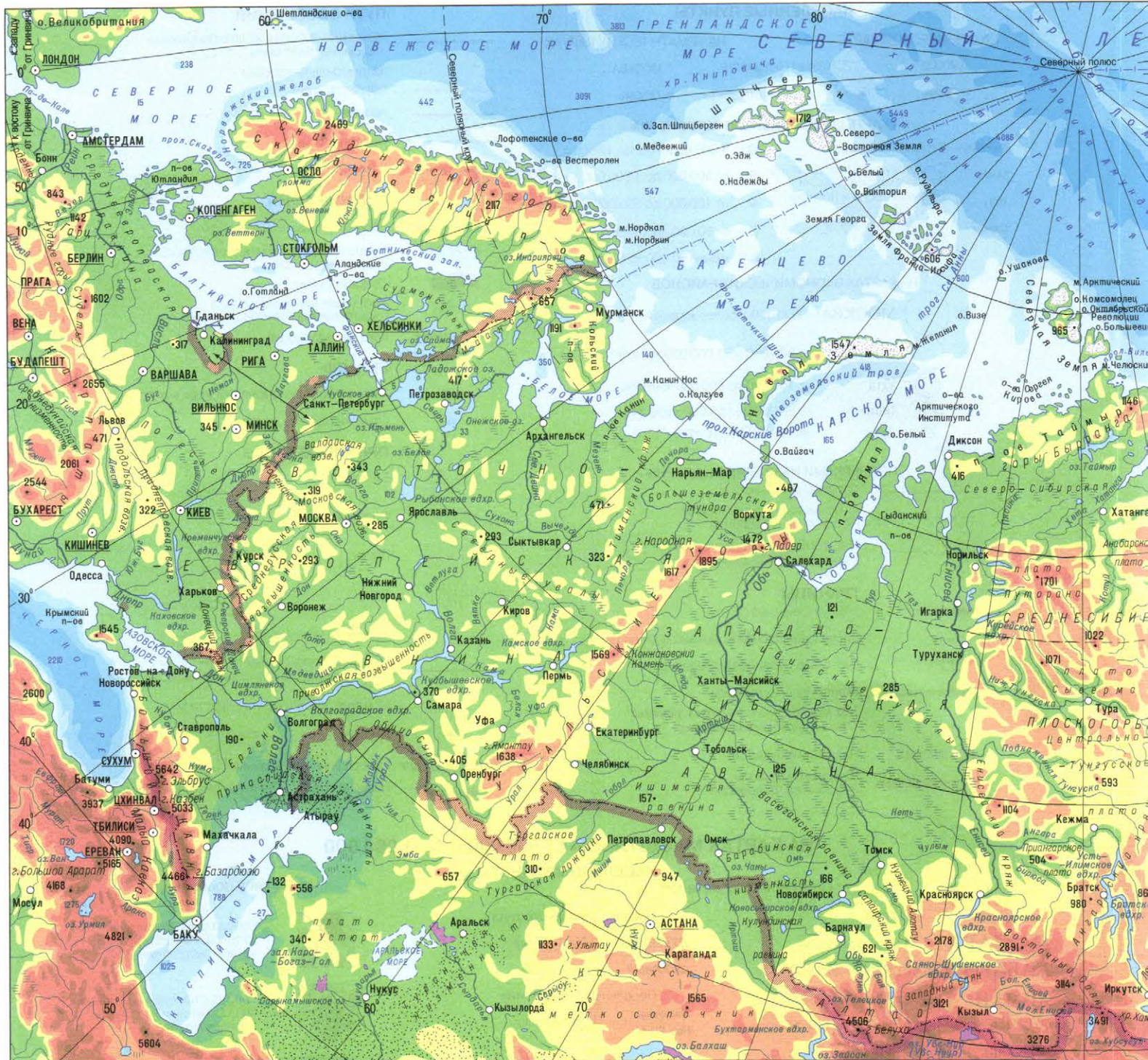
— — — — —	однопутные, двухпутные. Станции и разъезды
— — — — —	электрифицированные

Автомобильные дороги

— — — — —	автострადы
— — — — —	с усовершенствованным покрытием
— — — — —	без покрытия

- Примечания. 1. Условные знаки, помещенные в легендах карт атласа, в данной таблице не показаны.
2. Размеры знаков центров промышленности на тематических (отраслевых) картах показывают их относительное экономическое значение (важность).
3. На картах экономических районов названия областей, одноименные с названиями их центров, на карте не подписаны, кроме областей, в состав которых входят автономные округа.
4. Количество жителей в регионах и населенных пунктах дано по состоянию на 1. 01. 2015 г.

2 ФИЗИЧЕСКАЯ КАРТА






Территория России расположена в восточной части Европы и в северной части Азии. Площадь России 17,1 млн кв. км. Ее территория омывается морями Атлантического, Северного Ледовитого и Тихого океанов.

Около 3/4 территории занимают равнины. Крупнейшие из них: Восточно-Европейская и Западно-Сибирская равнины. На юге и востоке страны преобладают горные области: северные хребты Большого Кавказа (здесь находится самая высокая точка России – г. Эльбрус, 5642 м), Алтай, Кузнецкий Алатау, Саяны; хребты: Яблонувый, Верхоянский и Черского, Сихотэ-Алинь; нагорья: Становое, Колымское и др. На полуострове Камчатка и Курильских островах много действующих вулканов.

В России около 120 тыс. рек (длиною более 10 км). Наиболее крупные из них (длина в км): Обь с притоком Иртыш (5410), Амур с Аргунью (4444), Лена (4400), Енисей (4092), Волга (3530). В стране насчитывается около 2 млн озер. Наиболее значительные из них: Каспийское море, Байкал, Ладожское, Онежское, Таймыр.







РОССИЙСКАЯ ФЕДЕРАЦИЯ – РОССИЯ

Столица – город Москва
 Российская Федерация состоит из республик, краев, областей, городов федерального значения, автономной области, автономных округов – равноправных субъектов Российской Федерации.
 Административно-территориальное деление:
 22 республики, 9 краев, 46 областей, 1 автономная область, 4 автономных округа, 3 города федерального значения.
 Они объединены в 9 федеральных округов.



СУБЪЕКТЫ РОССИЙСКОЙ ФЕДЕРАЦИИ, ИХ СТОЛИЦЫ И ЦЕНТРЫ

Республика Адыгея (Адыгея)	Майкоп	Красноярский край	Красноярск	Мурманская область	Мурманск
Республика Алтай	Горно-Алтайск	Пермский край	Пермь	Нижегородская область	Нижний Новгород
Республика Башкортостан	Уфа	Приморский край	Владивосток	Новгородская область	Великий Новгород
Республика Бурятия	Улан-Удэ	Ставропольский край	Ставрополь	Новосибирская область	Новосибирск
Республика Дагестан	Магачкала	Амурская область	Хабаровск	Омская область	Омск
Республика Ингушетия	Магас	Архангельская область	Архангельск	Оренбургская область	Оренбург
Кабардино-Балкарская Республика	Нальчик	Ненецкий автономный округ	Нарьян-Мар	Орловская область	Орел
Республика Карелия	Элиста	Астраханская область	Астрахань	Пензенская область	Пенза
Республика Калмыкия	Черкесск	Белгородская область	Белгород	Псковская область	Псков
Республика Крым	Петрозаводск	Брянская область	Брянск	Ростовская область	Ростов-на-Дону
Республика Марий Эл	Сыктывкар	Владимирская область	Владимир	Рязанская область	Рязань
Республика Мордовия	Ижевск	Волгоградская область	Волгоград	Самарская область	Самара
Республика Саха (Якутия)	Якутск	Вологодская область	Вологда	Саратовская область	Саратов
Республика Северная Осетия – Алания	Владикавказ	Воронежская область	Воронеж	Сахалинская область	Южно-Сахалинск
Республика Татарстан (Татарстан)	Казань	Ивановская область	Иваново	Свердловская область	Екатеринбург
Республика Тыва	Кызыл	Иркутская область	Иркутск	Смоленская область	Смоленск
Удмуртская Республика	Ижевск	Калининградская область	Калининград	Тамбовская область	Тамбов
Республика Хакасия	Абакан	Калужская область	Калуга	Тверская область	Тверь
Чеченская Республика	Грозный	Кемеровская область	Кемерово	Томская область	Томск
Чувашская Республика – Чувашия	Чебоксары	Кировская область	Киров	Тульская область	Тула
Алтайский край	Барнаул	Костромская область	Кострома	Тюменская область	Тюмень
Забайкальский край	Чита	Курганская область	Курган	Ханты-Мансийский автономный округ – Югра	Ханты-Мансийск
Камчатский край	Петропавловск-Камчатский	Курская область	Курск	Ямало-Ненецкий автономный округ	Салехард
Краснодарский край	Краснодар	Ленинградская область	Санкт-Петербург	Ульяновская область	Ульяновск
		Липецкая область	Липецк	Челябинская область	Челябинск
		Магаданская область	Магадан	Ярославская область	Ярославль
		Московская область	Москва		



Города федерального значения:
 Москва – столица Российской Федерации
 Санкт-Петербург
 Севастополь

Граница субъектов Российской Федерации
 Граница федеральных округов

Еврейская автономная область Биробиджан
 Чукотский автономный округ Анадырь

ФЕДЕРАЛЬНЫЕ ОКРУГА РОССИЙСКОЙ ФЕДЕРАЦИИ И ИХ ЦЕНТРЫ

1 Северо-Западный	Санкт-Петербург
2 Центральный	Москва
3 Приволжский	Нижний Новгород
4 Южный	Ростов-на-Дону
5 Уральский	Екатеринбург
6 Сибирский	Новосибирск
7 Дальневосточный	Хабаровск
8 Северо-Кавказский	Пятигорск
9 Крымский	Симферополь




- Цифрами на карте обозначены
- | | |
|--------------------------------------|--|
| 1 Ленинградская область | 14 Республика Северная Осетия - Алания |
| 2 Нижегородская область | 15 Республика Ингушетия |
| 3 Республика Марий Эл | 16 Чеченская Республика |
| 4 Чувашская Республика - Чувашия | 17 Республика Дагестан |
| 5 Республика Мордовия | 18 Республика Хакасия |
| 6 Пермский край | 19 Республика Алтай |
| 7 Удмуртская Республика | 20 Еврейская автономная область |
| 8 Республика Татарстан (Татарстан) | 21 Сахалинская область |
| 9 Республика Башкортостан | 22 Краснодарский край |
| 10 Республика Адыгея (Адыгея) | 23 Ставропольский край |
| 11 Карачаево-Черкесская Республика | 24 Республика Крым |
| 12 Республика Калмыкия | 25 Абхазия |
| 13 Кабардино-Балкарская Республика | 26 Южная Осетия |


Примечания.

- Административно-территориальное деление Российской Федерации дано на 1 января 2015 г.
- Граница между Республикой Ингушетия и Чеченской Республикой на карте не показана. В соответствии с Законом Российской Федерации "Об образовании Ингушской Республики в составе Российской Федерации" от 4 июня 1992 г. для подготовки правовых и организационных мероприятий по государственно-территориальному разграничению установлен переходный период.
- Названия субъектов Российской Федерации, одноименные с названиями их центров, на карте не подписаны, кроме тех, в состав которых входят автономные округа.

Масштаб 1: 25 000 000 (в 1 см 250 км)



Москва



Санкт-Петербург. Петродворец



Севастополь



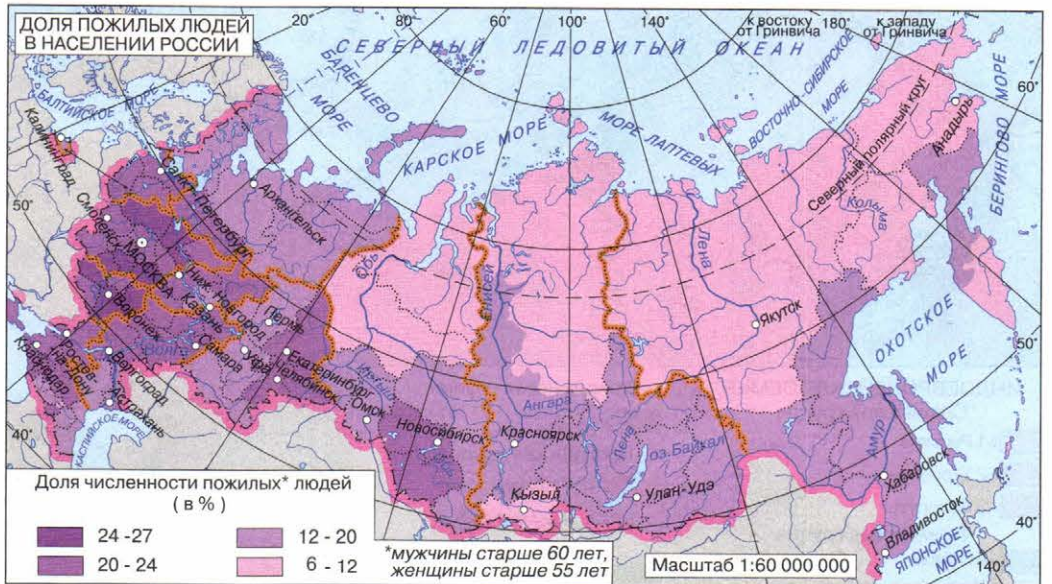
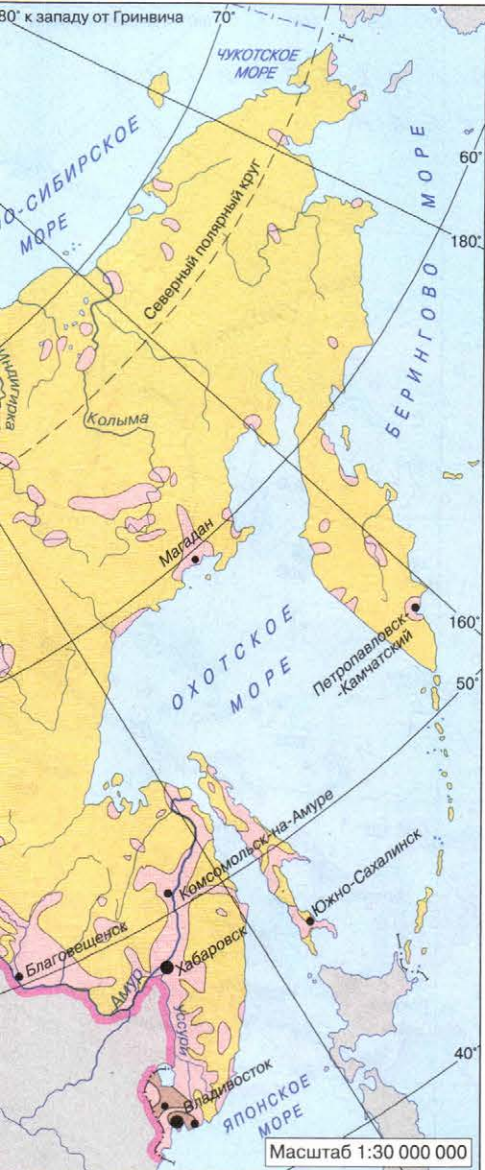
Петропавловск-Камчатский

6 НАСЕЛЕНИЕ


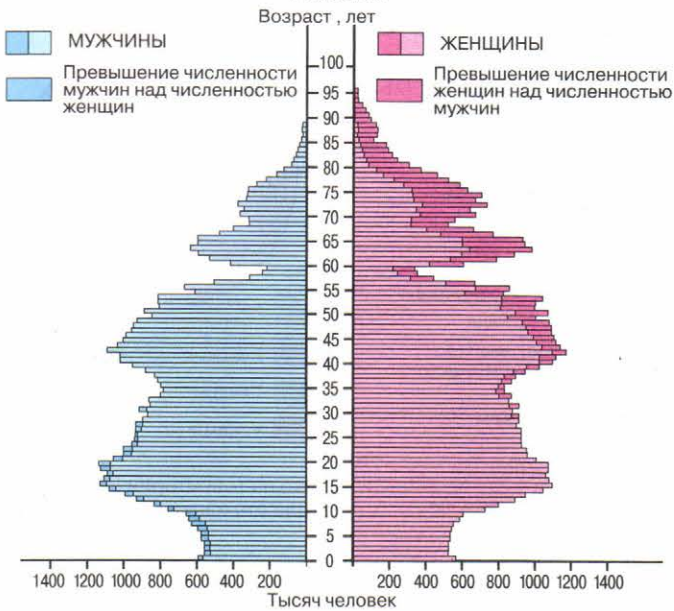


Регионы, где неблагоприятные и малоблагоприятные природные условия жизни людей, почти не заселены. Там плотность населения может быть менее 1 человека на 1 квадратный километр.

Регионы с благоприятными природными условиями жизни людей имеют высокую плотность населения. На их территории сосредоточены города, имеющие население, превышающее 1 миллион человек.



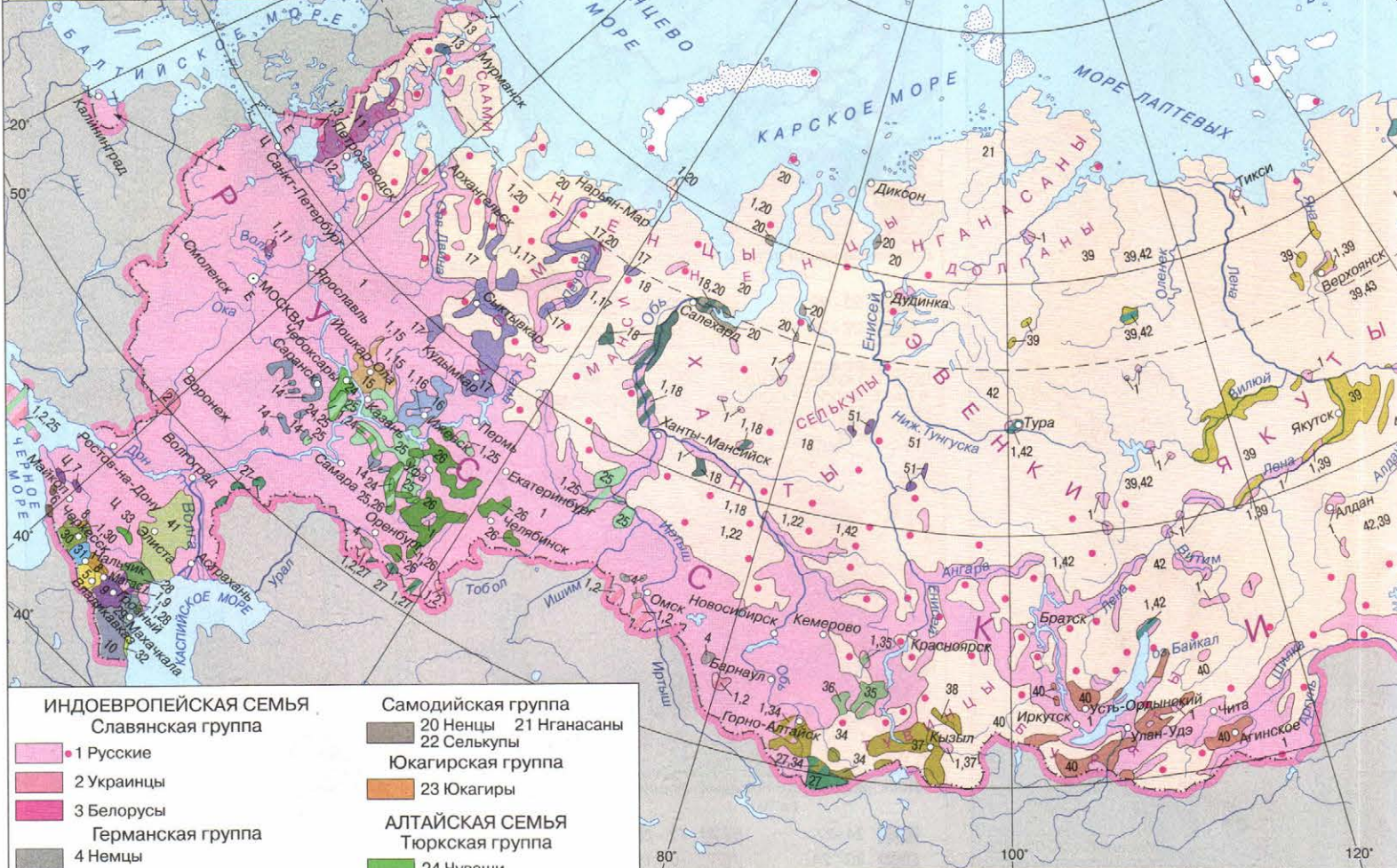
ВОЗРАСТНО-ПОЛОВАЯ СТРУКТУРА НАСЕЛЕНИЯ РОССИИ



8 НАСЕЛЕНИЕ

НАРОДЫ

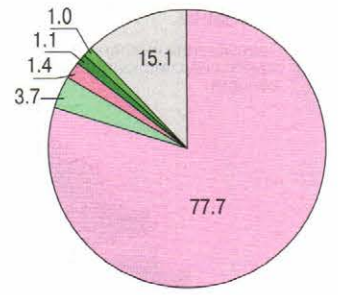
Носителем суверенитета и единственным источником власти в Российской Федерации является ее многонациональный народ.
Конституция Российской Федерации
Раздел 1, глава 1, статья 3



- | | |
|---|--|
| ИНДОЕВРОПЕЙСКАЯ СЕМЬЯ
Славянская группа | Самодийская группа |
| 1 Русские | 20 Ненцы 21 Нганасаны |
| 2 Украинцы | 22 Селькупы |
| 3 Белорусы | Юкагирская группа |
| Германская группа | 23 Юкагиры |
| 4 Немцы | АЛТАЙСКАЯ СЕМЬЯ |
| Иранская группа | Тюркская группа |
| 5 Осетины | 24 Чуваша |
| Армянская группа | 25 Татары |
| 6 Армяне | 26 Башкиры |
| СЕВЕРОКАВКАЗСКАЯ СЕМЬЯ | 27 Казахи |
| Абхазско-адыгская группа | 28 Ногайцы |
| 7 Адыгейцы | 29 Кумыки |
| 8 Кабардинцы и черкесы | 30 Карачаевцы |
| Нахско-дагестанская группа | 31 Балкарцы |
| 9 Чеченцы и ингуши | 32 Азербайджанцы |
| 10 Аварцы, даргинцы, лакцы и лезгинцы | 33 Туркмены |
| УРАЛЬСКО-ЮКАГИРСКАЯ СЕМЬЯ | 34 Алтайцы |
| Финно-угорская группа | 35 Хакасы 36 Шорцы |
| 11 Карелы | 37 Тувинцы 38 Тофалары |
| 12 Вепсы | 39 Якуты и долганы |
| 13 Саамы | Монгольская группа |
| 14 Мордва | 40 Буряты |
| 15 Марийцы | 41 Калмыки |
| 16 Удмурты | Тунгусо-маньчжурская группа |
| 17 Коми и коми-пермяки | 42 Эвенки 43 Эвены |
| 18 Ханты 19 Манси | 44 Нанайцы, ульчи, ороки, удэгейцы и орочи |

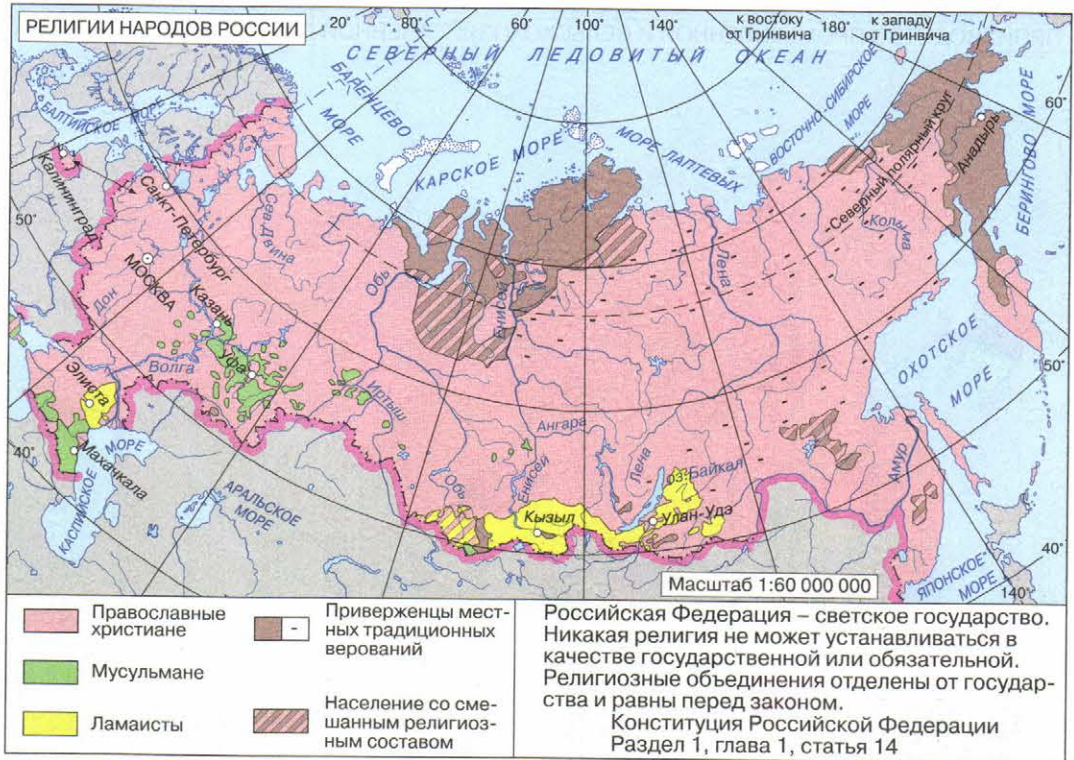
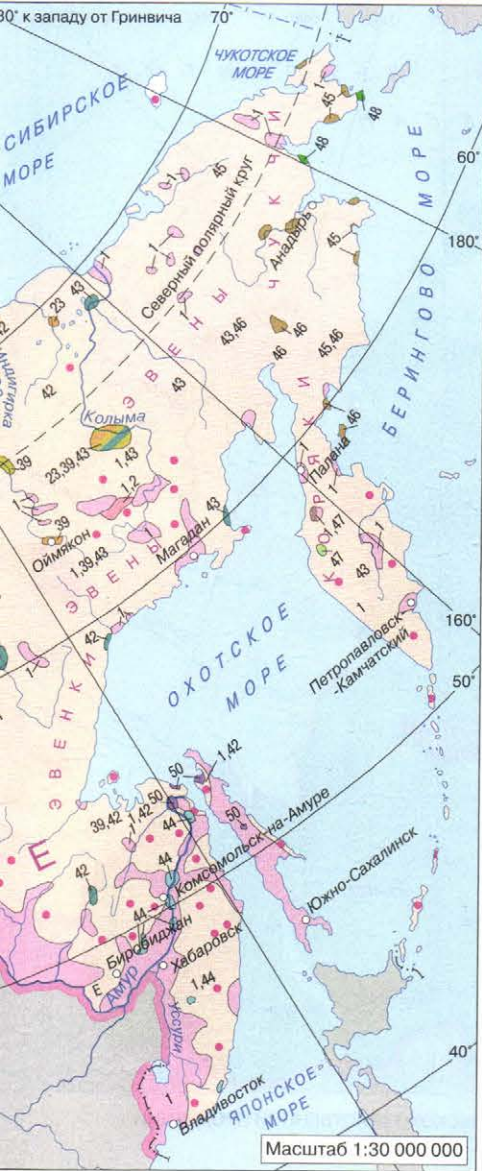
- | | |
|--|-----------------------|
| ЧУКОТСКО-КАМЧАТСКАЯ СЕМЬЯ | 45 Чукчи 46 Коряки |
| | 47 Ительмены |
| ЭСКИМОССКО-АЛЕУТСКАЯ СЕМЬЯ | 48 Эскимосы 49 Алеуты |
| Народы, говорящие на изолированных языках | 50 Нивхи 51 Кеты |
| Буквами на карте обозначены | |
| Е - Евреи Ц - Цыгане | |
| Территории с населением смешанного национального состава | |
| Территории с редким населением | |
| Незаселенные территории | |

НАЦИОНАЛЬНАЯ СТРУКТУРА НАСЕЛЕНИЯ (в %)




- | | |
|----------|---------|
| Русские | Башкиры |
| Татары | Чуваша |
| Украинцы | Другие |

Всего на территории России проживает свыше ста наций и народностей



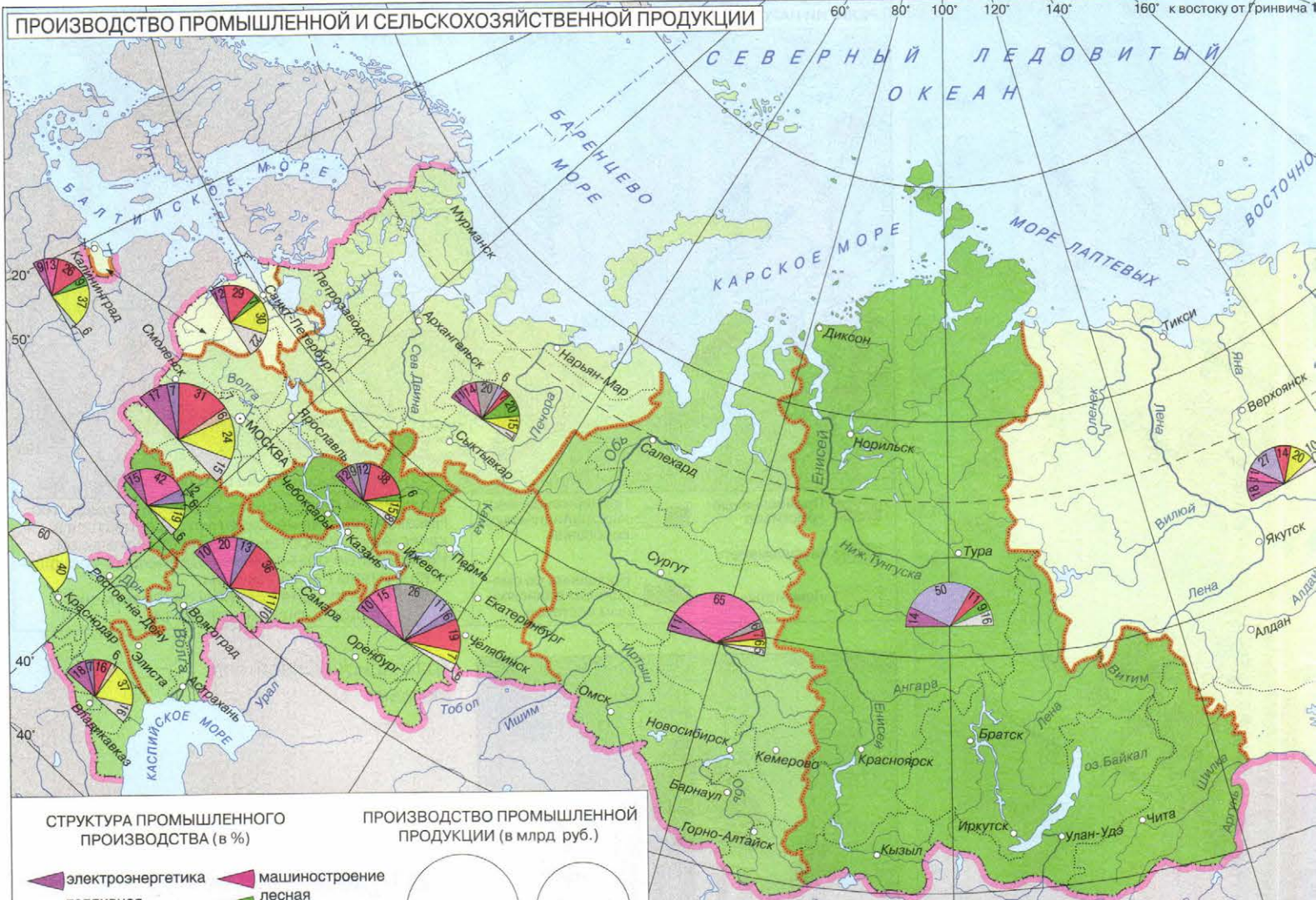
Храм Христа Спасителя.
Москва

Мечеть Кул Шариф.
Казань



Дацан Хамбын Сумэ.
Республика Бурятия

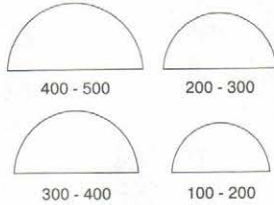
ПРОИЗВОДСТВО ПРОМЫШЛЕННОЙ И СЕЛЬСКОХОЗЯЙСТВЕННОЙ ПРОДУКЦИИ



СТРУКТУРА ПРОМЫШЛЕННОГО ПРОИЗВОДСТВА (в %)




ПРОИЗВОДСТВО ПРОМЫШЛЕННОЙ ПРОДУКЦИИ (в млрд. руб.)



ПРОИЗВОДСТВО СЕЛЬСКОХОЗЯЙСТВЕННОЙ ПРОДУКЦИИ НА ДУШУ НАСЕЛЕНИЯ (в тыс. руб.)



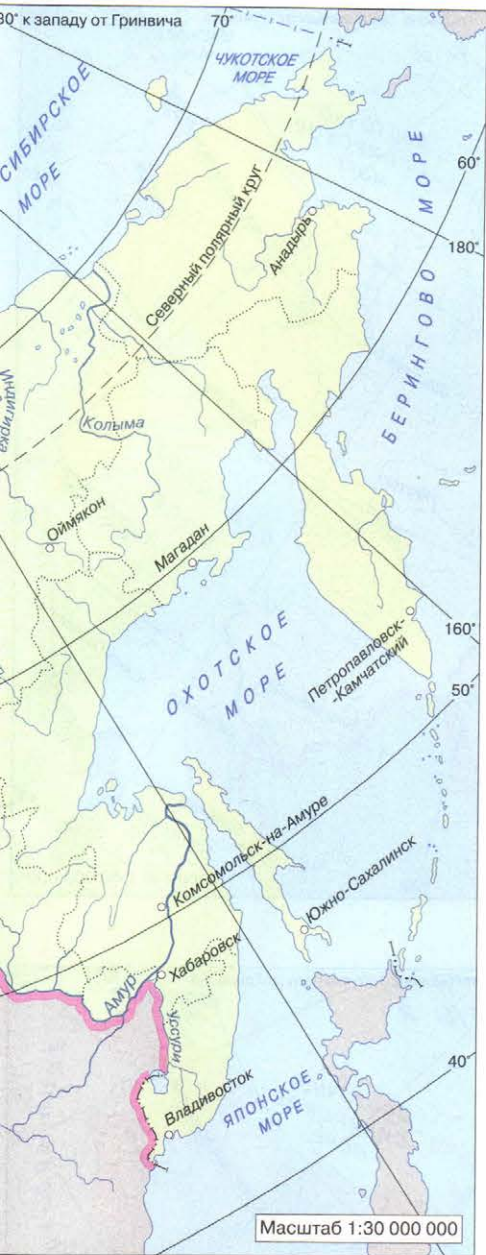
СТРУКТУРА ХОЗЯЙСТВА РОССИИ (по числу занятых, в %)



СТРУКТУРА ПРОМЫШЛЕННОГО ПРОИЗВОДСТВА (в %)



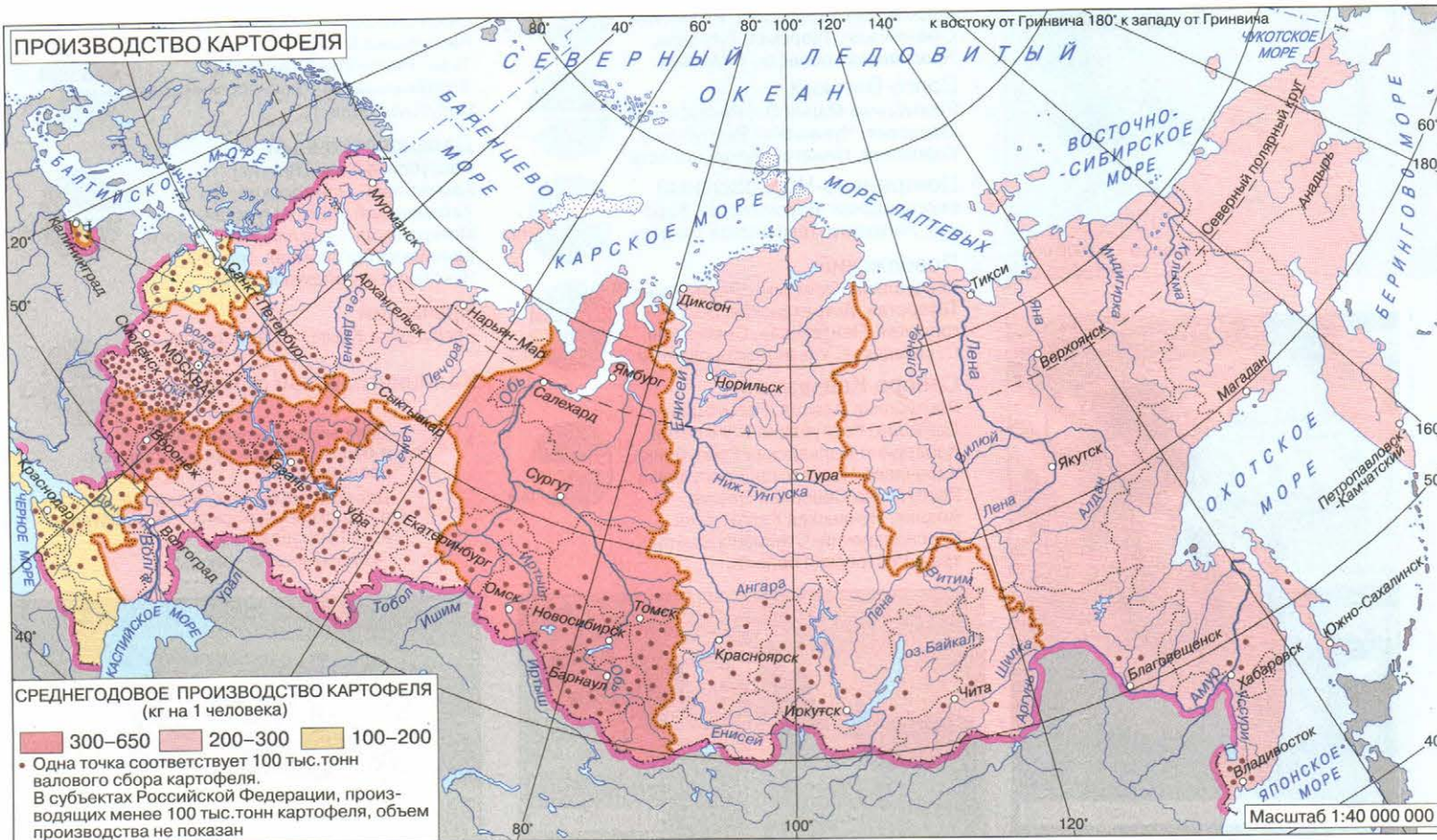
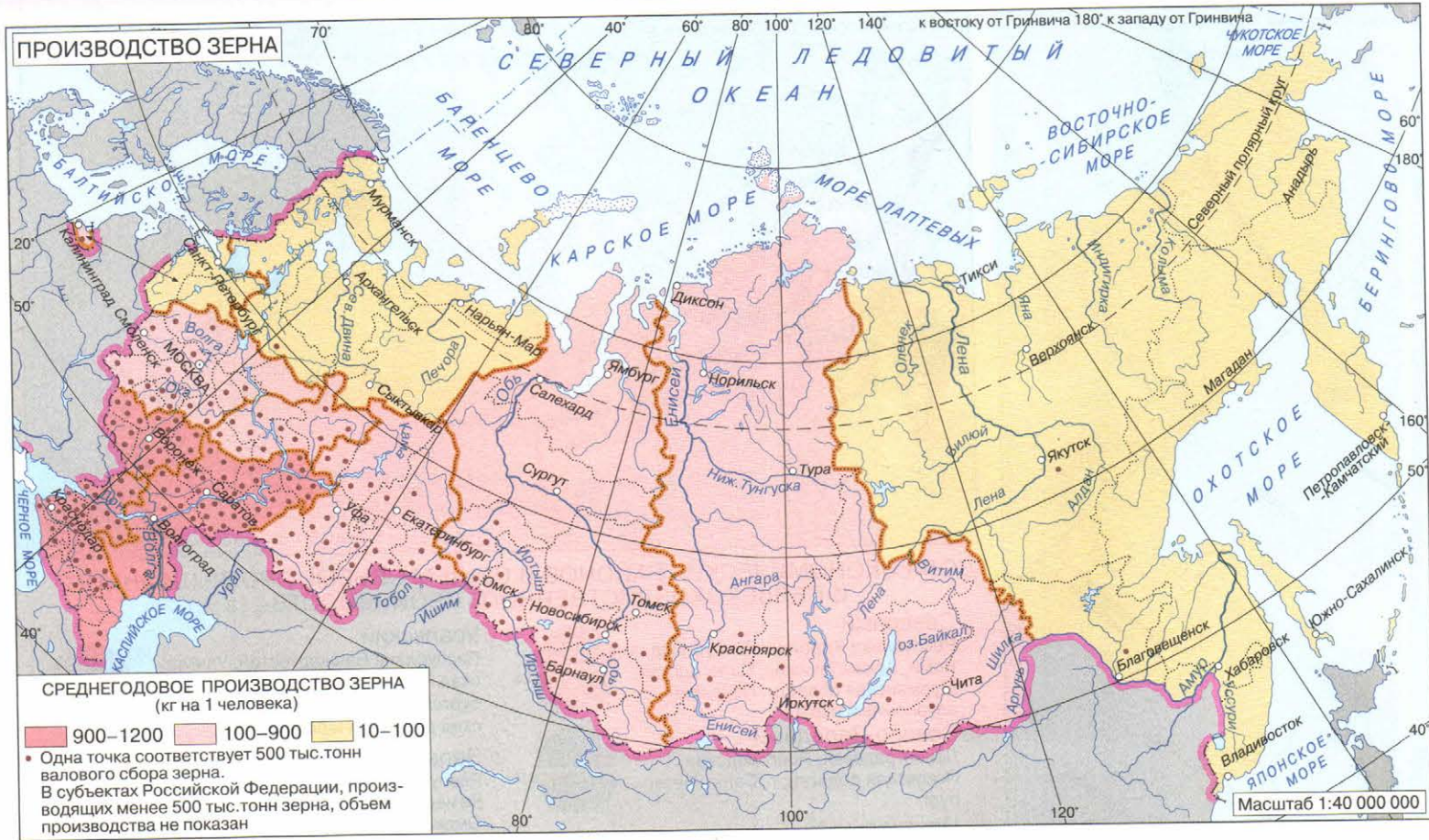
Добыча полезных ископаемых

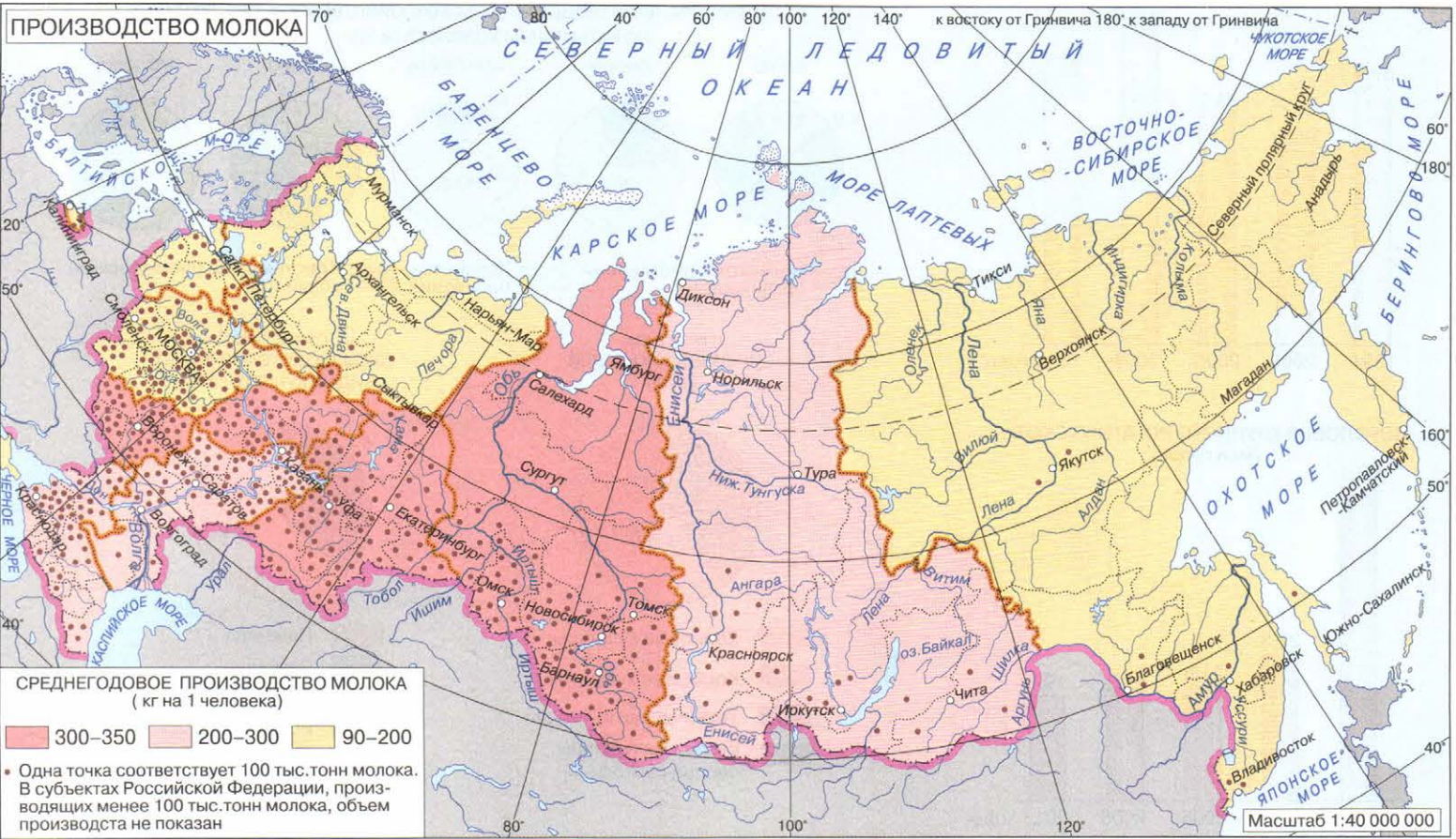
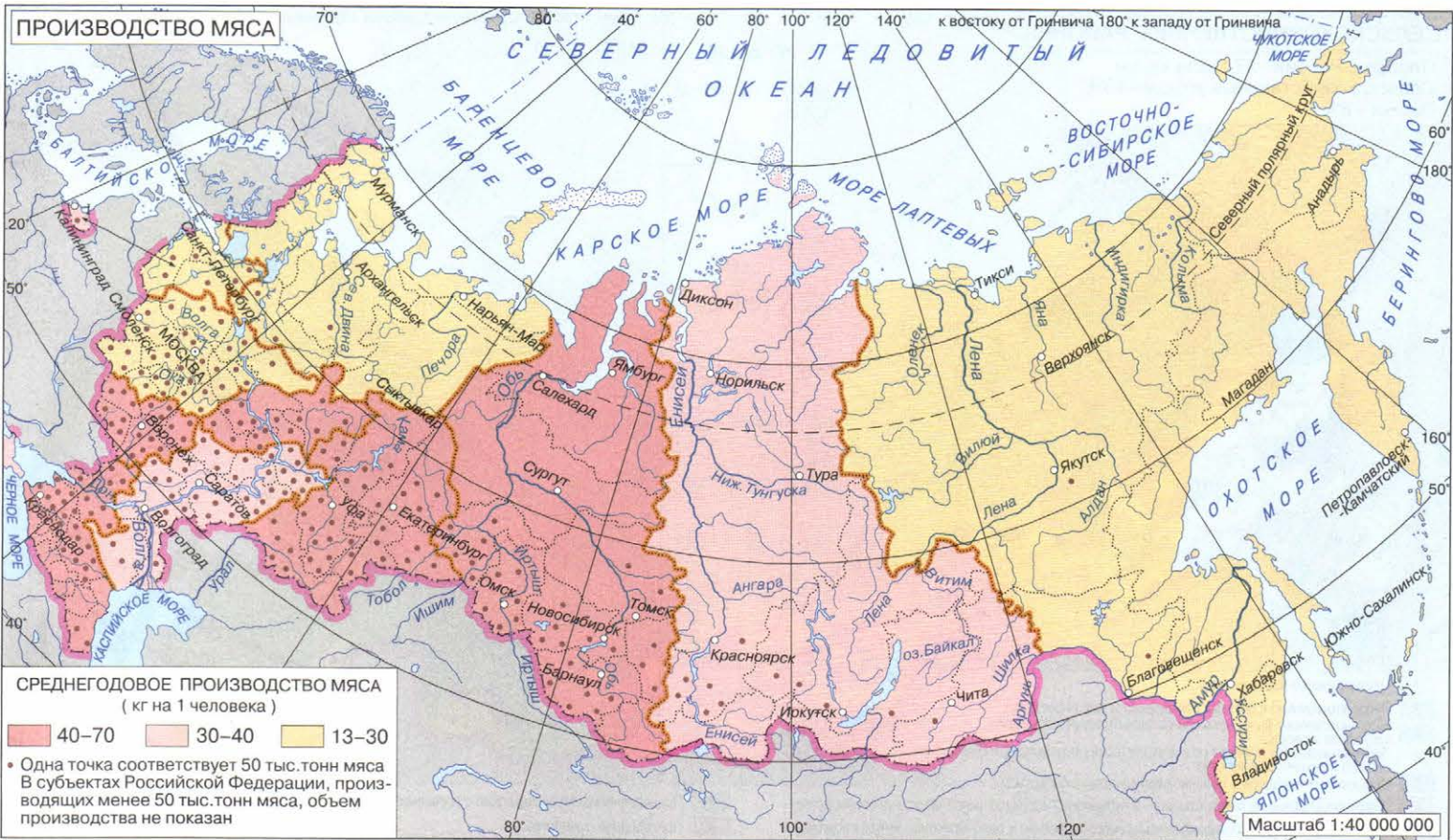


ДОЛЯ ЭКОНОМИЧЕСКИХ РАЙОНОВ В ОБЩЕМ ОБЪЕМЕ ПРОМЫШЛЕННОГО И СЕЛЬСКОХОЗЯЙСТВЕННОГО ПРОИЗВОДСТВА (в %)

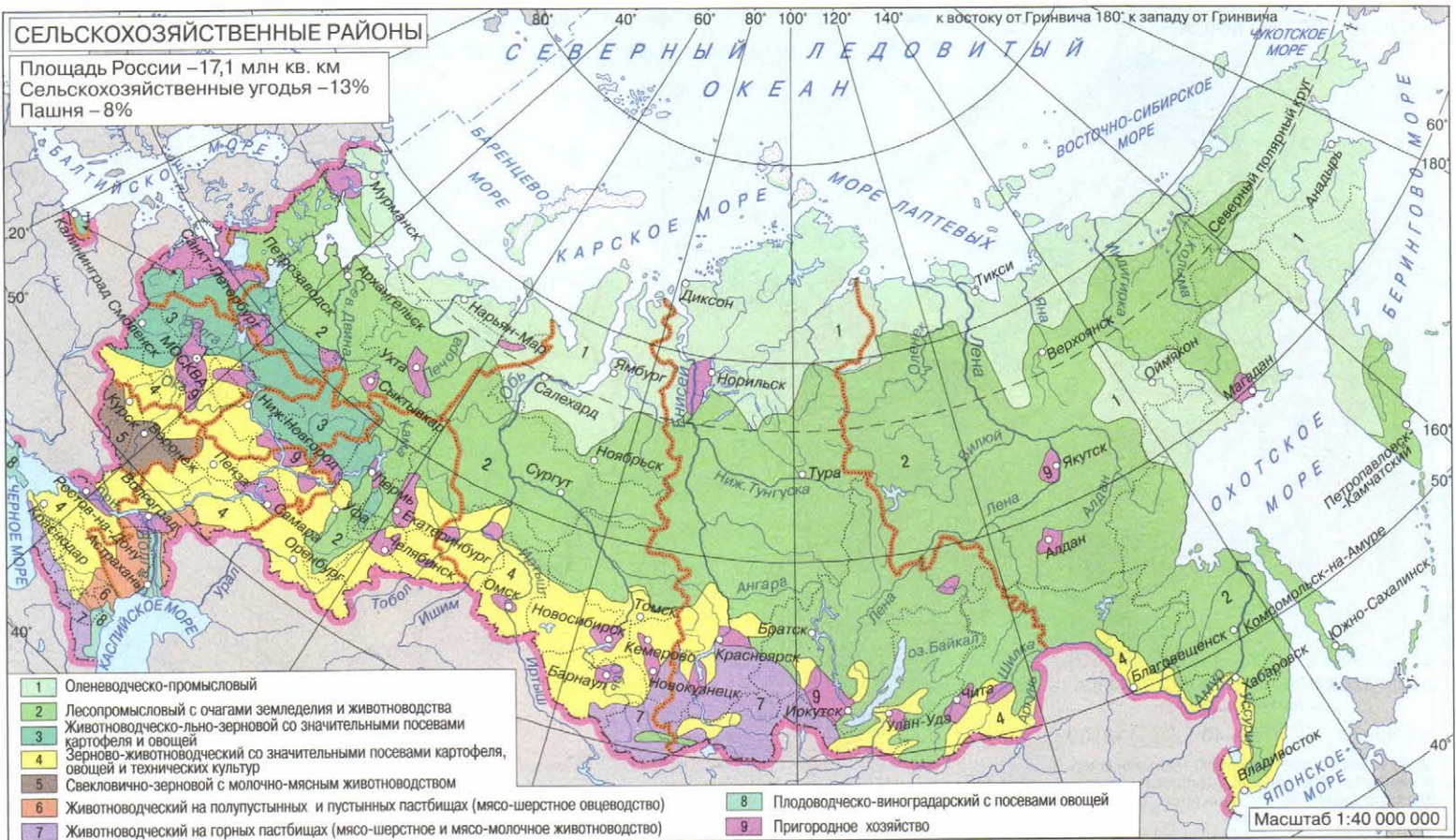


12 АГРОПРОМЫШЛЕННЫЙ КОМПЛЕКС

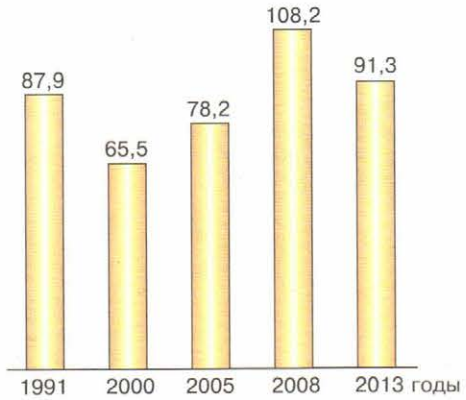




14 АГРОПРОМЫШЛЕННЫЙ КОМПЛЕКС, ЛЕГКАЯ



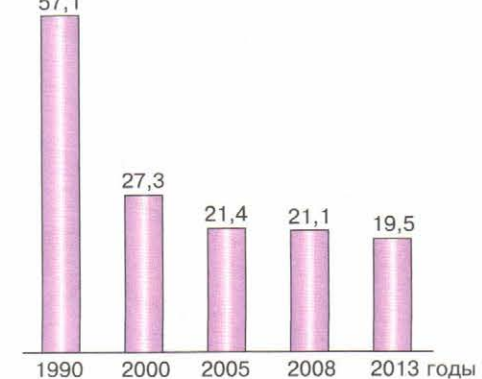
ВАЛОВОЙ СБОР ЗЕРНА (млн тонн)



СТРУКТУРА ПРОИЗВОДСТВА СЕЛЬСКОХОЗЯЙСТВЕННОЙ ПРОДУКЦИИ ПО КАТЕГОРИЯМ ХОЗЯЙСТВ (в %)



ПОГОЛОВЬ КРУПНОГО РОГАТОГО СКОТА (млн голов)

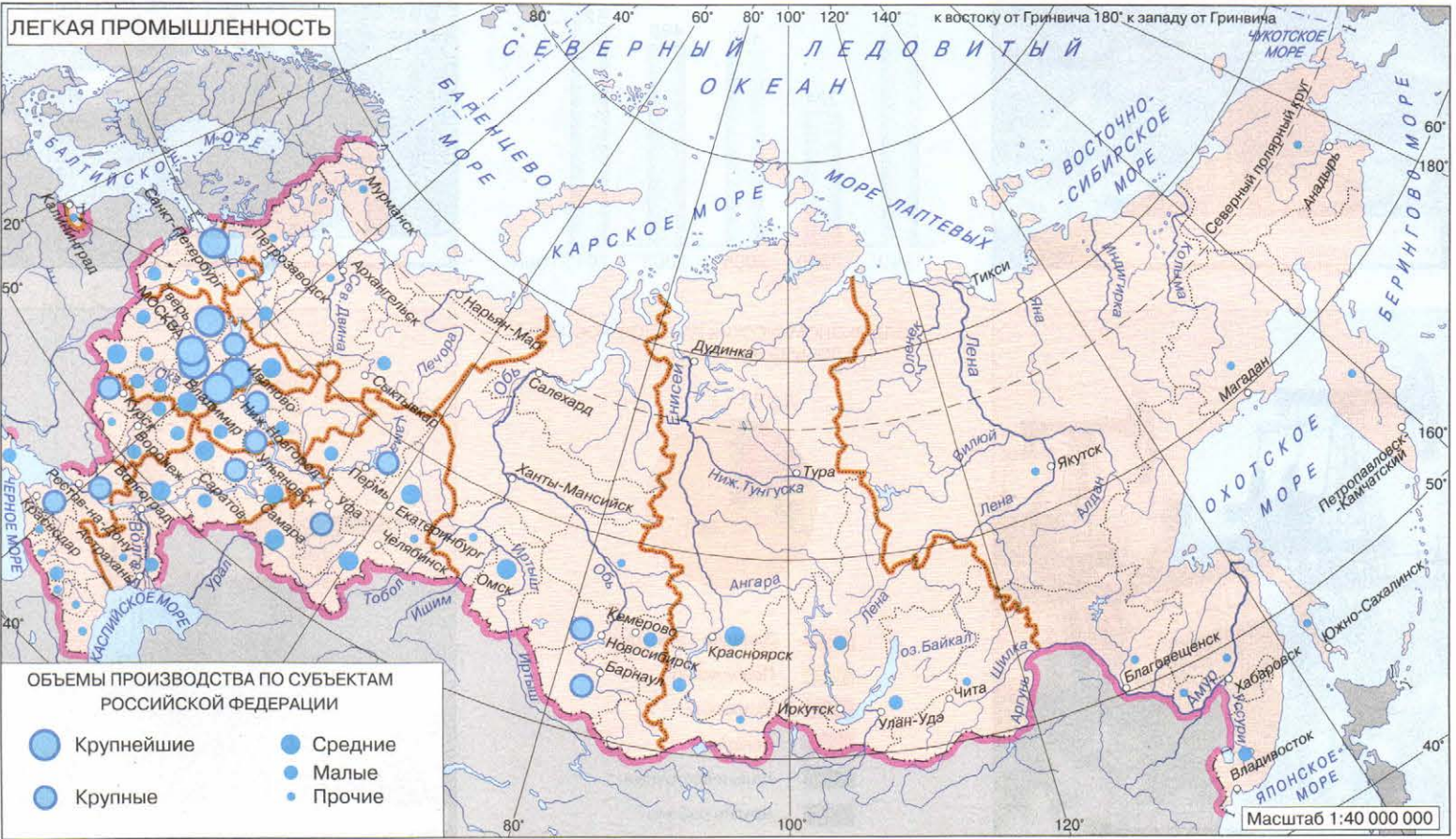
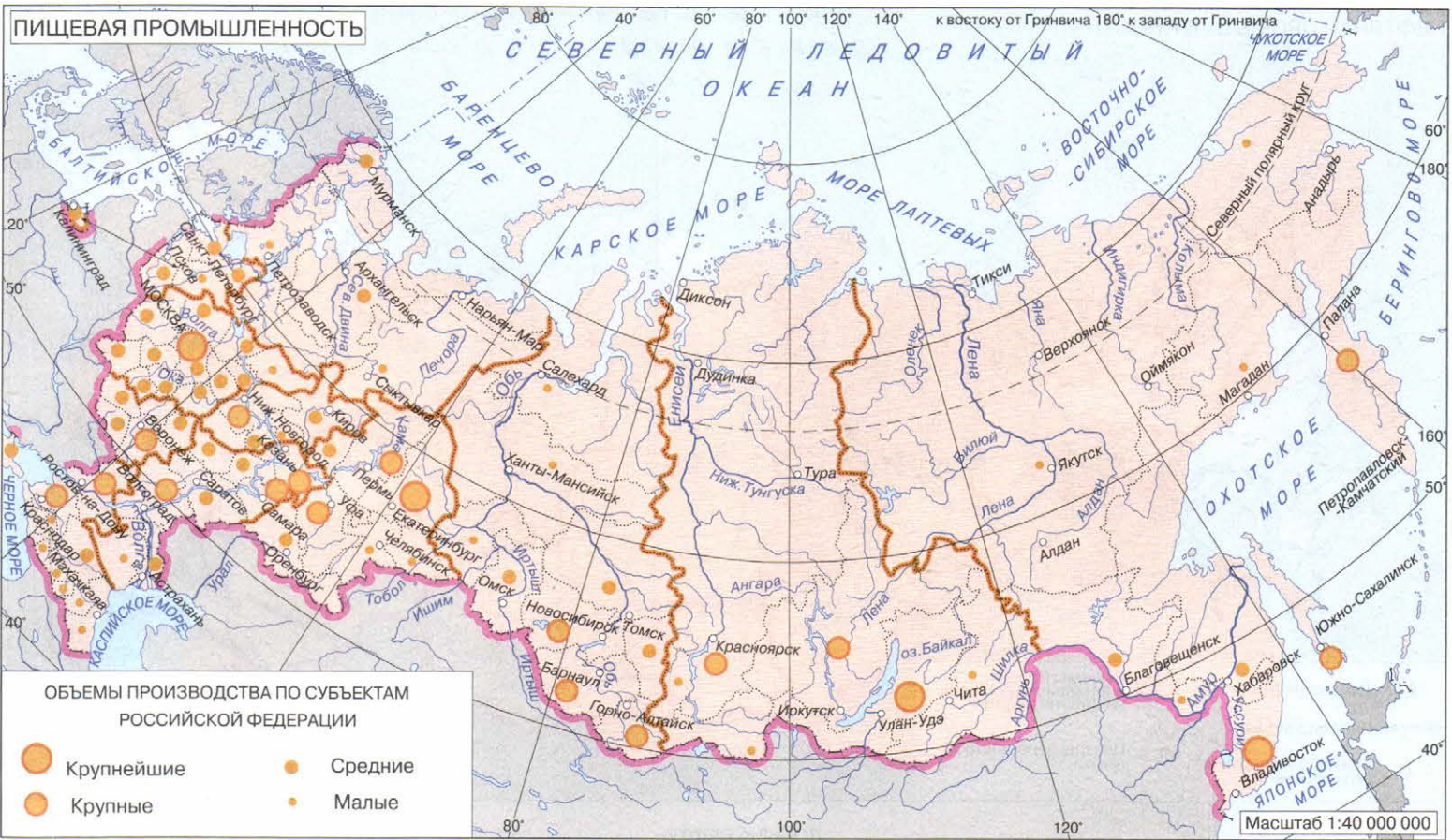


СТРУКТУРА ПОСЕВНЫХ ПЛОЩАДЕЙ (в %)

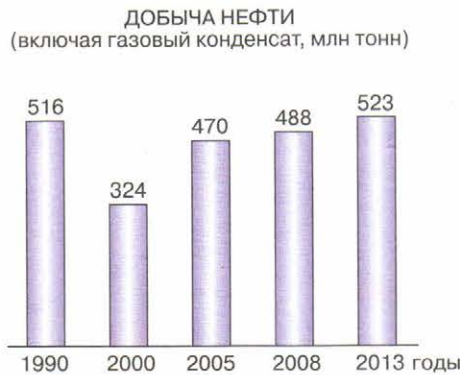


СТРУКТУРА ПРОИЗВОДСТВА ЗЕРНА ПО ВИДАМ КУЛЬТУР (в %)

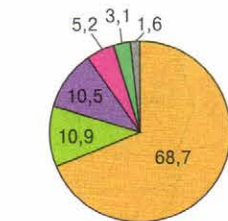




16 ТОПЛИВНО-ЭНЕРГЕТИЧЕСКИЙ КОМПЛЕКС

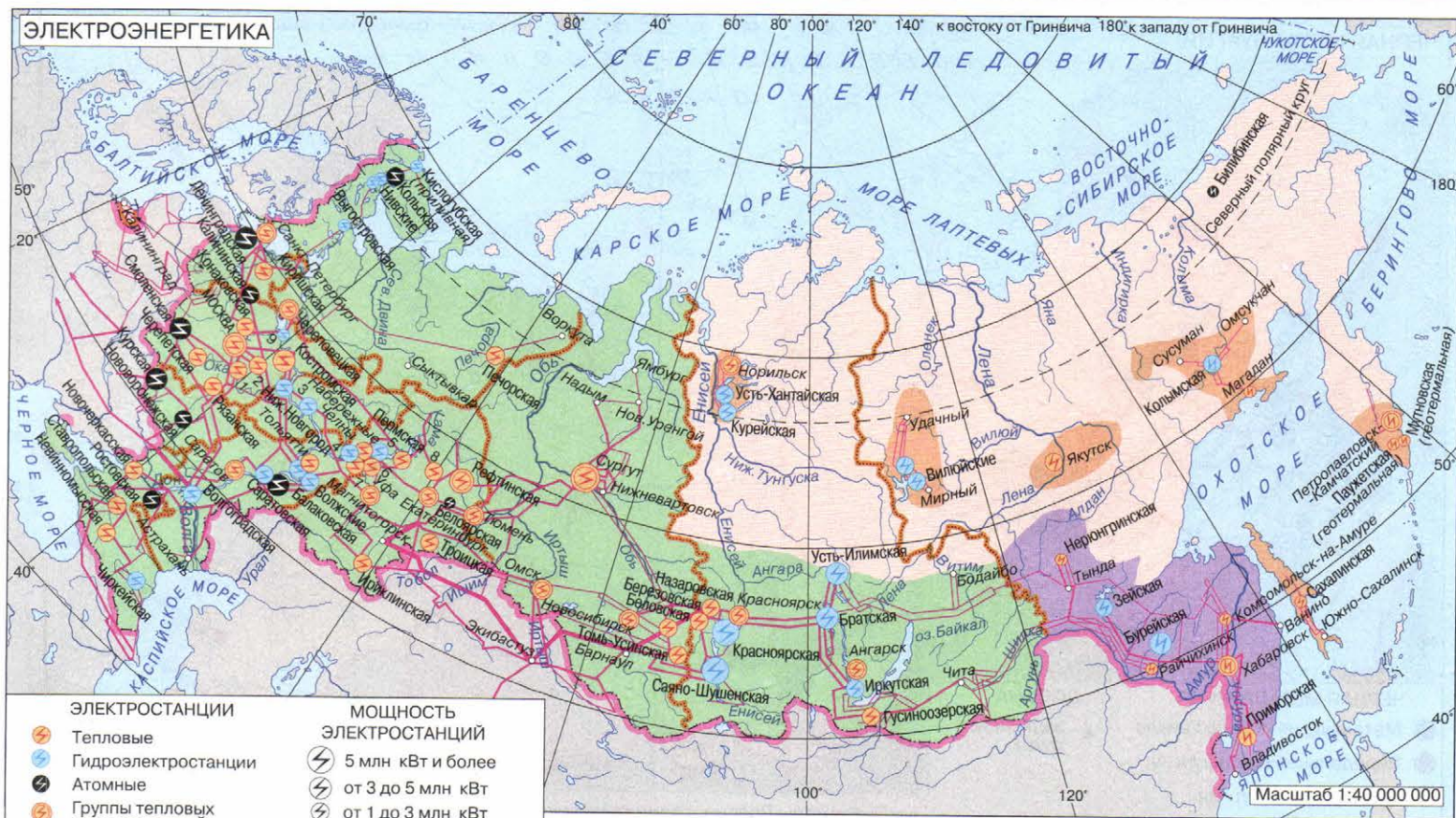


**ДОЛЯ ЭКОНОМИЧЕСКИХ РАЙОНОВ РОССИИ
В ДОБЫЧЕ НЕФТИ (в %)**



- Западно-Сибирский
- Поволжский
- Уральский
- Северный
- Дальневосточный
- Другие районы




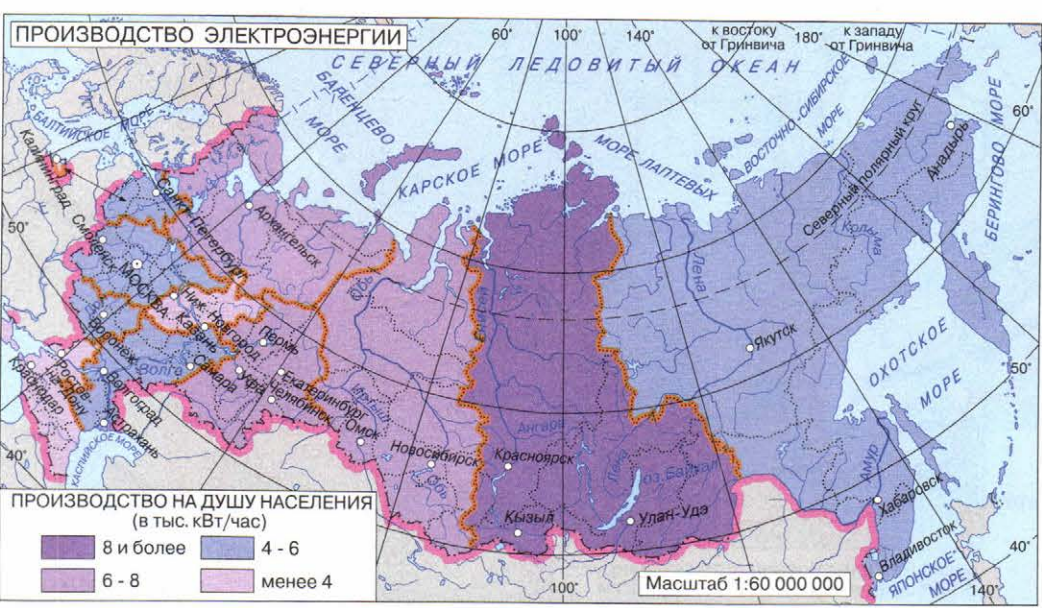


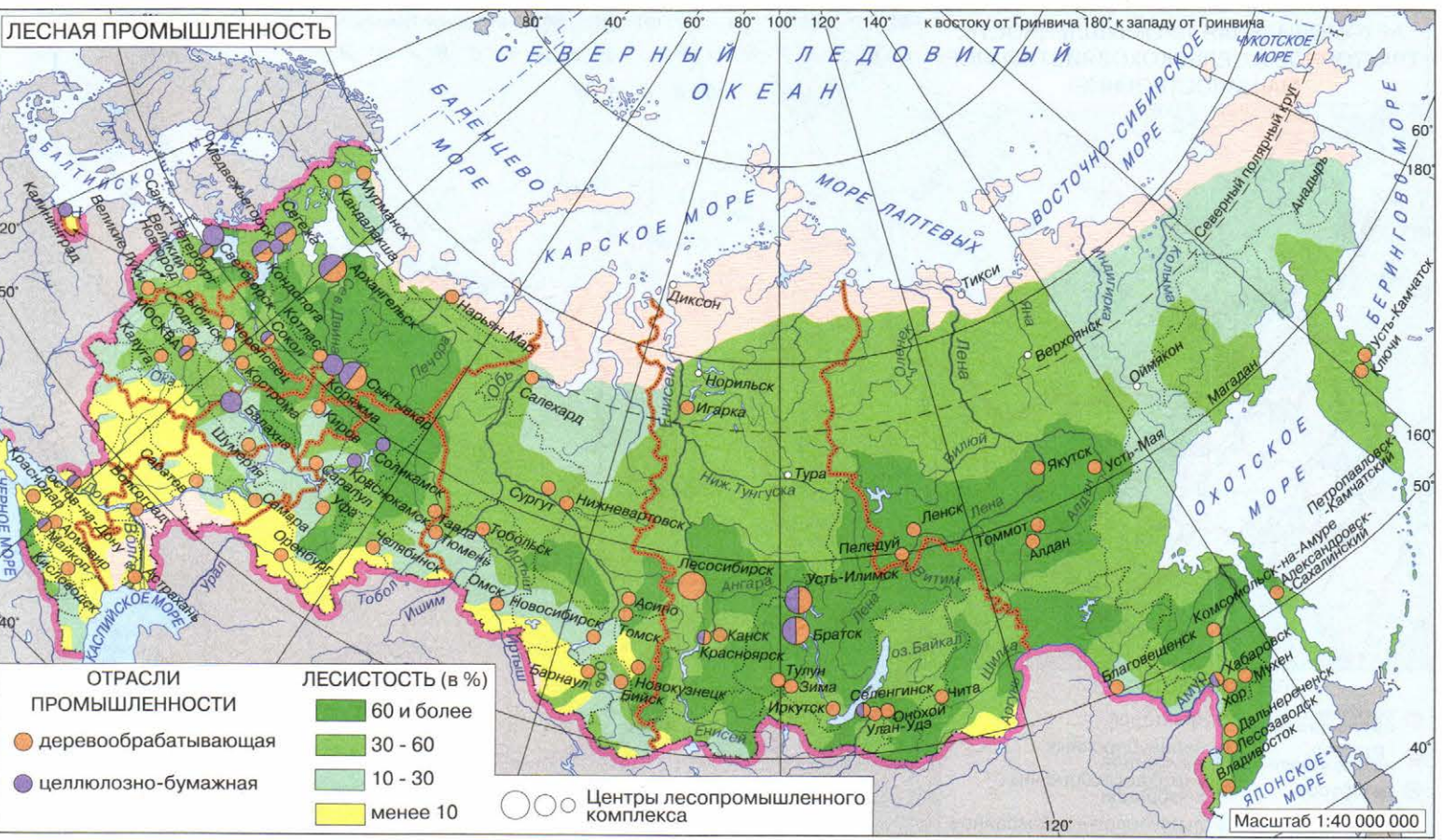
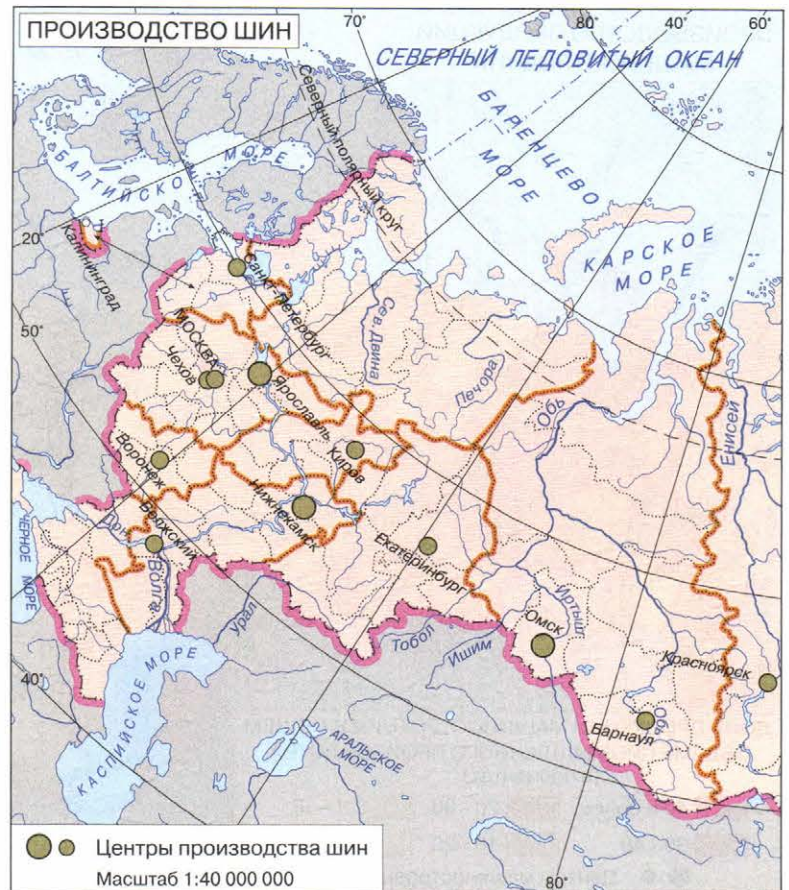
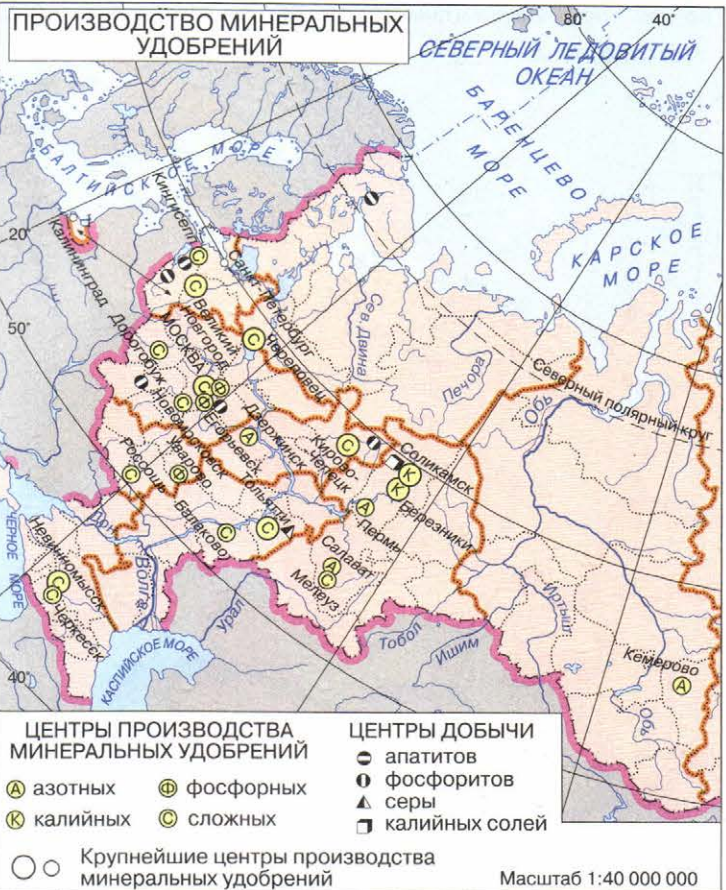
ЭЛЕКТРОСТАНЦИИ		МОЩНОСТЬ ЭЛЕКТРОСТАНЦИЙ	
	Тепловые		5 млн кВт и более
	Гидроэлектростанции		от 3 до 5 млн кВт
	Атомные		от 1 до 3 млн кВт
	Группы тепловых электростанций		менее 1 млн кВт

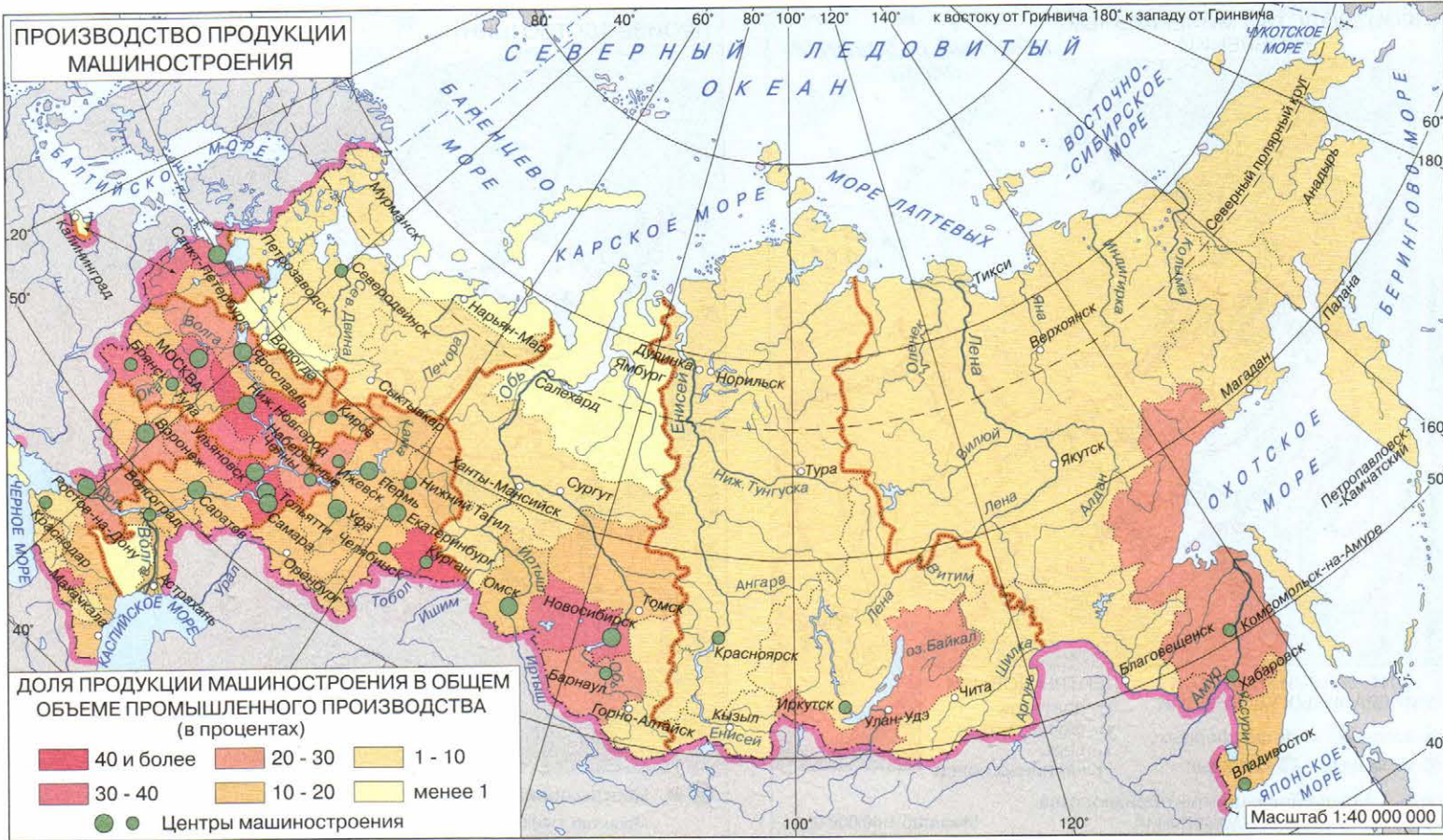
Зейская Названия электростанций

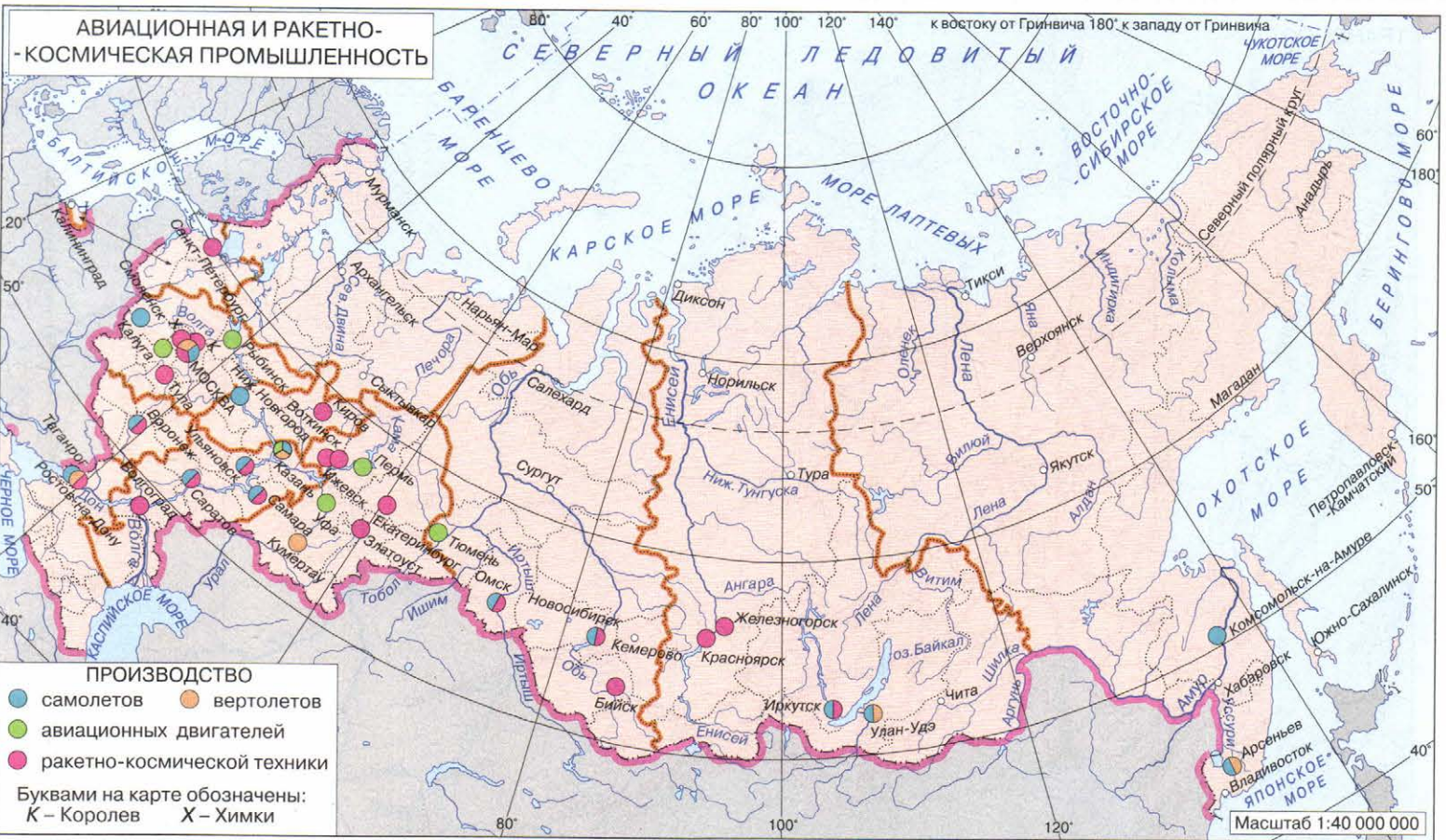
ЭНЕРГЕТИЧЕСКИЕ СИСТЕМЫ		ЛИНИИ ЭЛЕКТРОПЕРЕДАЧИ НАПРЯЖЕНИЕМ (кВТ)	
	Единая		800 - 1150
	Дальнего Востока		500 - 750
	Изолированные		220 - 330

Цифрами на карте обозначены электростанции:
 1 Каширская 2 Шатурская 3 Чебоксарская 4 Нижнекамская
 5 Воткинская 6 Кармановская 7 Заинская 8 Верхнетагильская
 9 Рыбинская






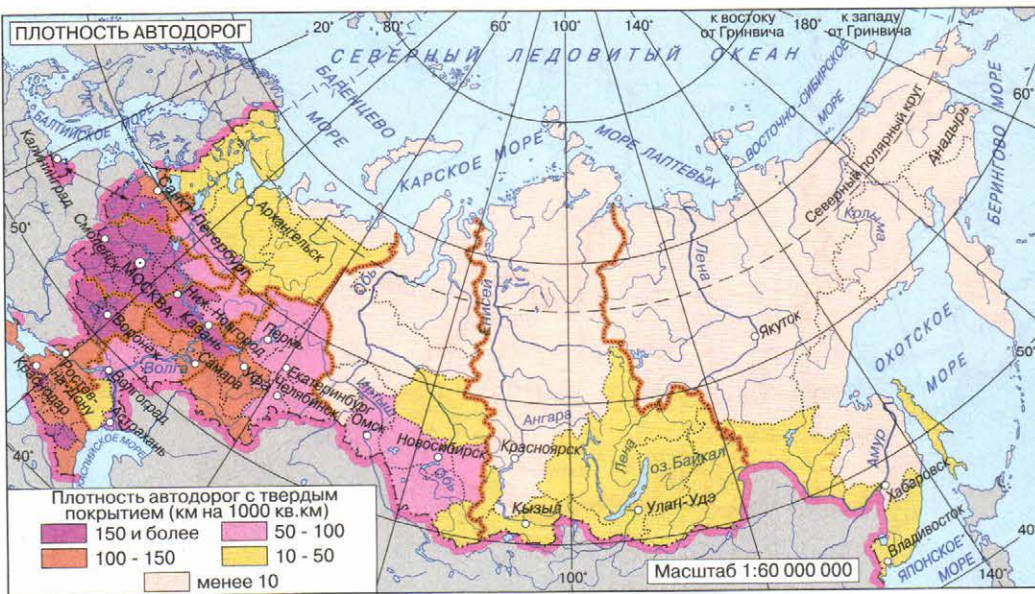




ТРАНСПОРТ

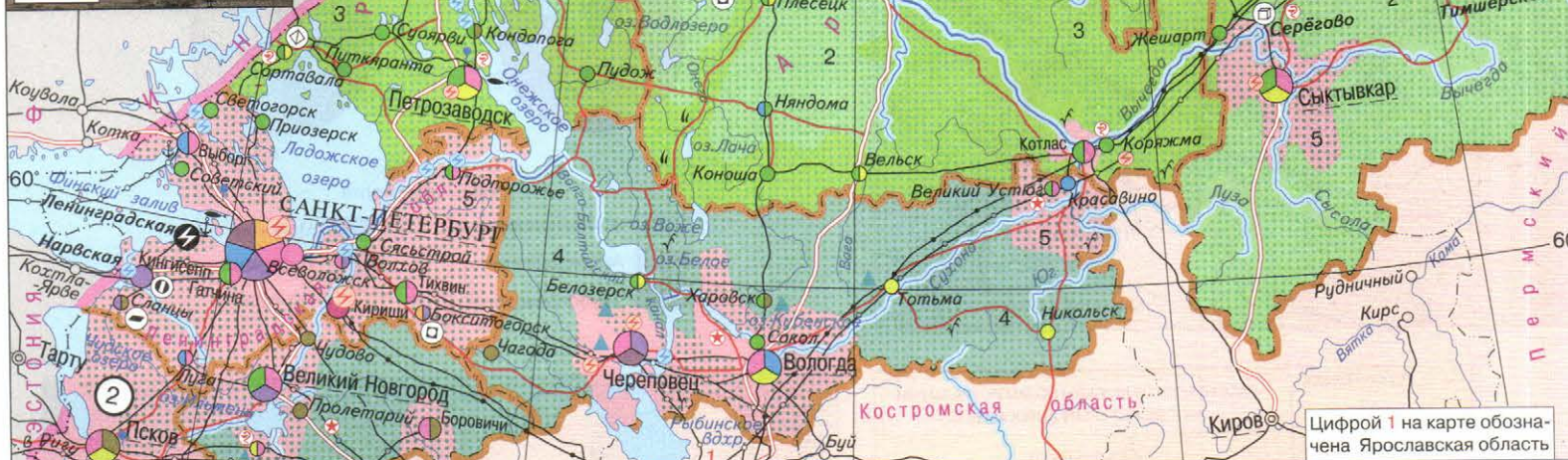



ПЛОТНОСТЬ АВТОДОРОГ



СЕВЕРНЫЙ И СЕВЕРО-ЗАПАДНЫЙ

- ① Северный экономический район
Площадь – 1 476,6 тыс. кв. км
Население – 4 696,5 тыс. чел.
- ② Северо-Западный экономический район
Площадь – 195,2 тыс. кв. км
Население – 8 066,5 тыс. чел.



Цифрой 1 на карте обозначена Ярославская область

СПЕЦИАЛИЗАЦИЯ СЕЛЬСКОГО ХОЗЯЙСТВА

- 1 Пастбищное оленеводство, охота, рыболовство
 - 2 Лесные промыслы, рыболовство, редкие очаги земледелия и животноводство
 - 3 Лесное хозяйство, молочное скотоводство и земледелие
 - 4 Льно-молочное хозяйство с посевами зерновых культур
 - 5 Пригородное хозяйство
- Калининградская область
Молочное скотоводство, свиноводство, зерновые культуры

ОБРАБАТЫВАЮЩАЯ ПРОМЫШЛЕННОСТЬ

- Черная металлургия
- Цветная металлургия
- Нефтеперерабатывающая
- Химическая
- Машиностроение и металлообработка
- Лесная и деревообрабатывающая
- Производство строительных материалов
- Легкая
- Пищевая

ДОБЫВАЮЩАЯ ПРОМЫШЛЕННОСТЬ

- каменного угля
- горючих сланцев
- нефти
- природного газа
- железных руд
- никелевых руд
- алюминиевых руд
- медных руд
- апатитов
- фосфоритов
- слюды
- поваренной соли
- мрамора
- янтаря

ЭЛЕКТРОСТАНЦИИ

- Тепловые
- Атомные
- Гидроэлектростанции
- Каскад гидроэлектростанций

- Льнозаводы
- Курорты
- Источники минеральных вод
- Художественные промыслы

РАЙОНЫ РАСПРОСТРАНЕНИЯ

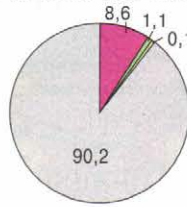
- пшеницы
- ржи
- ячменя
- Промысел тюлена
- Рыболовные порты

Масштаб 1: 8 000 000 (в 1 см 80 км)

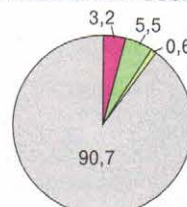




ДОЛЯ ЭКОНОМИЧЕСКИХ РАЙОНОВ В ТЕРРИТОРИИ РОССИИ (в %)



ДОЛЯ ЭКОНОМИЧЕСКИХ РАЙОНОВ В НАСЕЛЕНИИ РОССИИ (в %)


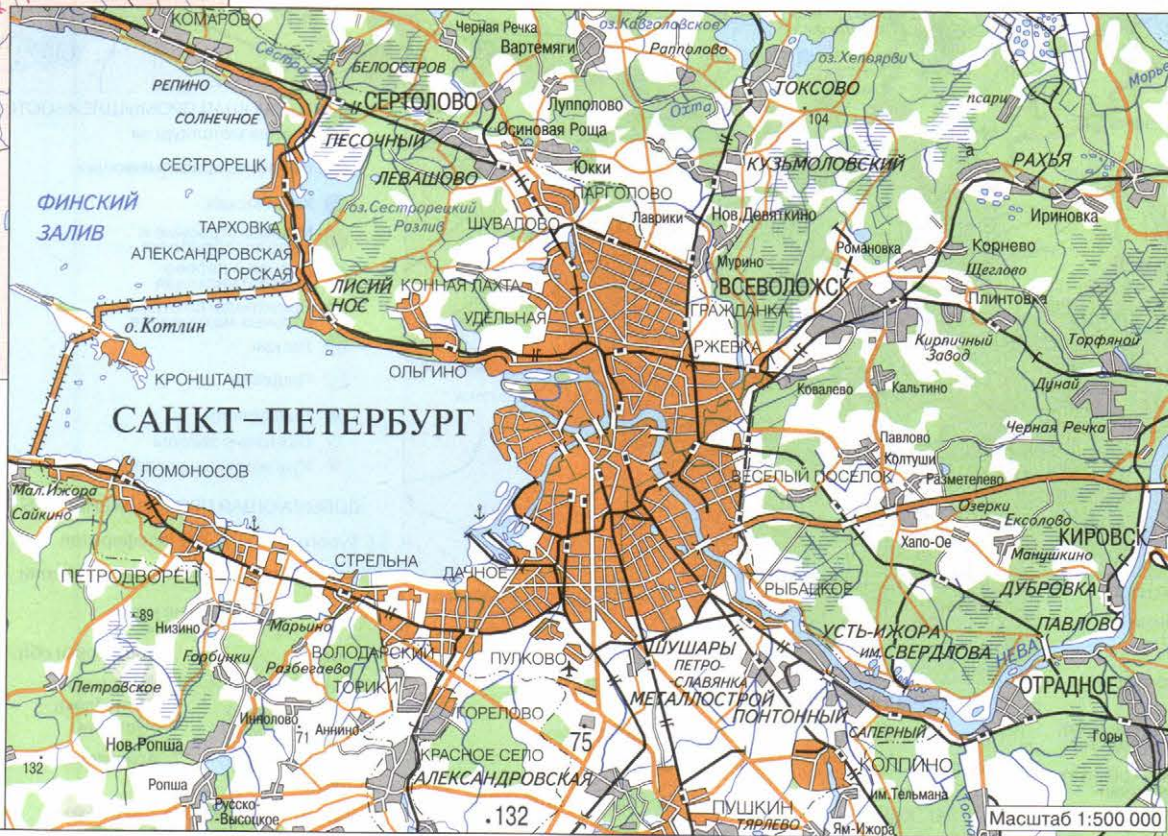


ЭКОНОМИЧЕСКИЕ РАЙОНЫ

- Северный
- Калининградская область
- Северо-Западный
- другие районы



САНКТ-ПЕТЕРБУРГ – центр Северо-Западного федерального округа и Ленинградской области, город федерального значения, субъект Российской Федерации. Город-герой. Основан в 1703 году. В 1712–1728 гг. и 1732–1918 гг. – столица государства. Население – 5 131,9 тыс. человек. Крупнейший в стране и один из важнейших в мире промышленный, научный и культурный центр.



ЦЕНТРАЛЬНЫЙ, ВОЛГО-ВЯТСКИЙ И ЦЕНТРАЛЬНО-ЧЕРНОЗЕМНЫЙ

Экономические районы	Площадь (тыс. кв. км)	Население (тыс. чел.)
1 Центральный	482,5	31 450,3
2 Волго-Вятский	264,8	7 361,2
3 Центрально-Черноземный	167,8	7 228,6



СПЕЦИАЛИЗАЦИЯ СЕЛЬСКОГО ХОЗЯЙСТВА

1	Льно-молочное хозяйство с посевами зерновых культур (рожь, пшеница)
2	Молочное скотоводство, зерновые культуры
3	Зерновые культуры (пшеница, рожь, гречиха), мясо-молочное скотоводство, свиноводство
4	Зерновые культуры (пшеница, рожь, гречиха), сахарная свекла, подсолнечник, молочно-мясное скотоводство, свиноводство
5	Пригородное хозяйство

РАЙОНЫ РАСПРОСТРАНЕНИЯ

гречихи	садов
махорки	эфирно-масличных культур
Курорты	Источники минеральных вод

ОБРАБАТЫВАЮЩАЯ ПРОМЫШЛЕННОСТЬ

- Черная металлургия
- Нефтеперерабатывающая
- Химическая
- Машиностроение и металлообработка
- Лесная и деревообрабатывающая
- Производство строительных материалов
- Легкая
- Пищевая
- Льнозаводы
- Сахарные заводы
- Художественные промыслы

ДОБЫВАЮЩАЯ ПРОМЫШЛЕННОСТЬ

- бурого угля
- железных руд
- фосфоритов
- поваренной соли

Цифрами на карте обозначены:

1 Королев	5 Ростовская обл.
2 Электросталь	6 Чувашская Республика - Чувашия
3 Ликино-Дулево	7 Архангельская обл.
4 Гидроаккумулялирующая электростанция	

ЭЛЕКТРОСТАНЦИИ

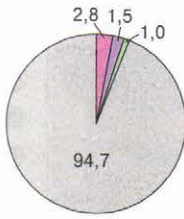
- Тепловые
- Атомные
- Гидроэлектростанции

Масштаб 1: 6 000 000 (в 1 см 60 км)

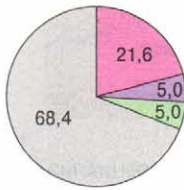
60 0 60 120 180 240 км



ДОЛЯ ЭКОНОМИЧЕСКИХ РАЙОНОВ В ТЕРРИТОРИИ РОССИИ (в %)

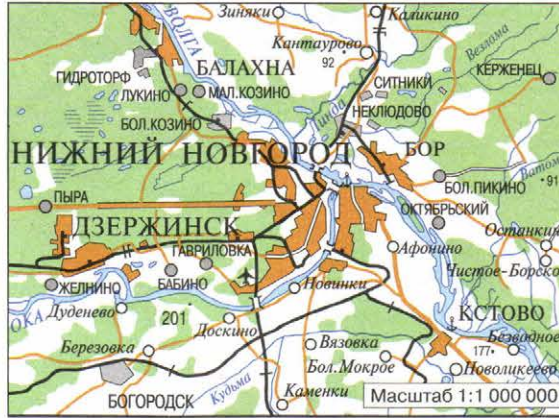


ДОЛЯ ЭКОНОМИЧЕСКИХ РАЙОНОВ В НАСЕЛЕНИИ РОССИИ (в %)



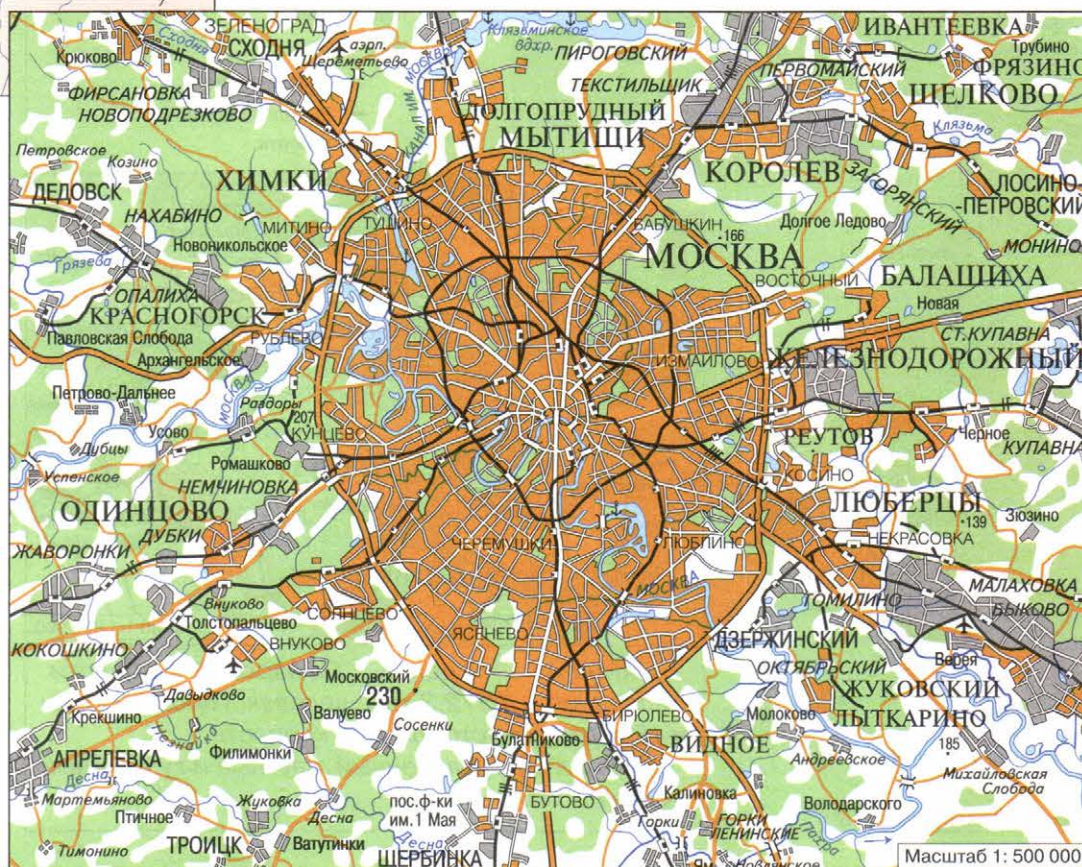
ЭКОНОМИЧЕСКИЕ РАЙОНЫ

- Центральный
- Волго-Вятский
- Центрально-Черноземный
- другие районы



НИЖНИЙ НОВГОРОД – центр Приволжского федерального округа и Нижегородской области.

Население – 1 263,9 тыс. человек. Основан в 1221 году. Крупный промышленный, торгово-финансовый, научный и культурный центр России.



МОСКВА – столица Российской Федерации, центр Центрального федерального округа и Московской области, город федерального значения, субъект Российской Федерации. Город-герой.

Население – 12 108,3 тыс. человек. Впервые Москва упоминается в Ипатьевской летописи в 1147 году.

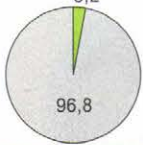
Крупнейший в стране и один из важнейших в мире политический, промышленный, финансовый, научный и культурный центр.



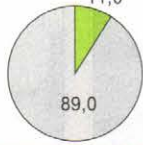
ПОВОЛЖСКИЙ

Площадь – 539,8 тыс. кв. км
Население – 16 062,8 тыс. чел.

ДОЛЯ ПОВОЛЖСКОГО РАЙОНА В ТЕРРИТОРИИ РОССИИ (в %)

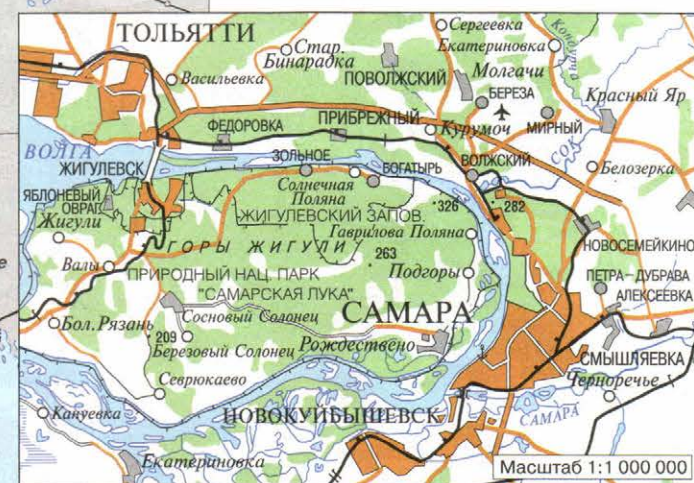


ДОЛЯ ПОВОЛЖСКОГО РАЙОНА В НАСЕЛЕНИИ РОССИИ (в %)



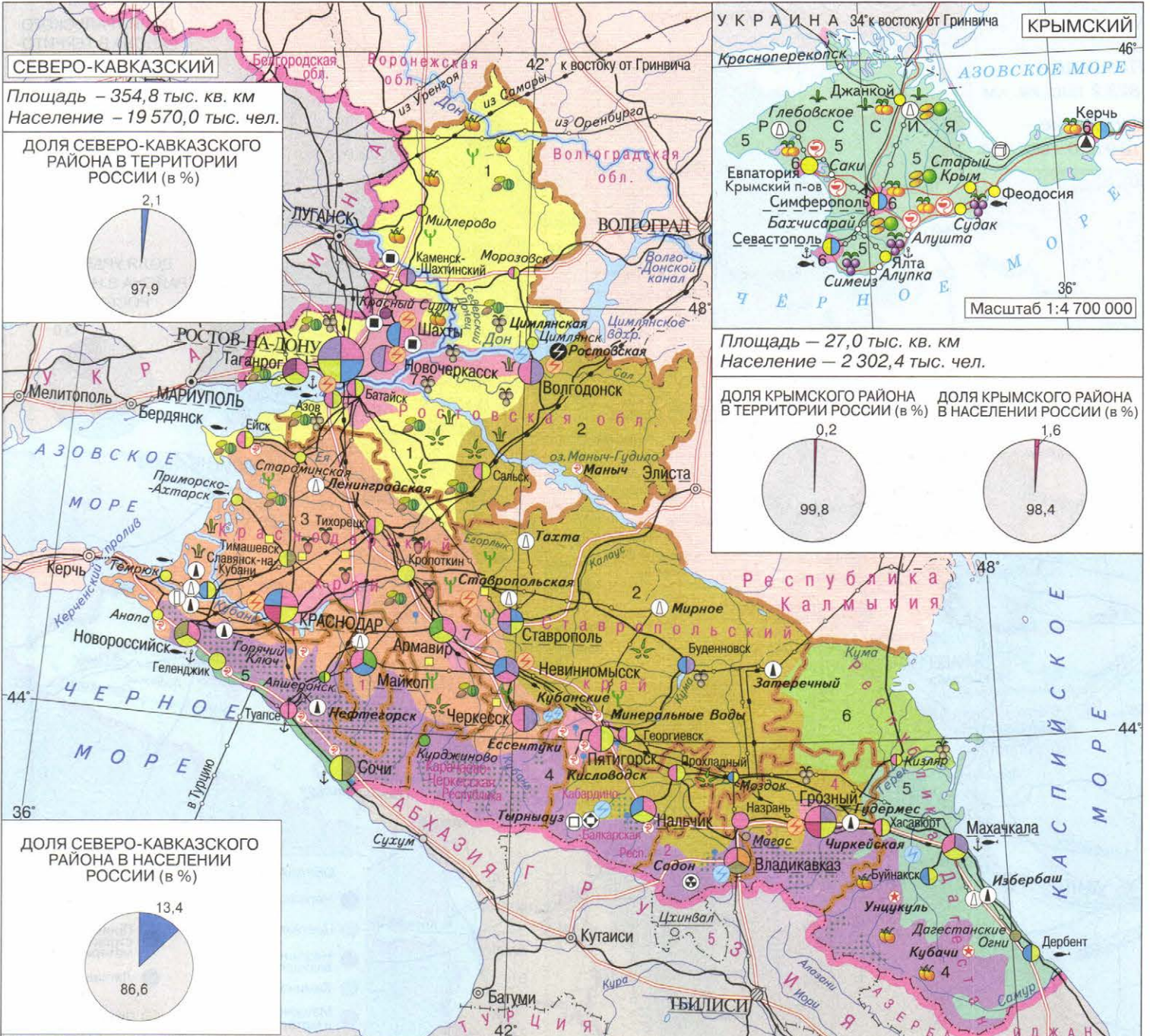
- ОБРАБАТЫВАЮЩАЯ ПРОМЫШЛЕННОСТЬ**
- Черная металлургия
 - Цветная металлургия
 - Нефтеперерабатывающая
 - Химическая
 - Машиностроение и металлообработка
 - Лесная и деревообработывающая
 - Производство строительных материалов
 - Легкая
 - Пищевая
- ДОБЫВАЮЩАЯ ПРОМЫШЛЕННОСТЬ**
- ▲ нефти
 - ▲ природного газа
 - ▲ горючих сланцев
 - ▲ серы
 - ▲ поваренной соли
 - ▲ цемента
 - ▲ сырьев
- ЭЛЕКТРОСТАНЦИИ**
- Тепловые
 - Гидроэлектростанции
 - Атомные
 - Источники минеральных вод

- СПЕЦИАЛИЗАЦИЯ СЕЛЬСКОГО ХОЗЯЙСТВА**
- 1 Зерновые культуры, мясо-молочное скотоводство
 - 2 Зерновые культуры, подсолнечник, молочно-мясное скотоводство
 - 3 Зерновые культуры, подсолнечник, мясо-молочное скотоводство, овцеводство
 - 4 Овощеводство, бахчевые культуры, рис
 - 5 Пастбищное овцеводство в сухих степях и полупустынях
 - 6 Пригородное хозяйство
- РАЙОНЫ РАСПРОСТРАНЕНИЯ**
- бахчевых культур
 - садов
 - подсолнечника
 - риса
 - сахарной свеклы
 - конопли
 - горчицы
 - махорки
- Пчеловодство
 - Рыболовные порты
 - Курорты



САМАРА – центр Самарской области. Население – 1 172,3 тыс. человек. Город основан в 1586 году как сторожевая крепость. Крупный промышленный, научный и культурный центр России.

Масштаб 1: 6 000 000 (в 1 см 60 км)
60 0 60 120 180 240 км
к востоку от Гринвича 48°



- ОБРАБАТЫВАЮЩАЯ ПРОМЫШЛЕННОСТЬ**
- Черная металлургия
 - Цветная металлургия
 - Нефтеперерабатывающая
 - Химическая
 - Машиностроение и металлообработка
 - Лесная и деревообрабатывающая
 - Производство строительных материалов
 - Легкая
 - Пищевая
- ДОБЫВАЮЩАЯ ПРОМЫШЛЕННОСТЬ**
- каменного угля
 - ▲ нефти
 - ▲ природного газа
 - вольфрамовых руд
 - молибденовых руд
 - полиметаллических руд
 - цементного сырья
 - Источники минеральных вод

- СПЕЦИАЛИЗАЦИЯ СЕЛЬСКОГО ХОЗЯЙСТВА**
- 1 Зерновые культуры (пшеница, кукуруза), подсолнечник, молочно-мясное скотоводство
 - 2 Зерновые культуры, подсолнечник, овцеводство, молочно-мясное скотоводство
 - 3 Зерновые культуры (пшеница, кукуруза), технические культуры (сахарная свекла, подсолнечник), молочно-мясное скотоводство, свиноводство, птицеводство
 - 4 Животноводство на горных пастбищах, молочно-мясное скотоводство, овцеводство
 - 5 Плодоводство, виноградарство и табаководство
 - 6 Пастбищное овцеводство в сухих степях и полупустынях
 - 7 Пригородное хозяйство
- Сахарные заводы

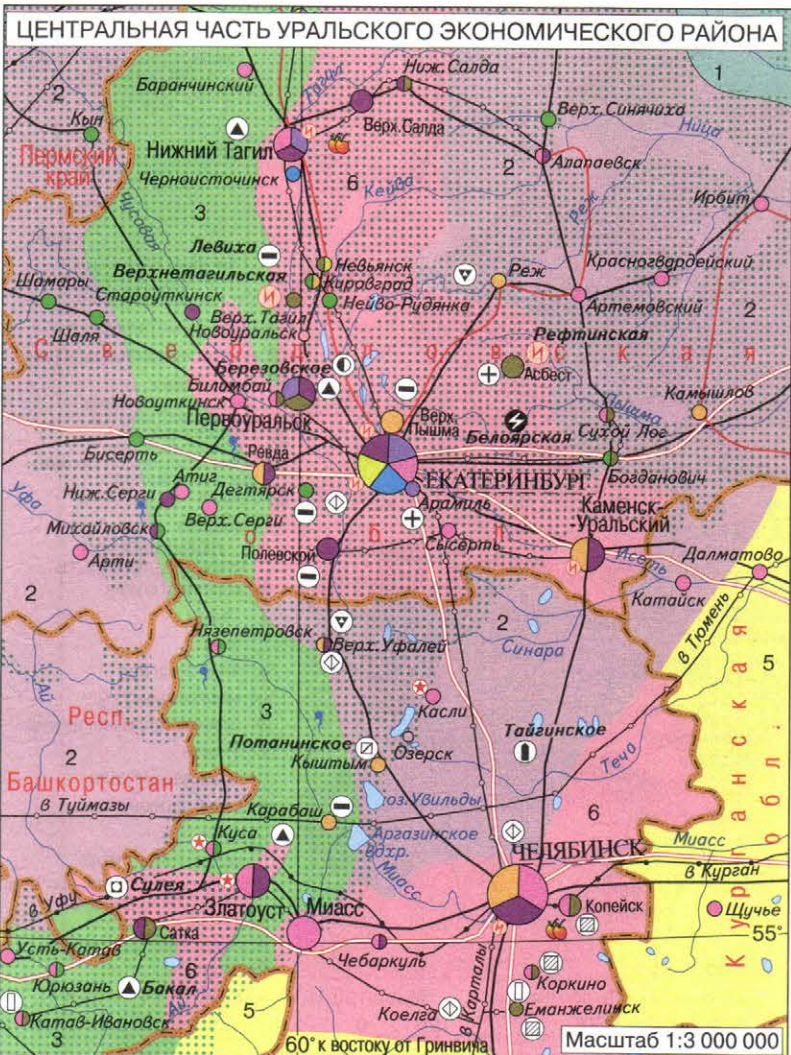
- ЭЛЕКТРОСТАНЦИИ**
- Тепловые
 - Атомные
 - Гидроэлектростанции
 - Каскад гидроэлектростанций
- РАЙОНЫ РАСПРОСТРАНЕНИЯ**
- бахчевых культур
 - виноградарства
 - клецелины
 - риса
 - сахарной свеклы
 - садов
 - эфирно-масличных культур
 - Рыболовные порты
 - Курорты
- Цифрами на карте обозначены:
- 1 Республика Адыгея (Адыггея)
 - 2 Республика Северная Осетия-Алания
 - 3 Республика Ингушетия
 - 4 Чеченская Республика
 - 5 Южная Осетия
- Масштаб 1: 6 000 000 (в 1 см 60 км)
- 60 0 60 120 180 240 км



ЕКАТЕРИНБУРГ – центр Уральского федерального округа и Свердловской области.

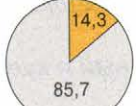
Население – 1 412,3 тыс. человек. Основан в 1723 году в связи со строительством металлургического завода и как административно-хозяйственный центр горной промышленности Урала.

Крупный промышленный, научный и культурный центр России.

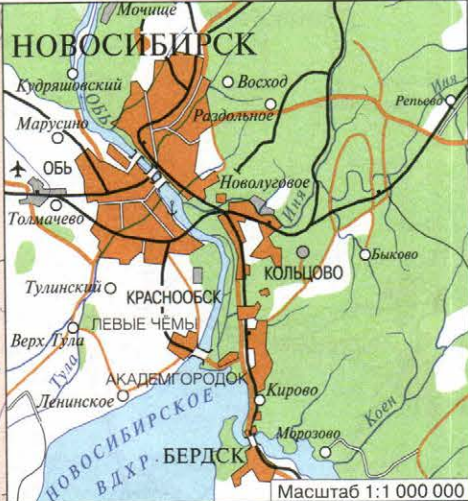
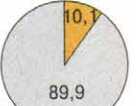


ЗАПАДНО-СИБИРСКИЙ
 Площадь – 2 454,0 тыс. кв. км
 Население – 14 609,9 тыс. чел.

ДОЛЯ ЗАПАДНО-СИБИРСКОГО РАЙОНА В ТЕРРИТОРИИ РОССИИ (в %)



ДОЛЯ ЗАПАДНО-СИБИРСКОГО РАЙОНА В НАСЕЛЕНИИ РОССИИ (в %)



НОВОСИБИРСК – центр Сибирского федерального округа и Новосибирской области. Население – 1 547,9 тыс. человек. Основан в 1893 году как поселок строителей Транссибирской магистрали. Крупный промышленный, научный и культурный центр России.

- ОБРАБАТЫВАЮЩАЯ ПРОМЫШЛЕННОСТЬ**
- Черная металлургия
 - Цветная металлургия
 - Нефтеперерабатывающая
 - Химическая
 - Машиностроение и металлообработка
 - Лесная и деревообрабатывающая
 - Производство строительных материалов
 - Легкая
 - Пищевая
- ДОБЫВАЮЩАЯ ПРОМЫШЛЕННОСТЬ**
- каменного угля
 - ▲ нефти
 - ▲ газа
 - ▲ железных руд
 - ▲ марганцевых руд
 - ▲ полиметаллических руд
 - ▲ золота
 - ▲ поваренной соли
 - ▲ глауберовой соли
 - ▲ мрамора
 - ▲ цементного сырья
 - ▲ Источники минеральных вод
- ЭЛЕКТРОСТАНЦИИ**
- Тепловые
 - Гидроэлектростанции
 - Атомные

- СПЕЦИАЛИЗАЦИЯ СЕЛЬСКОГО ХОЗЯЙСТВА**
- 1 Пастбищное оленеводство, охота, рыболовство
 - 2 Лесные промыслы, рыболовство, редкие очаги земледелия и животноводства
 - 3 Молочное скотоводство с посевами зерновых культур
 - 4 Молочно-мясное скотоводство, зерновые культуры
 - 5 Зерновые культуры (пшеница), мясо-молочное скотоводство, овцеводство
 - 6 Животноводство на горных пастбищах (овцеводство, мясо-молочное скотоводство)
 - 7 Пригородное хозяйство
- РАЙОНЫ РАСПРОСТРАНЕНИЯ**
- льна-долгунца
 - льна-кудряша
 - подсолнечника
 - Звероводство
 - Пантовое оленеводство
 - Пчеловодство
 - рыжика
 - садов
 - сахарной свеклы
 - Художественные промыслы
- Рыболовные порты ● Курорты

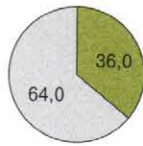
Цифрами на карте обозначены:
 1 Ненецкий авт. округ 2 Республика Хакасия 3 Республика Тыва

Масштаб 1: 12 500 000 (в 1 см 125 км)

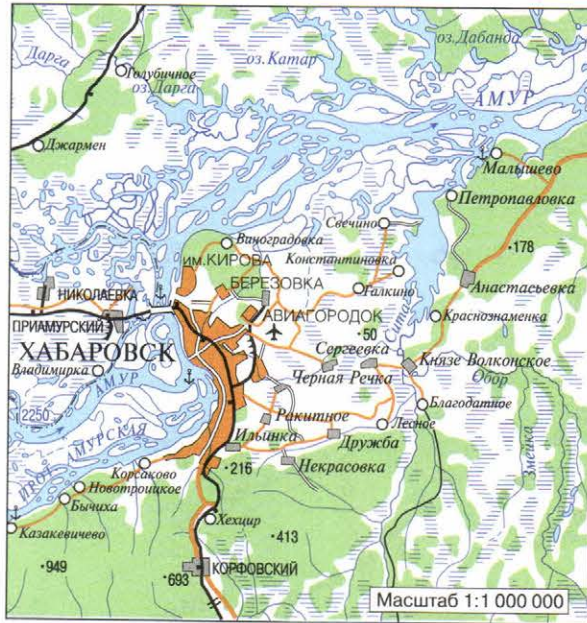
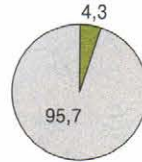
125 0 125 250 375 500 км



ДОЛЯ ДАЛЬНЕВОСТОЧНОГО РАЙОНА В ТЕРРИТОРИИ РОССИИ (в %)




ДОЛЯ ДАЛЬНЕВОСТОЧНОГО РАЙОНА В НАСЕЛЕНИИ РОССИИ (в %)



Добыча россыпного золота. Якутия

ХАБАРОВСК – центр Дальневосточного федерального округа и Хабаровского края. Население – 601,0 тыс. человек. Основан в 1858 году как военный пост. Крупный промышленный, научный и культурный центр Дальнего Востока.



Склад древесины



Оленевод



Моржи на побережье Чукотского моря

ОБРАБАТЫВАЮЩАЯ ПРОМЫШЛЕННОСТЬ

- Черная металлургия
- Цветная металлургия
- Нефтеперерабатывающая
- Химическая
- Машиностроение и металлообработка
- Лесная и деревообрабатывающая
- Производство строительных материалов
- Легкая
- Пищевая
- Рыбная
- ★ Художественные промыслы

ДОБЫВАЮЩАЯ ПРОМЫШЛЕННОСТЬ

- каменного угля
- бурого угля
- ▲ нефти
- ▲ природного газа
- вольфрамовых руд
- полиметаллических руд
- оловянных руд
- золота
- апатитов
- слюды
- поваренной соли
- цементного сырья
- алмазов
- ▲ Источники минеральных вод

СПЕЦИАЛИЗАЦИЯ СЕЛЬСКОГО ХОЗЯЙСТВА

- 1 Пастбищное оленеводство, охота, рыболовство
- 2 Животноводство (мясо-молочное скотоводство, коневодство), посевы зерновых культур (ячмень, овес)
- 3 Лесные промыслы, рыболовство, редкие очаги земледелия и животноводства
- 4 Молочно-мясное животноводство с посевами зерновых культур
- 5 Зерновые культуры с посевами сои, мясо-молочное скотоводство
- 6 Зерновые культуры (пшеница, рис), соя, молочно-мясное животноводство
- 7 Пригородное хозяйство

РАЙОНЫ РАСПРОСТРАНЕНИЯ

- 🌾 кукурузы
- 🌱 риса
- 🐷 Звероводство
- 🐃 Пантовое оленеводство
- 🐾 Промысел морского зверя
- 🌳 садов
- 🌱 сои
- 🐝 Пчеловодство
- 🐞 Места ловли крабов
- 🐾 Курорты

ЭЛЕКТРОСТАНЦИИ

- 🔥 Тепловые
- ☢ Атомные
- ⚡ Гидроэлектростанции
- 🌊 Каскад гидроэлектростанций

Цифрами на карте обозначены:

- 1 Красноярский край
- 2 Монголия
- 3 Еврейская авт. область
- 4 США
- 5 КНР




● Объекты Всемирного культурного наследия (список ЮНЕСКО)

- | | |
|--|---|
| <p>1 Московский Кремль и Красная площадь XIII–XVII вв., Москва</p> <p>2 Церковь Вознесения в Коломенском XVI в., Москва</p> <p>3 Ансамбль Новодевичьего монастыря XVI–XVII вв., Москва</p> <p>4 Исторический центр Санкт-Петербурга и связанные с ним комплексы памятников XVIII–XX вв., Санкт-Петербург, Ленинградская область</p> <p>5 Исторические памятники Великого Новгорода и окрестностей XI–XVII вв., Великий Новгород, Новгородская область</p> <p>6 Архитектурный ансамбль Кижского погоста XVIII–XIX вв., Республика Карелия</p> <p>7 Культурный и исторический ансамбль «Соловецкие острова» XVI–XVII вв., Архангельская область</p> <p>8 Белокаменные памятники Владимира и Суздаля, XII–XIII вв., Владимир, Суздаля</p> | <p>9 Архитектурный ансамбль Троице-Сергиевой лавры XV–XVIII вв., Сергиев Посад</p> <p>10 Историко-архитектурный комплекс «Казанский кремль» XVI–XXI вв., Казань</p> <p>11 Ансамбль Ферапонтова монастыря XV–XVII вв., Вологодская область</p> <p>12 Цитадель, старый город и крепостные сооружения Дербента VI–XIX вв., Республика Дагестан</p> <p>13 Исторический центр Ярославля XVI–XX вв., Ярославль</p> <p>14 Архитектурно-исторический комплекс Булгар X–XV вв., Болгар, Республика Татарстан</p> <p>15 Древний город Херсонес Таврический и его хора (территория вокруг античного города), V в. до н. э.–XIV в., Севастополь</p> <p>16 Геодезическая дуга Струве XIX в., Ленинградская область</p> |
|--|---|





Колокольня «Иван Великий»
в Московском Кремле



Архитектурный ансамбль Кижского погоста




Новодевичий монастырь. Москва



Софийский собор. Великий Новгород




Церковь Ильи Пророка в Ярославле



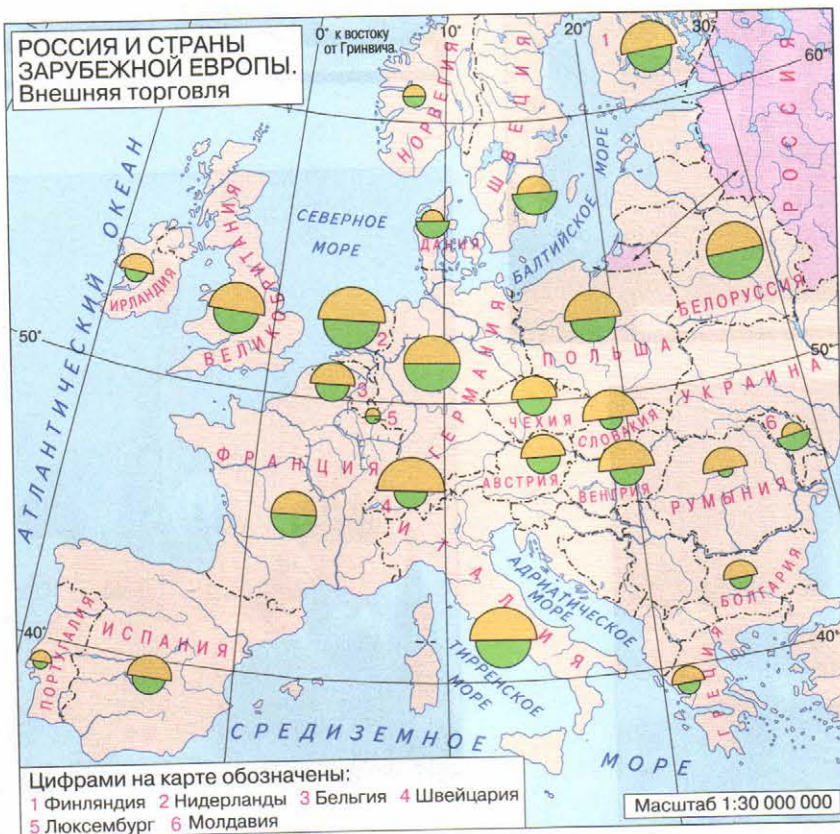
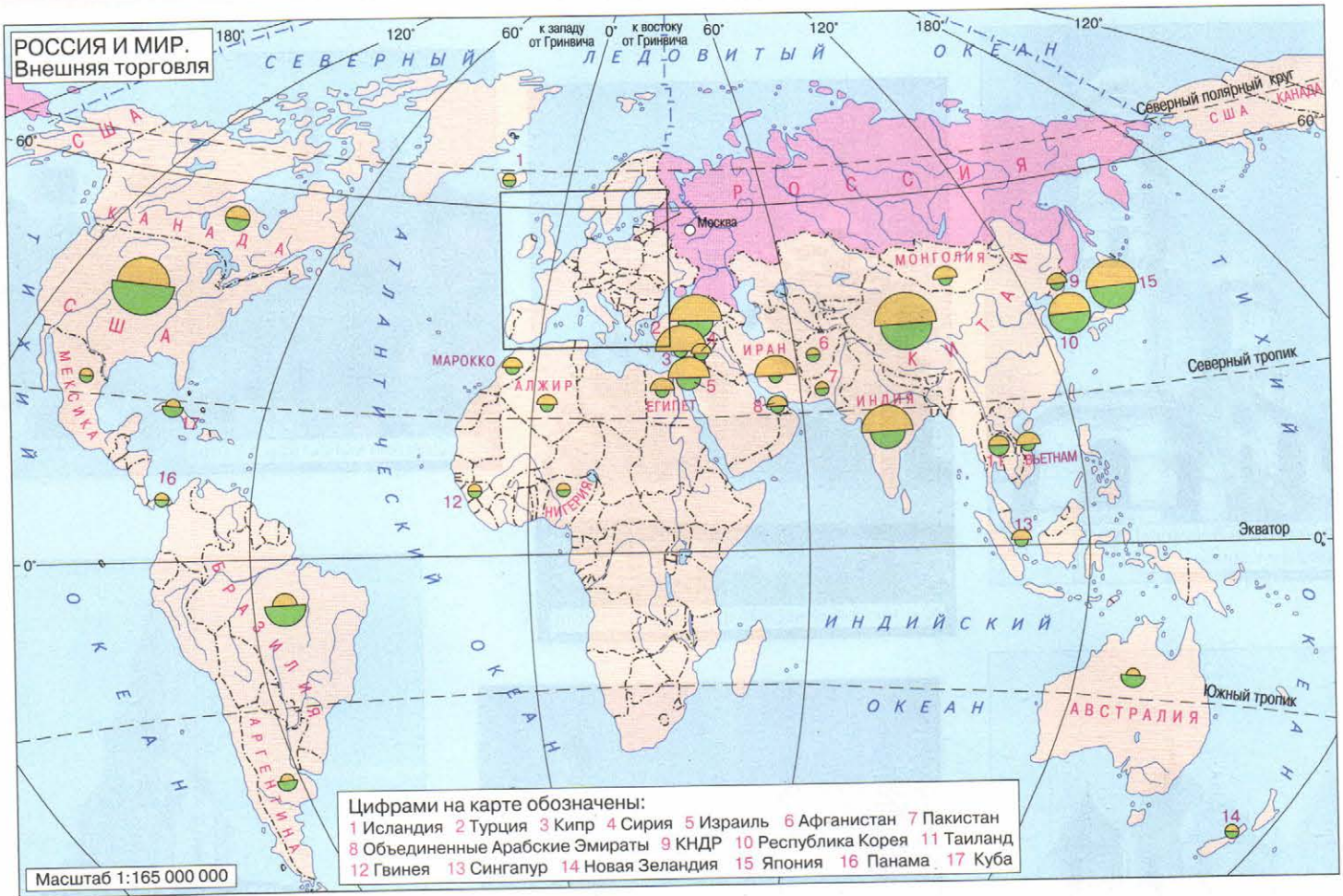
Церковь Вознесения в Коломенском. Москва



Древний город Херсонес Таврический. Севастополь



Собор Покрова Пресвятой Богородицы, что
на Рву (Храм Василия Блаженного). Москва



ИЗДАТЕЛЬСКИЙ ДОМ «АСТ-ПРЕСС»

105082, Москва, Переведеновский пер., д. 13, стр. 4.
(Проезд в Москве: ст. метро «Бауманская», «Электrozаводская»)
Тел./факс: (495) 276-09-60, тел.: (495) 276-01-11
E-mail: astpress@astpress.ru
Информационная поддержка: www.astpress.ru

По вопросам оптовой продажи печатной продукции обращаться в Издательский дом «АСТ-ПРЕСС»:

Офис: 105082, Москва, Переведеновский пер., д. 13, стр. 4
Тел./факс: (495) 276-09-60, тел.: (495) 276-01-11
E-mail: sales@astpress.ru

Склад: 143900, Московская обл., Балашиха,
Западная промзона, ш. Энтузиастов, д. 4
Тел.: (495) 223-62-32 (многоканальный),
факс: (495) 521-94-74

**Книги Издательского дома «АСТ-ПРЕСС»
вы всегда можете приобрести в книжных магазинах страны,
в том числе в Интернете**

Карты атласа составлены в соответствии с Федеральным конституционным законом Российской Федерации от 21.03.2014 г. № 6-ФКЗ «О принятии в Российскую Федерацию Республики Крым и образовании в составе Российской Федерации новых субъектов — Республики Крым и города федерального значения Севастополя».

УДК 911.3
ББК 65.049(2 Рос)
А92

**АТЛАС
с комплектом контурных карт
ЭКОНОМИЧЕСКАЯ И СОЦИАЛЬНАЯ ГЕОГРАФИЯ РОССИИ. 9 класс**

Авторы: А. И. Алексеев, О. В. Гаврилов

Научные редакторы карт: А. М. Берлянт, А. В. Востокова
Рецензенты: А. Т. Зверев, А. А. Лобжанидзе, Т. А. Погодина
Редактор А. Ю. Окнин
Дизайнер обложки В. И. Пантелеев
Картограф К. И. Гезин

Подписано в печать 12.02.16. Формат 60х90/8.
Печать офсетная. Бумага мелованная. Печ. л. 5,0+3,0.
Тираж 14 000 экз. Заказ № 13960.

Лицензия на осуществление картографических работ № 77-00283Ф от 26.03.2012 г.

Общероссийский классификатор продукции ОК-005-93, том 2-955511
Сертификат соответствия № РОСС RU. АГ51. Н 03801 № 0828470 от 07.09.2015 г.

ООО «АСТ-ПРЕСС ШКОЛА».
105082, Москва, Переведеновский пер., д. 13, стр. 4.

Отпечатано в типографии ООО «ЛД-ПРИНТ» 196644, Санкт-Петербург,
Колпинский р-н, пос. Саперный, территория предприятия «Балтика», д. 6/н, лит. Ф.
Тел.: (812) 462-83-83, e-mail: office@ldprint.ru

АТЛАС

с комплектом контурных карт
ЭКОНОМИЧЕСКАЯ И СОЦИАЛЬНАЯ ГЕОГРАФИЯ РОССИИ
обновлённый и дополненный

9 класс

Полный комплект атласов и контурных карт с заданиями по географии

- Начальный курс географии. 5 класс
- Начальный курс географии. 6 класс
- Материки, океаны, народы и страны. 7 класс
- Физическая география России. 8 класс
- Экономическая и социальная география России. 9 класс
- География России. 8–9 классы
- Экономическая и социальная география мира. 10 класс

Полный комплект атласов, контурных карт и контрольных заданий по истории

- История Древнего мира. 5 класс
- История Средних веков. 6 класс
- Новая история XVI–XVIII веков. Часть I. 7 класс
- Новая история XIX века. Часть II. 8 класс
- Новейшая история XX – начало XXI века. 9 класс
- История России с древнейших времён до начала XVI века. 6 класс
- История России XVI–XVIII веков. 7 класс
- История России XIX века. 8 класс
- История России XX – начало XXI века. 9 класс
- История России с древнейших времён – начало XXI века. 10–11 классы


Контурные карты можно приобрести как отдельно, так и в комплекте с атласом

 **Федеральный
Государственный
Образовательный
СТАНДАРТ**

ISBN 978-5-94776-932-6



9 785947 769326





КОНТУРНЫЕ КАРТЫ

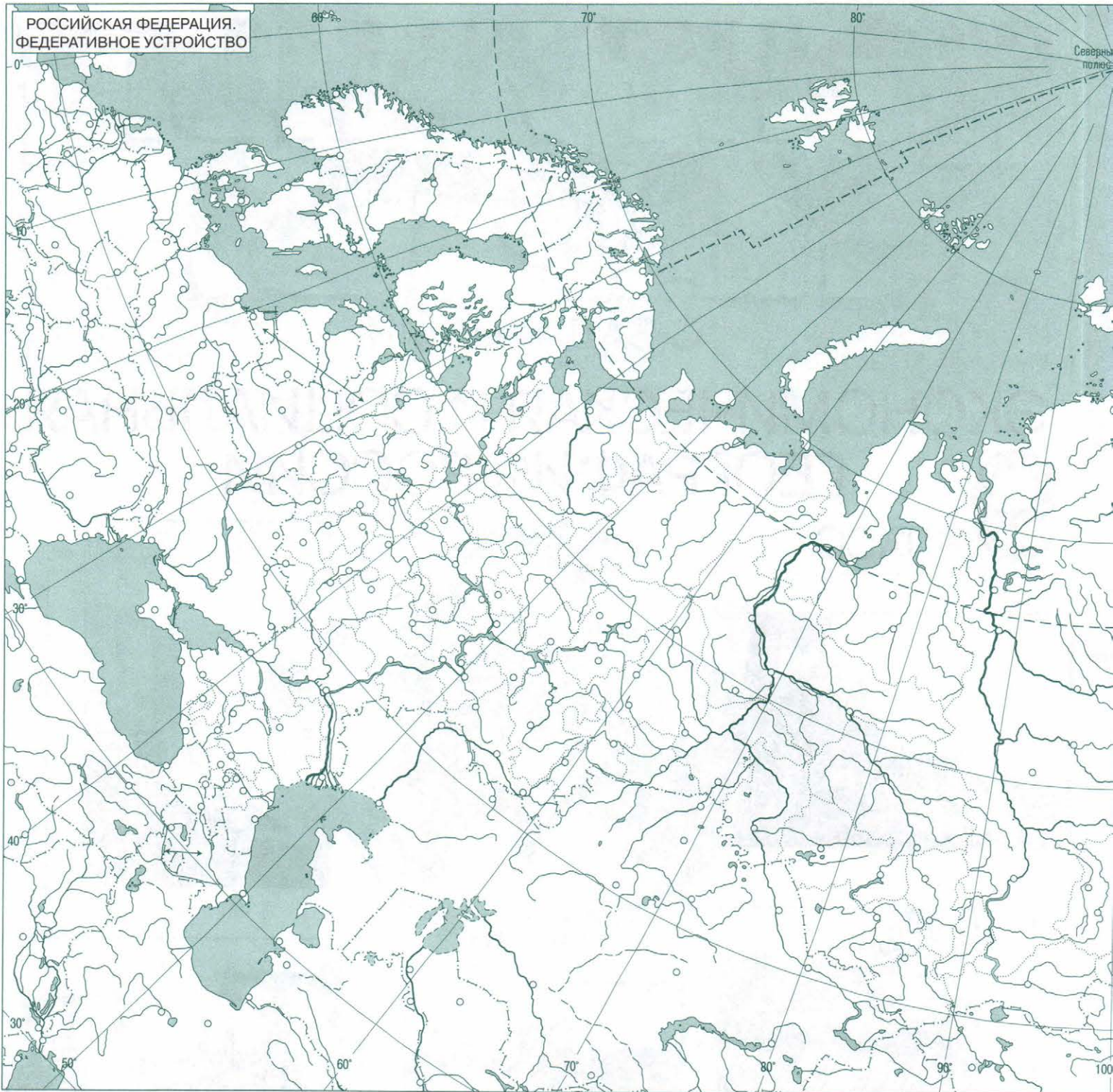
С ЗАДАНИЯМИ

ЭКОНОМИЧЕСКАЯ И СОЦИАЛЬНАЯ
ГЕОГРАФИЯ РОССИИ

9
КЛАСС



АСТ-ПРЕСС
ИЗДАТЕЛЬСКИЙ ДОМ



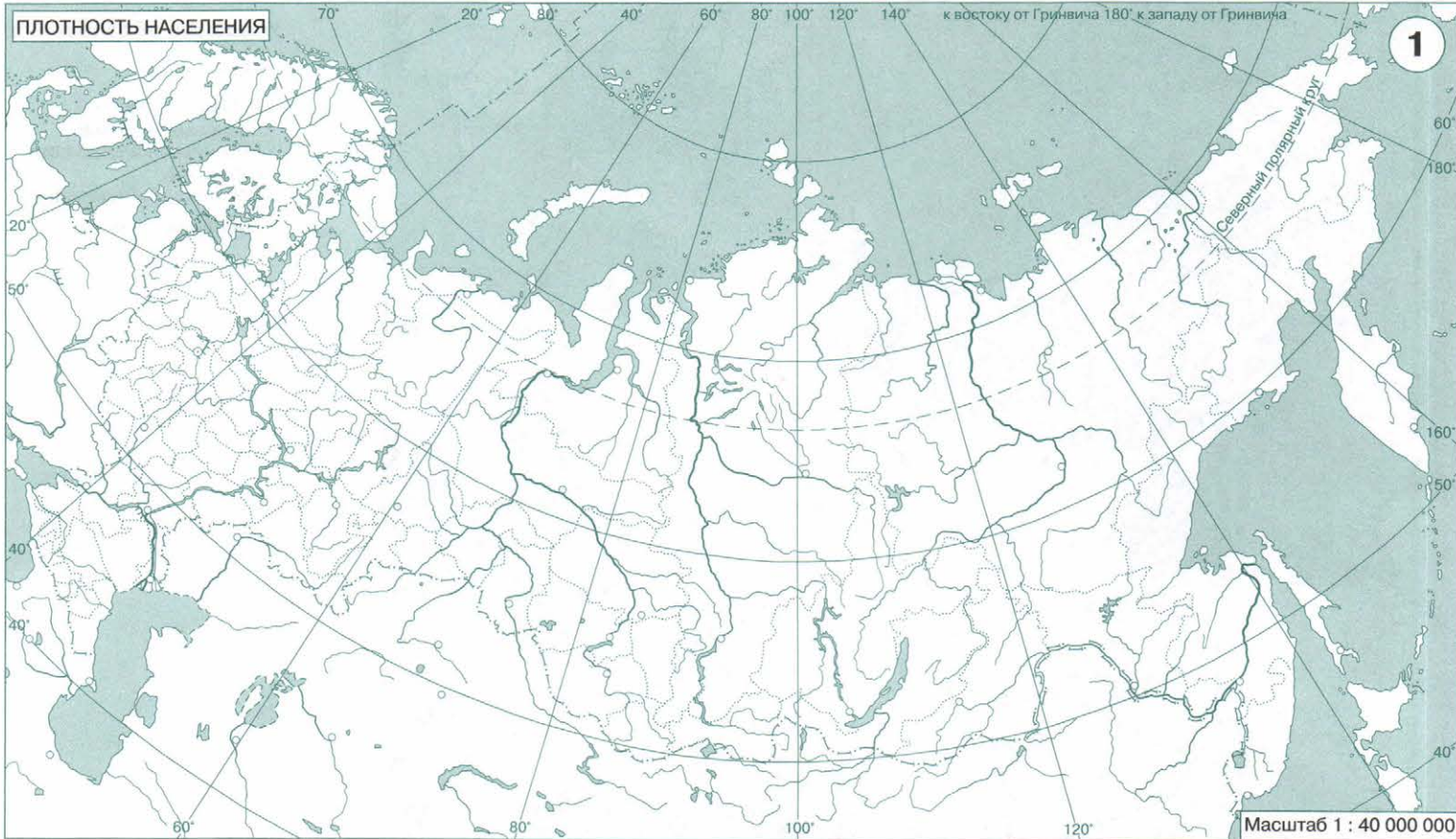
Задания

1. Линией красного цвета проведите государственную границу Российской Федерации.
2. Линией фиолетового цвета проведите границы государств, территория которых граничит с Российской Федерацией. На карте цифрами обозначьте эти государства. В разделе «Условные обозначения» напишите названия государств и их столиц.
3. Красными кружками обозначьте города федерального значения. Подпишите их названия.
4. Линией красного цвета подчеркните название столицы Российской Федерации.
5. Линией зелёного цвета проведите границы республик, входящих в состав Российской Федерации. На карте цифрами обозначьте республики и в разделе «Условные обозначения» напишите их названия. Зелёными кружками отметьте столицы республик и подпишите их названия.
6. Линией синего цвета проведите границы автономных округов, входящих в состав Российской Федерации. На карте цифрами обозначьте территории автономных округов и в разделе «Условные обозначения» напишите их названия. Синими кружками отметьте на карте центры автономных округов и подпишите их названия.

**Условные обозначения****ГРАНИЦЫ**

- государственные полярных владений Российской Федерации
- - - - - границы субъектов Российской Федерации
- Населённые пункты

Масштаб 1 : 25 000 000



Условные обозначения

- Государственная граница Российской Федерации
- - - - - Граница полярных владений Российской Федерации
- Границы субъектов Российской Федерации

Задания

Карта 1. Плотность населения

1. Обозначьте пунсонами разных размеров города с населением:
 - а) более 1 млн человек;
 - б) от 500 тыс. до 1 млн человек.
 Подпишите названия этих городов.
2. Линией зелёного цвета проведите границу региона, на территории которого плотность сельского населения превышает показатель 1 человек на 1 кв. км.

Карта 2. Доля детей и подростков в населении России

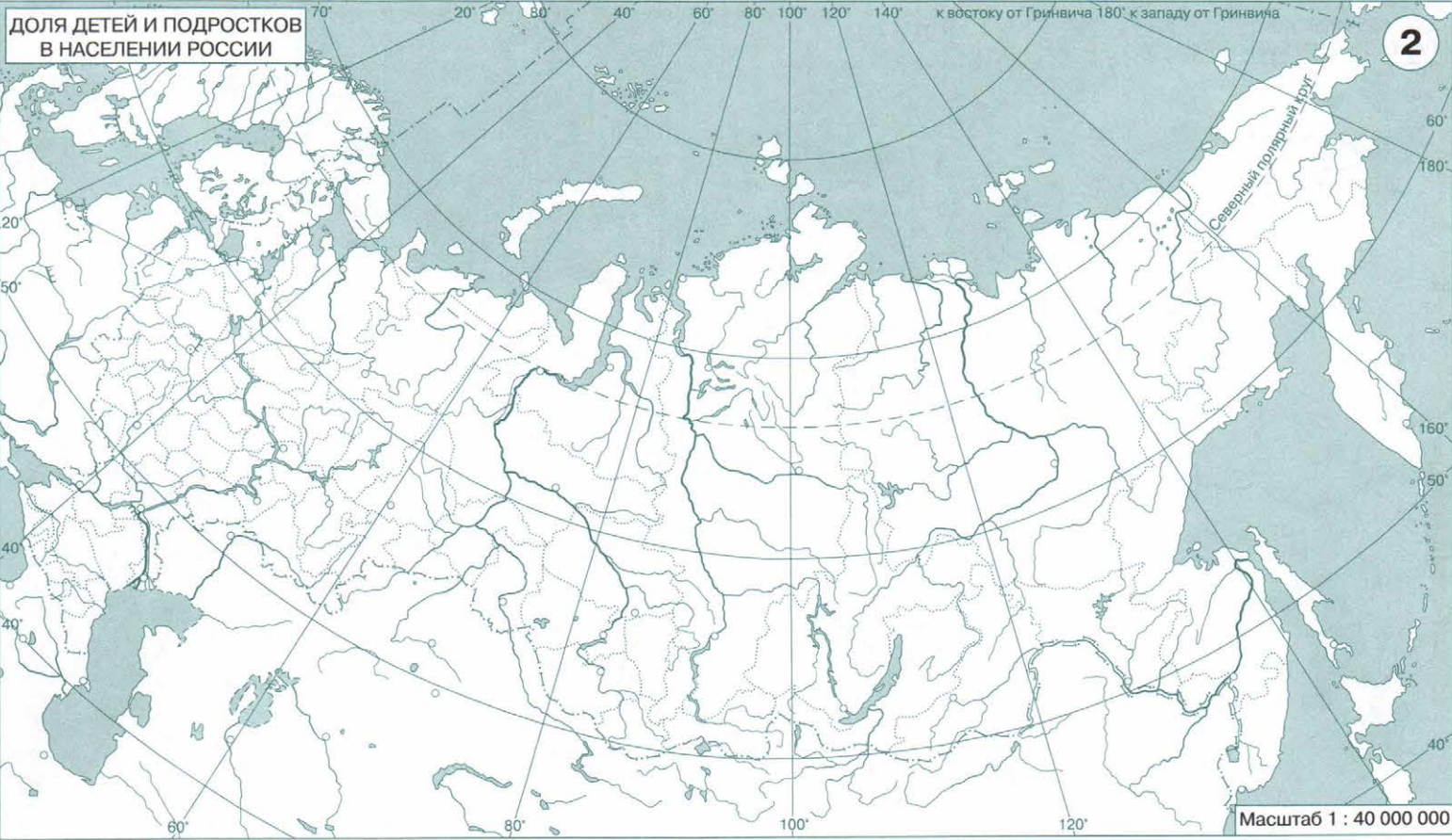
1. Закрасьте разными цветами территории субъектов Российской Федерации, в населении которых доля численности детей и подростков составляет:
 - а) 20–22%;
 - б) 22–25%;
 - в) более 25%.

Карта 3. Доля пожилых людей в населении России

1. Закрасьте разными цветами территории субъектов Российской Федерации, в населении которых доля численности пожилых людей составляет:
 - а) 12–20%;
 - б) 20–24%;
 - в) более 24%.

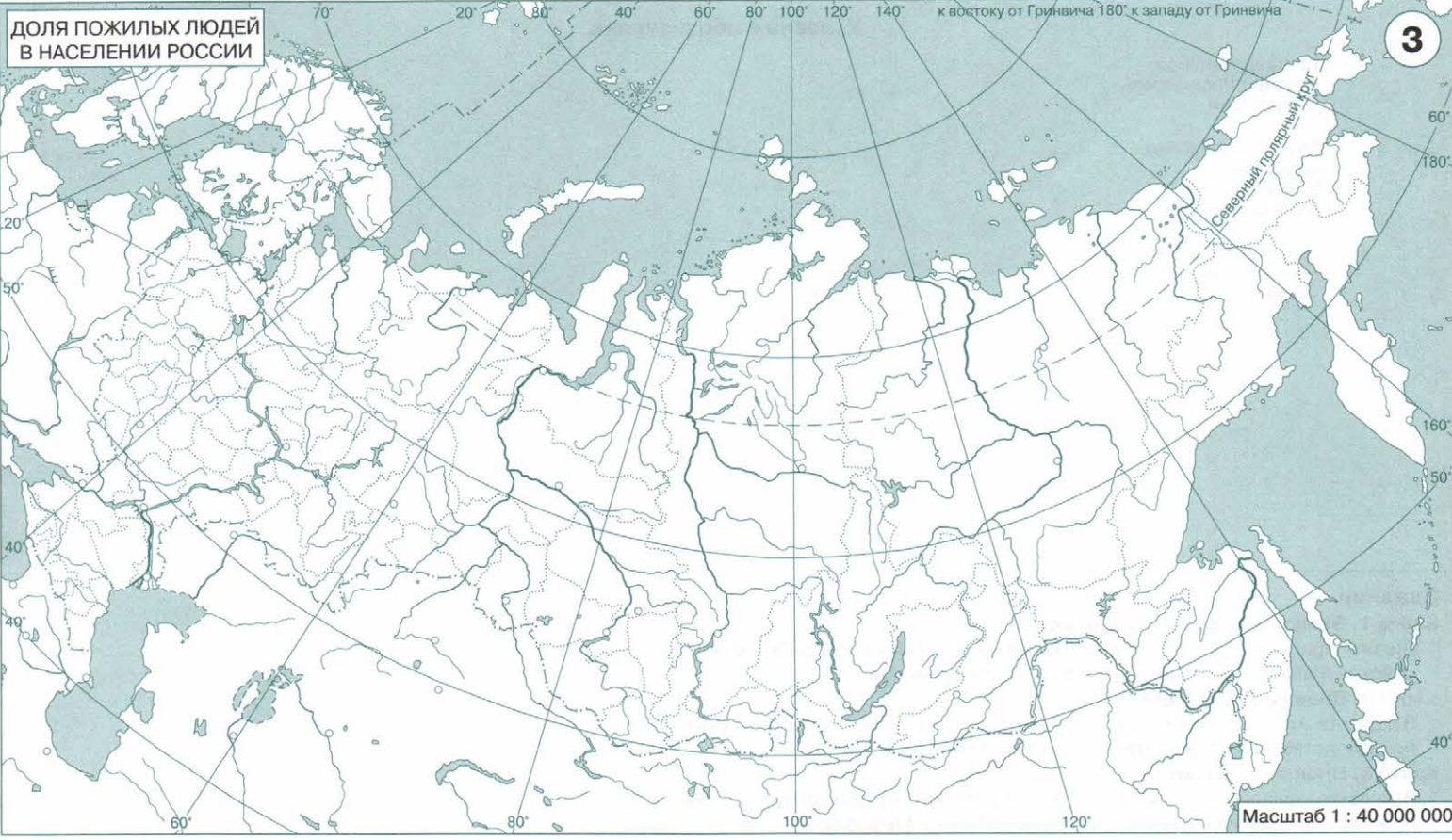
**ДОЛЯ ДЕТЕЙ И ПОДРОСТКОВ
В НАСЕЛЕНИИ РОССИИ**

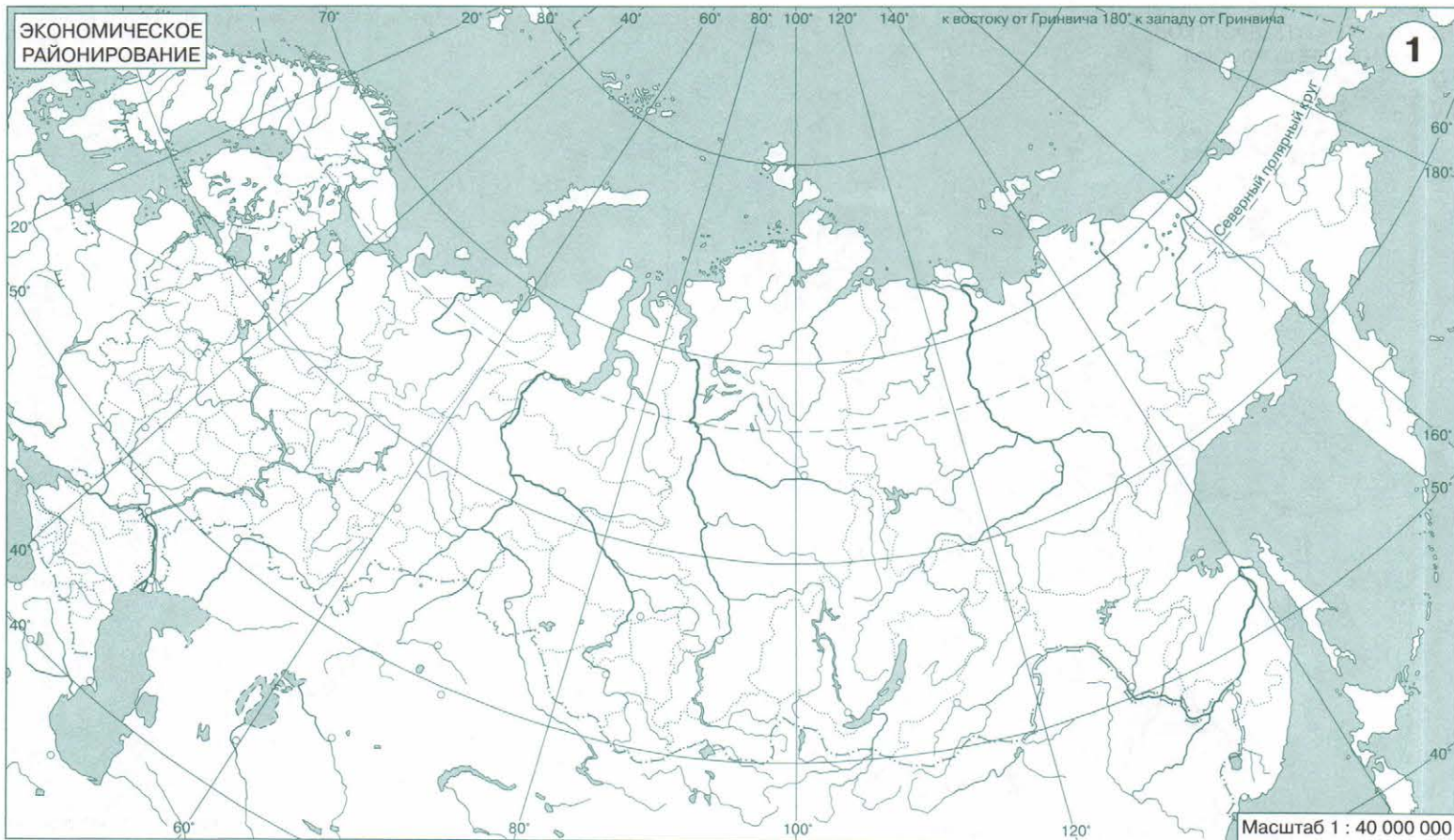
2



**ДОЛЯ ПОЖИЛЫХ ЛЮДЕЙ
В НАСЕЛЕНИИ РОССИИ**

3





Условные обозначения

- Государственная граница Российской Федерации
- - - - - Граница полярных владений Российской Федерации
- Границы субъектов Российской Федерации

Задания

Карта 1. Экономическое районирование

1. Линией красного цвета проведите границы экономических районов Российской Федерации. Подпишите названия этих районов.

Карта 2. Производство зерна

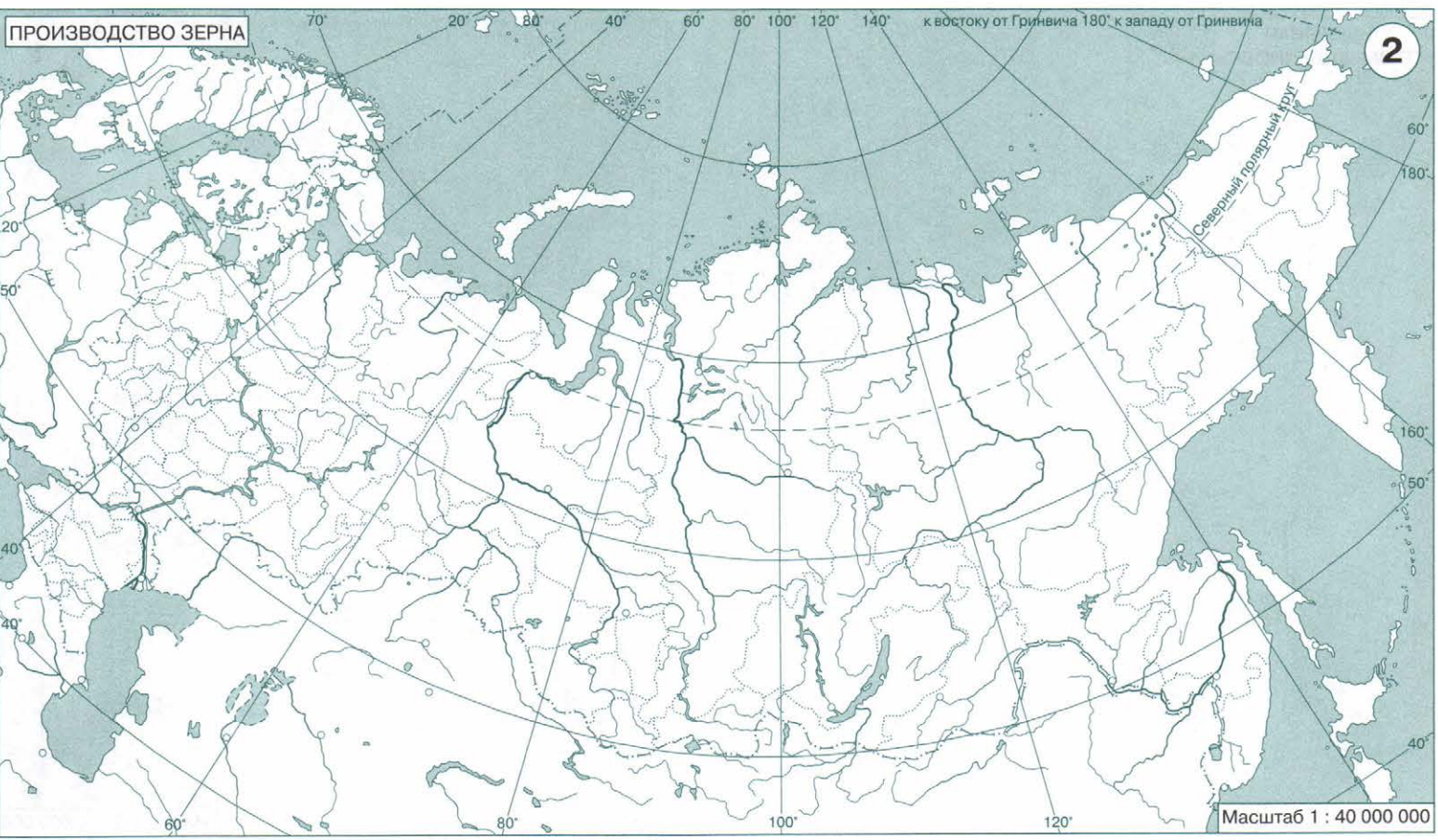
1. Закрасьте жёлтым цветом районы, на территории которых среднегодовое производство зерна превышает показатель 900 кг на 1 человека.

Карта 3. Производство мяса

1. Закрасьте красным цветом районы, на территории которых среднегодовое производство мяса превышает показатель 40 кг на 1 человека.

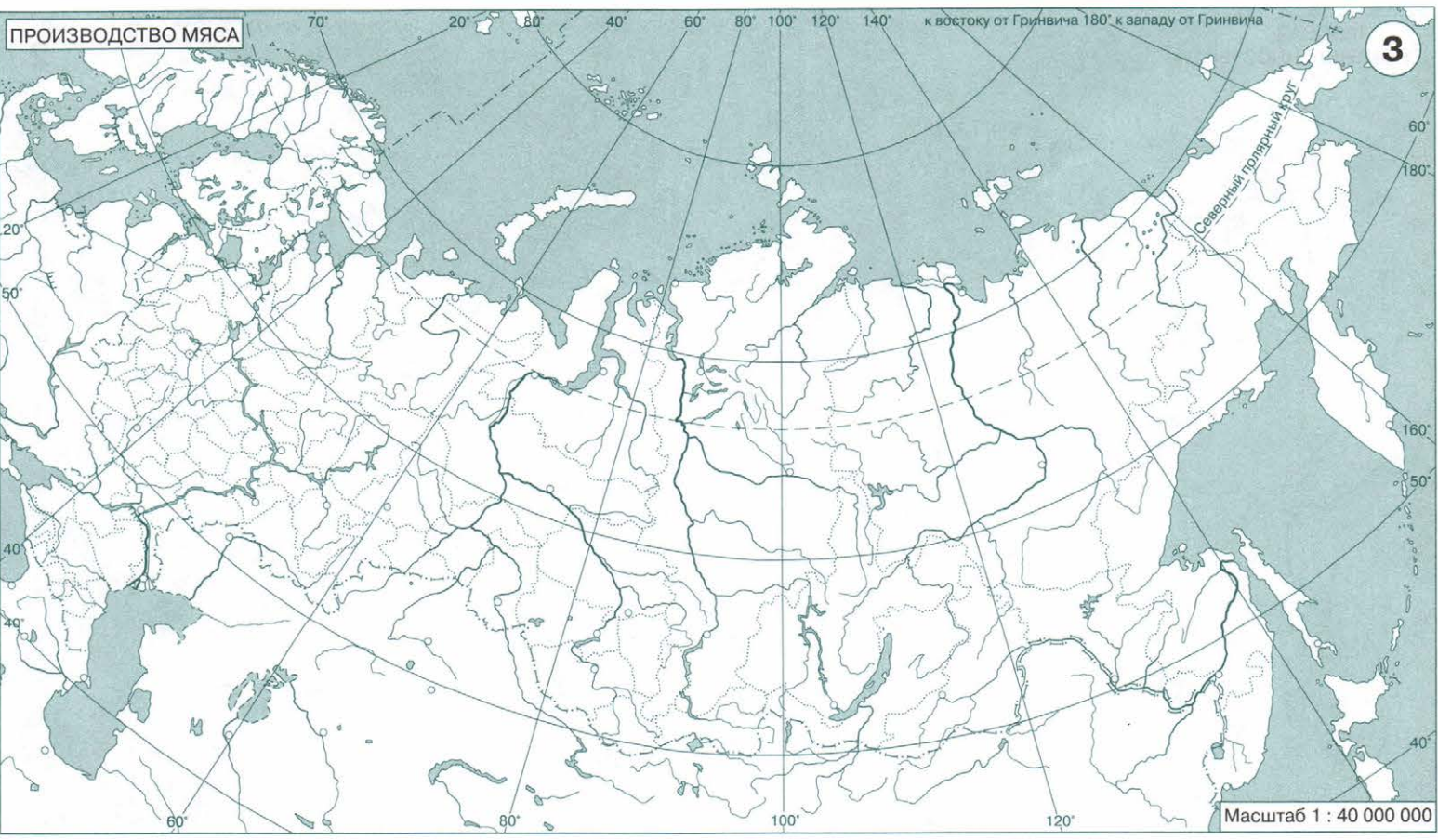
ПРОИЗВОДСТВО ЗЕРНА

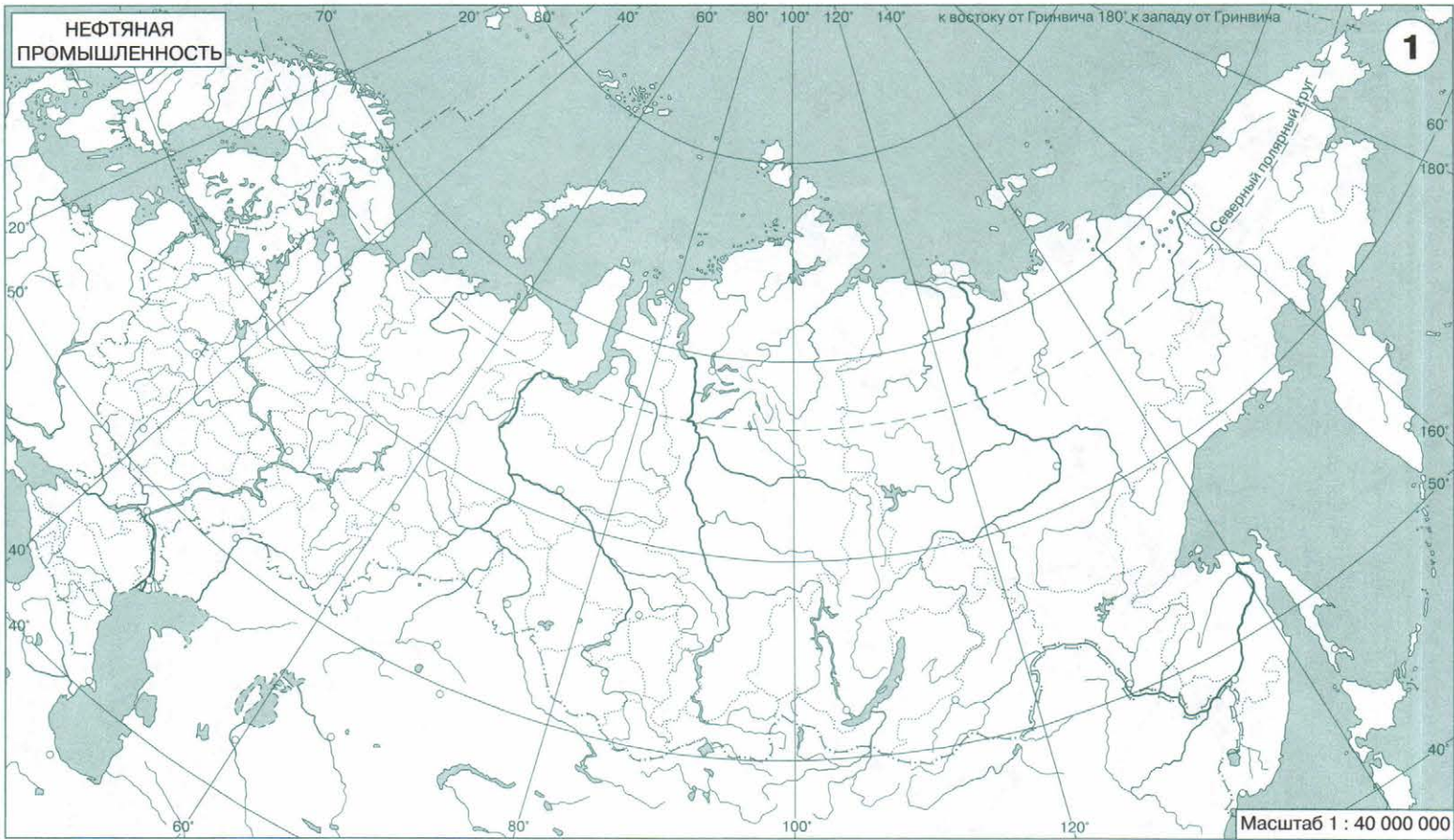
2

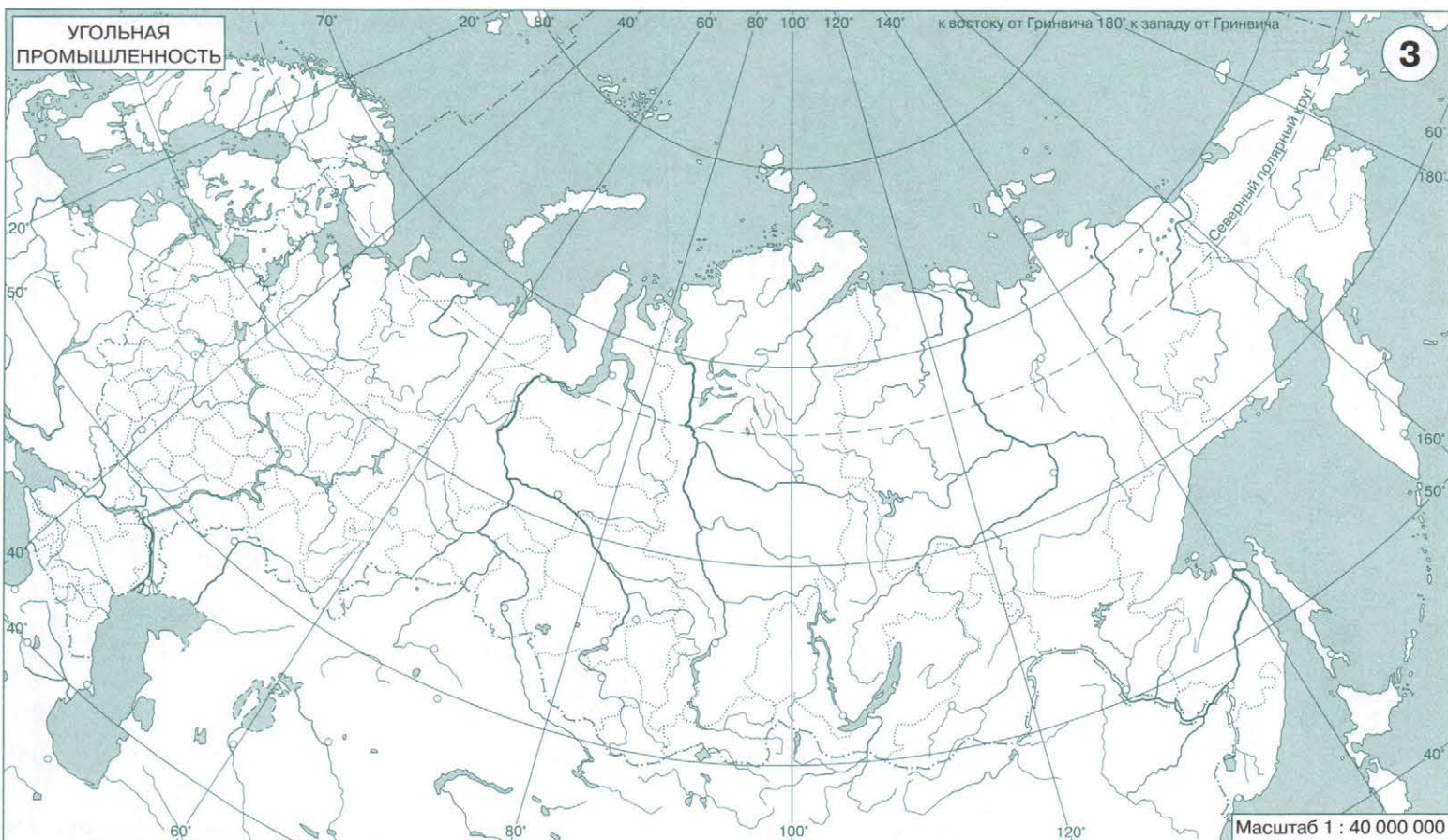


ПРОИЗВОДСТВО МЯСА

3







Условные обозначения

- Государственная граница Российской Федерации
- |-|-|-| Граница полярных владений Российской Федерации
- Границы субъектов Российской Федерации

Задания

Карта 1. Нефтяная промышленность

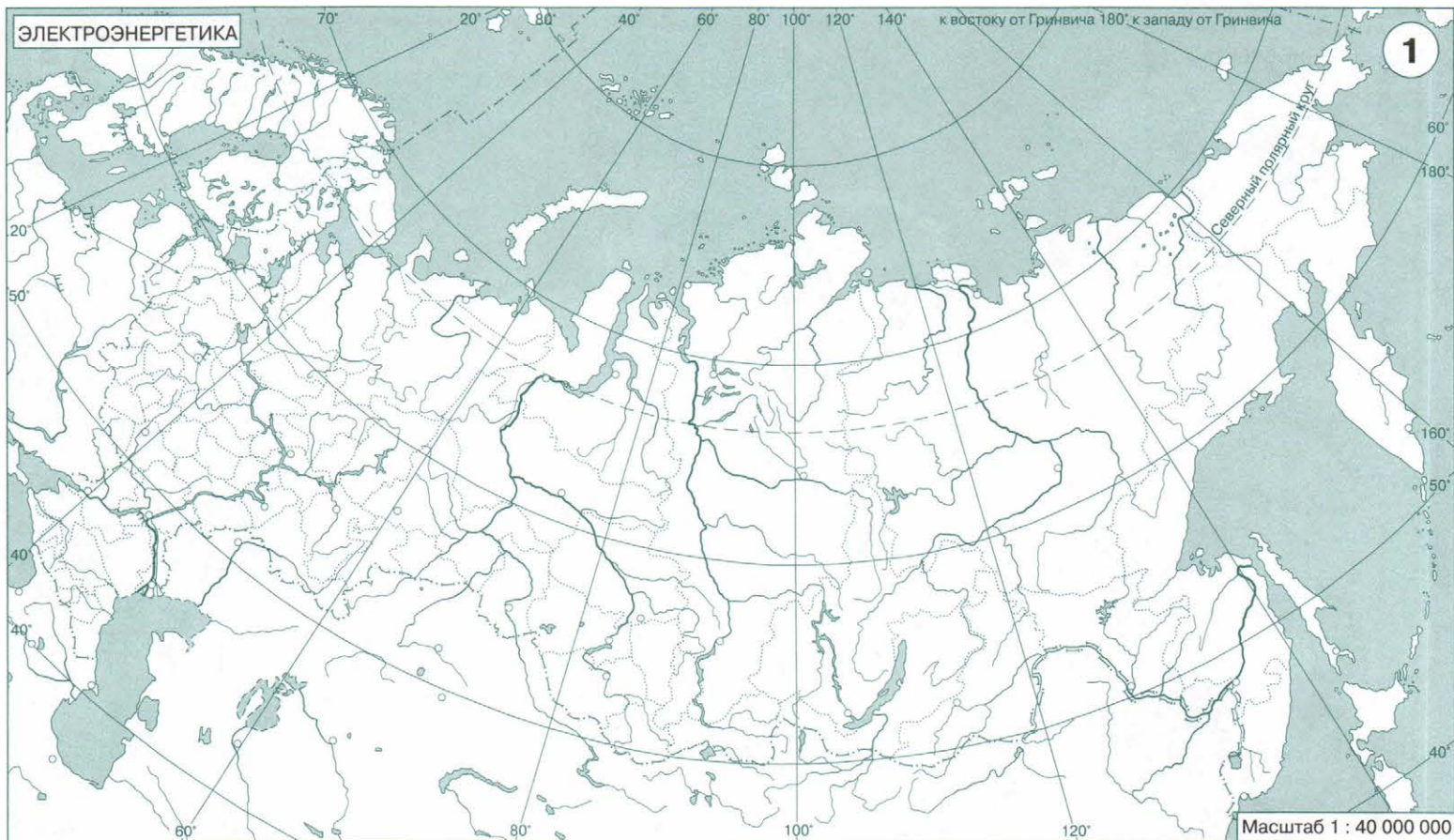
1. Проведите границы и закрасьте фиолетовым цветом территории регионов России, специализирующихся на добыче нефти.
2. Нанесите важнейшие нефтепроводы и порты экспорта нефти.

Карта 2. Газовая промышленность

1. Проведите границы и закрасьте голубым цветом территории регионов России, специализирующихся на добыче природного газа.
2. Нанесите важнейшие газопроводы.

Карта 3. Угольная промышленность

1. Проведите границы и закрасьте серым цветом территории регионов России, специализирующихся на добыче угля.



Условные обозначения

- Государственная граница Российской Федерации
- |-|-|-| Граница полярных владений Российской Федерации
- Границы субъектов Российской Федерации

Задания

Карта 1. Электроэнергетика

1. С помощью условных знаков нанесите на карту крупнейшие электростанции разных типов. Подпишите названия этих электростанций.
2. Нанесите крупнейшие линии электропередачи.

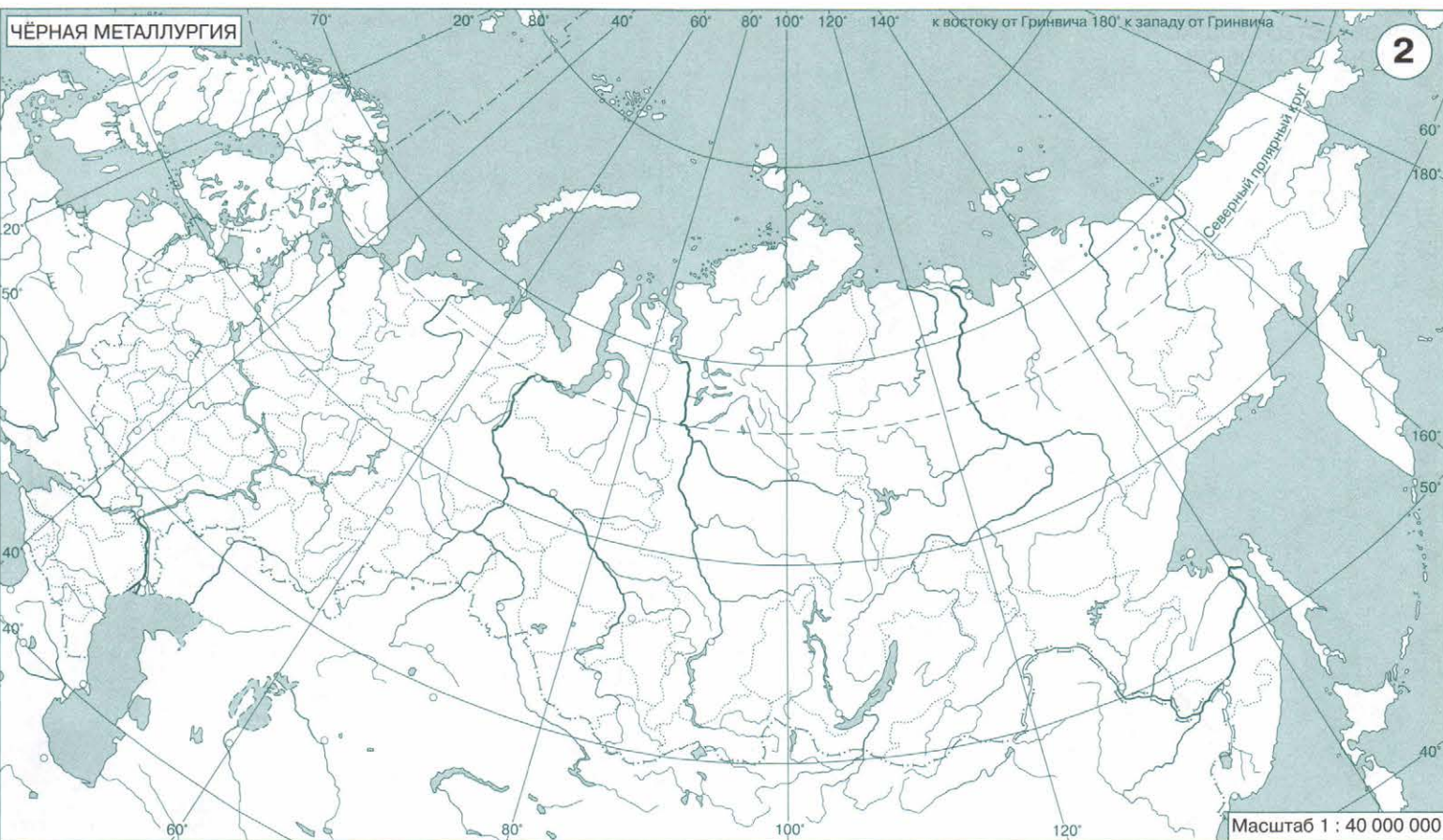
Карта 2. Чёрная металлургия

1. Проведите границы и закрасьте коричневым цветом территории регионов России, специализирующихся на чёрной металлургии.
2. Кружками фиолетового цвета отметьте центры чёрной металлургии полного цикла. Подпишите названия центров.
3. Кружками красного цвета отметьте центры передельной металлургии. Подпишите названия центров.

Карта 3. Цветная металлургия

1. Выделите границы и закрасьте жёлтым цветом территории регионов России, специализирующихся на цветной металлургии.
2. Кружками разных цветов отметьте на карте центры производства алюминия, меди, никеля и цинка. Подпишите названия центров.

2



3

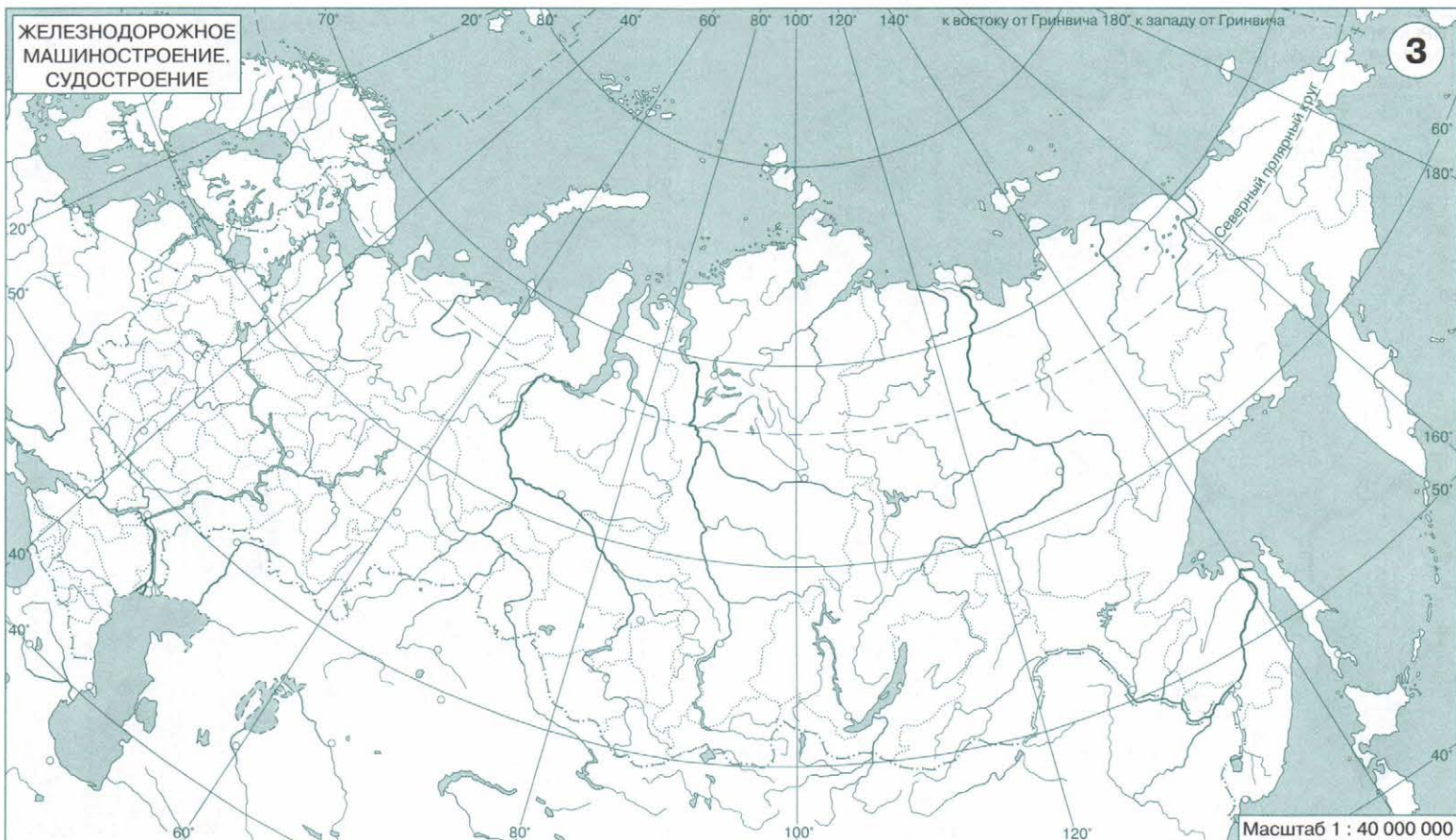


**ПРОИЗВОДСТВО ПРОДУКЦИИ
МАШИНОСТРОЕНИЯ****АВТОМОБИЛЬНАЯ ПРОМЫШЛЕННОСТЬ.
ТРАКТОРНОЕ И СЕЛЬСКОХОЗЯЙСТВЕННОЕ
МАШИНОСТРОЕНИЕ**

ЖЕЛЕЗНОДОРОЖНОЕ
МАШИНОСТРОЕНИЕ.
СУДОСТРОЕНИЕ

3

к востоку от Гринвича 180° к западу от Гринвича



Масштаб 1 : 40 000 000

Условные обозначения

- Государственная граница Российской Федерации
- - - - - Граница полярных владений Российской Федерации
- Границы субъектов Российской Федерации

Задания

Карта 1. Производство продукции машиностроения

- Кружками красного цвета отметьте на карте крупнейшие центры машиностроения. Подпишите их названия.
- Жёлтым цветом выделите на карте регионы с наибольшей долей продукции машиностроения в общем объёме промышленного производства.

Карта 2. Автомобильная промышленность. Тракторное и сельскохозяйственное машиностроение

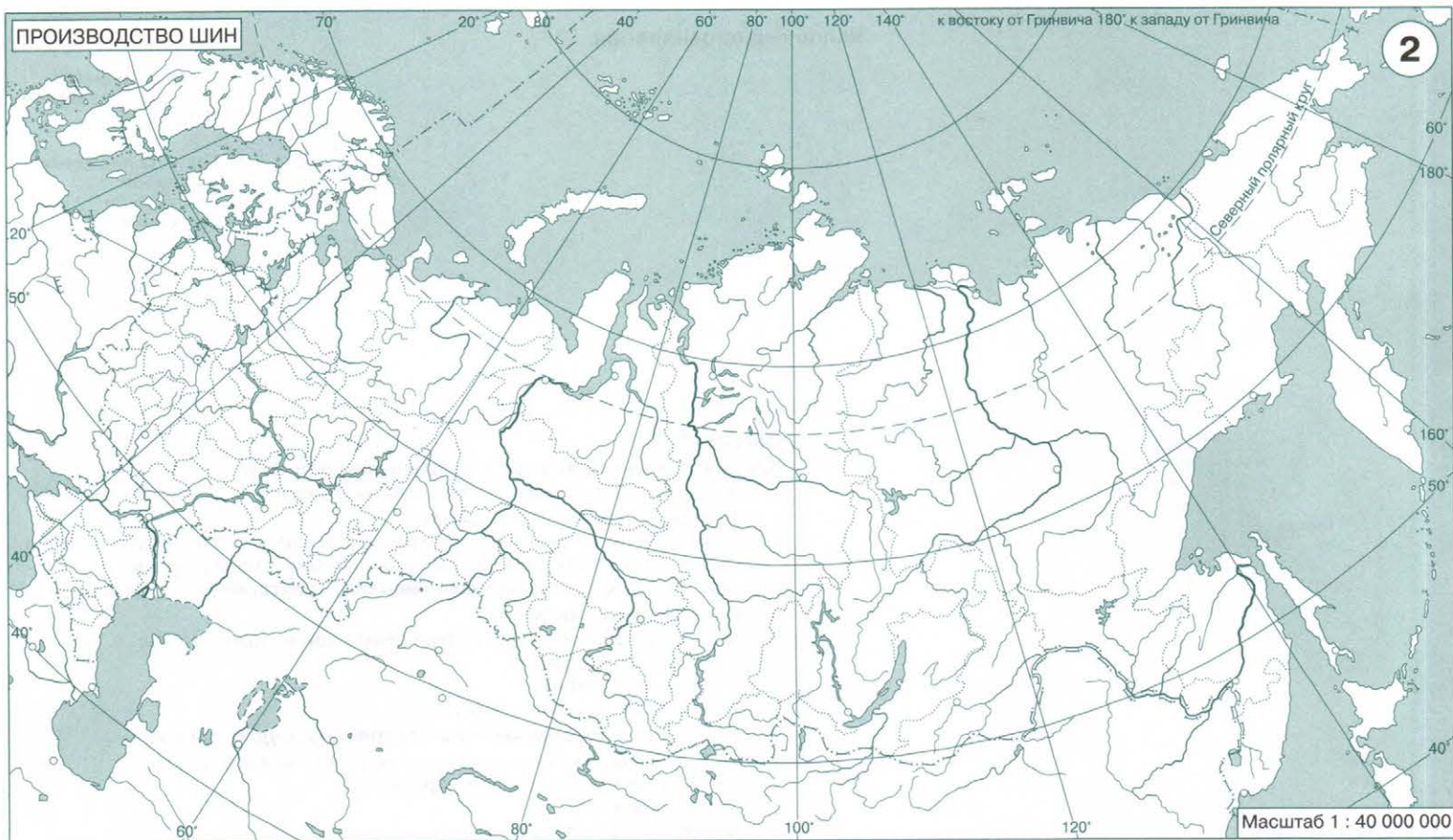
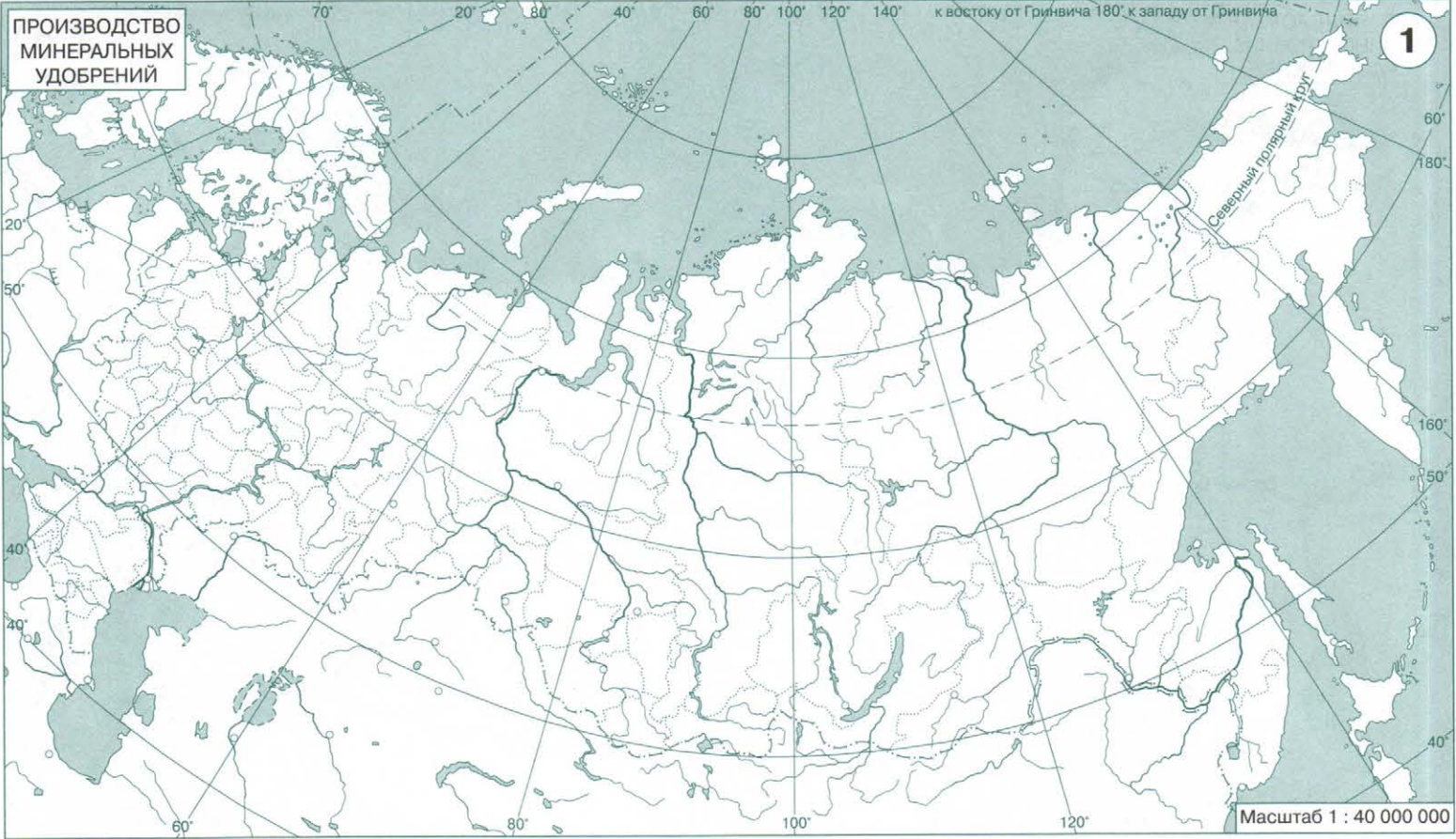
- Отметьте на карте кружками разных цветов крупнейшие центры:
 - автомобилестроения;
 - тракторостроения.

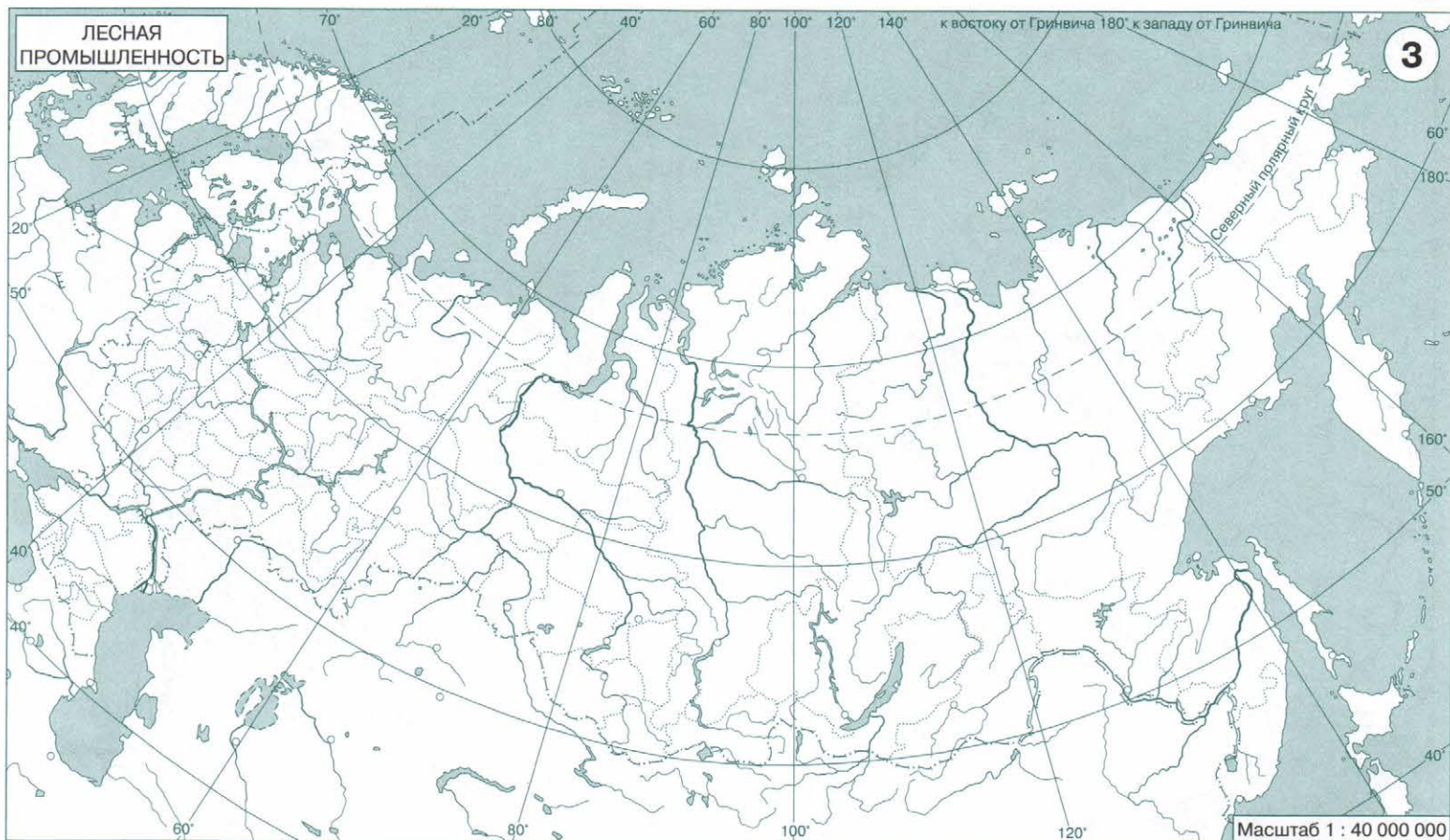
Подпишите названия этих центров.

Карта 3. Железнодорожное машиностроение. Судостроение

- Отметьте на карте кружками разных цветов крупнейшие центры:
 - железнодорожного машиностроения;
 - судостроения.

Подпишите названия этих центров.





Условные обозначения

- Государственная граница Российской Федерации
- - - - - Граница полярных владений Российской Федерации
- Границы субъектов Российской Федерации

Задания

Карта 1. Производство минеральных удобрений

- Условными знаками обозначьте на карте центры добычи апатитов, фосфоритов и калийных солей.
- Красными кружками выделите на карте крупнейшие центры производства минеральных удобрений. Подпишите названия центров.

Карта 2. Производство шин

- Коричневыми кружками отметьте крупнейшие центры производства шин. Подпишите названия центров.

Карта 3. Лесная промышленность

- Проведите границы и закрасьте зелёным цветом ареалы, на территории которых лесистость превышает 30%.
- Кружками красного цвета отметьте на карте крупнейшие центры целлюлозно-бумажной промышленности. Подпишите названия этих центров.



Задания

1. Линиями чёрного цвета проведите на карте важнейшие железные дороги:

- а) Москва – Санкт-Петербург с ответвлением на Мурманск;
- б) Москва – Смоленск – Минск – Брест – Варшава – Берлин с ответвлением Минск – Вильнюс – Калининград; Москва – Рига;
- Москва – Ярославль – Вологда – Архангельск;
- Москва – Казань – Екатеринбург;
- Москва – Самара – Уфа – Челябинск – Петропавловск – Омск;
- Москва – Волгоград – Астрахань;
- Москва – Воронеж – Ростов-на-Дону – Махачкала – Баку;
- Ростов-на-Дону – Новороссийск;
- Москва – Тула – Орёл – Курск – Белгород – Харьков – Севастополь;
- Москва – Брянск – Киев;

- в) Москва – Ярославль – Киров – Пермь – Екатеринбург – Тюмень – Омск – Новосибирск – Красноярск – Иркутск – Хабаровск – Владивосток (Транссибирская магистраль); Магнитогорск – Астана – Павлодар – Барнаул – Новокузнецк – Абакан – Тайшет (Южно-Сибирская магистраль); Тайшет – Братск – Усть-Кут – Нижнеангарск – Тында – Комсомольск-на-Амуре – Советская Гавань (Байкало-Амурская магистраль).

Подпишите названия населённых пунктов, через которые проходят эти железные дороги.

2. Линиями красного цвета проведите на карте магистральные автомобильные дороги. Подпишите названия крупных населённых пунктов, через которые проходят эти дороги.



Условные обозначения

ГРАНИЦЫ

- государственные
полярных владений
Российской Федерации
- - - - - субъектов
Российской Федерации
- Населённые пункты

Масштаб 1 : 25 000 000

3. Линией зелёного цвета проведите на карте Северный морской путь. Подпишите названия морей, через которые он проходит.
4. Линией оранжевого цвета выделите участок Северного морского пути (от Дудинки до Мурманска), по которому производится перевозка готовой продукции «Норильского никеля» и медно-никелевых концентратов для заводов, расположенных на Кольском полуострове.
5. Отметьте условным знаком (якорь) крупнейшие морские порты. Подпишите их названия.
6. Линией синего цвета выделите судоходные участки крупнейших рек России. Подпишите названия этих рек.





Задания

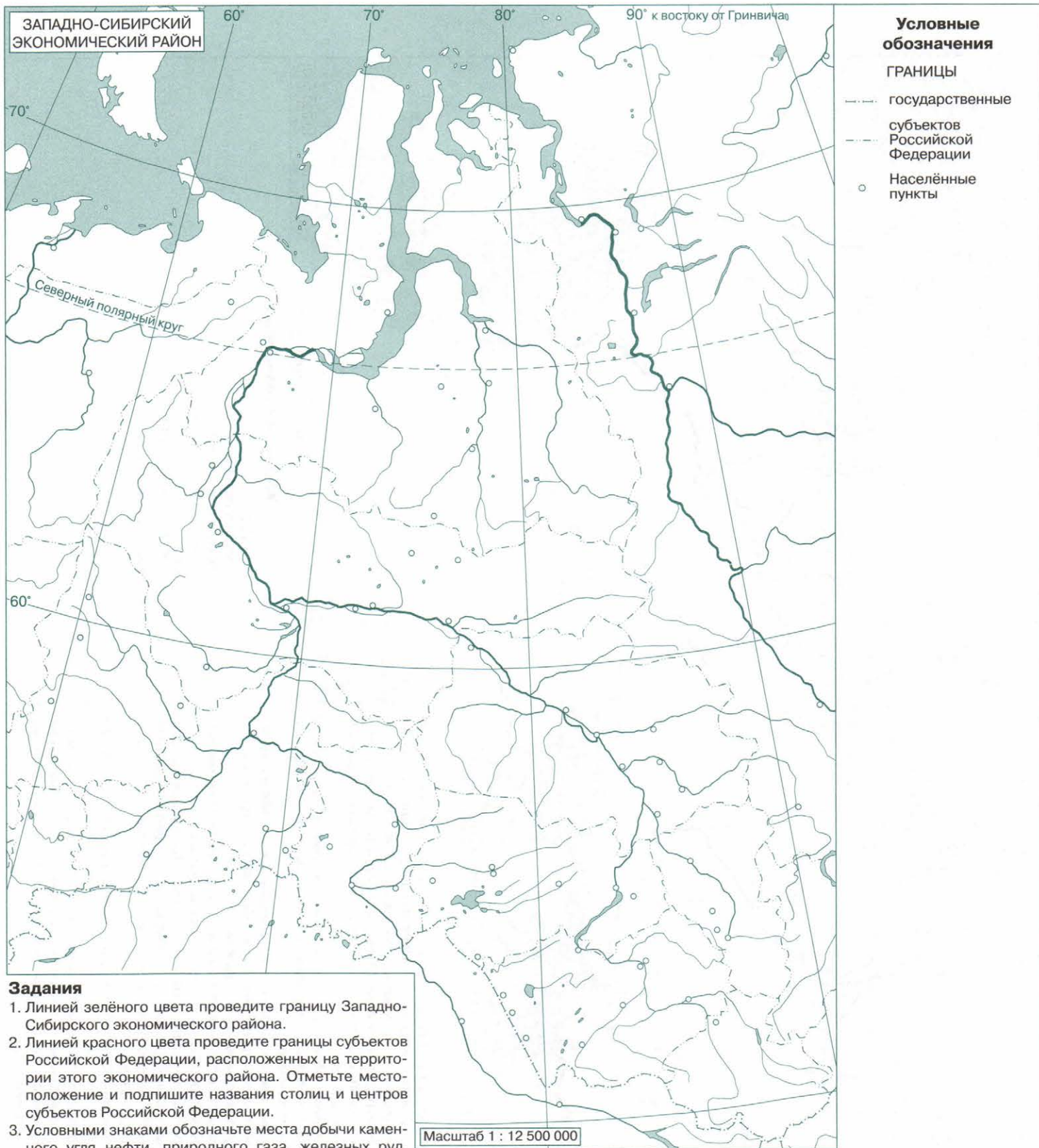
1. Линией зелёного цвета проведите границы экономических районов: Северного, Северо-Западного, Центрального, Волго-Вятского, Центрально-Чернозёмного, Поволжского, Северо-Кавказского, Крымского и Калининградской области. Обозначьте территории экономических районов цифрами. Напишите названия этих районов в разделе «Условные обозначения».
2. Условными знаками обозначьте места добычи каменного угля, нефти, природного газа, железных, никелевых, алюминиевых и медных руд, апатитов, фосфоритов, янтаря.
3. Кружками разных цветов обозначьте крупнейшие центры чёрной металлургии, цветной металлургии, нефтеперерабатывающей промышленности, производства минеральных удобрений.
4. Обозначьте на карте и подпишите названия крупнейших центров машиностроения и металлообработки, пищевой промышленности.
5. Проведите границы и выделите разными цветами территории сельскохозяйственных районов (по выбору). Обозначьте эти районы цифрами. В разделе «Условные обозначения» опишите специализацию сельского хозяйства этих районов.
6. Условными знаками обозначьте электростанции разных типов. Подпишите их названия.
7. Линией чёрного цвета проведите важнейшие нефтепроводы, линией синего цвета – важнейшие газопроводы. Обозначьте местоположение и подпишите названия крупных населённых пунктов, через которые проходят нефте- и газопроводы.

Масштаб 1 : 10 000 000

Условные обозначения

ГРАНИЦЫ

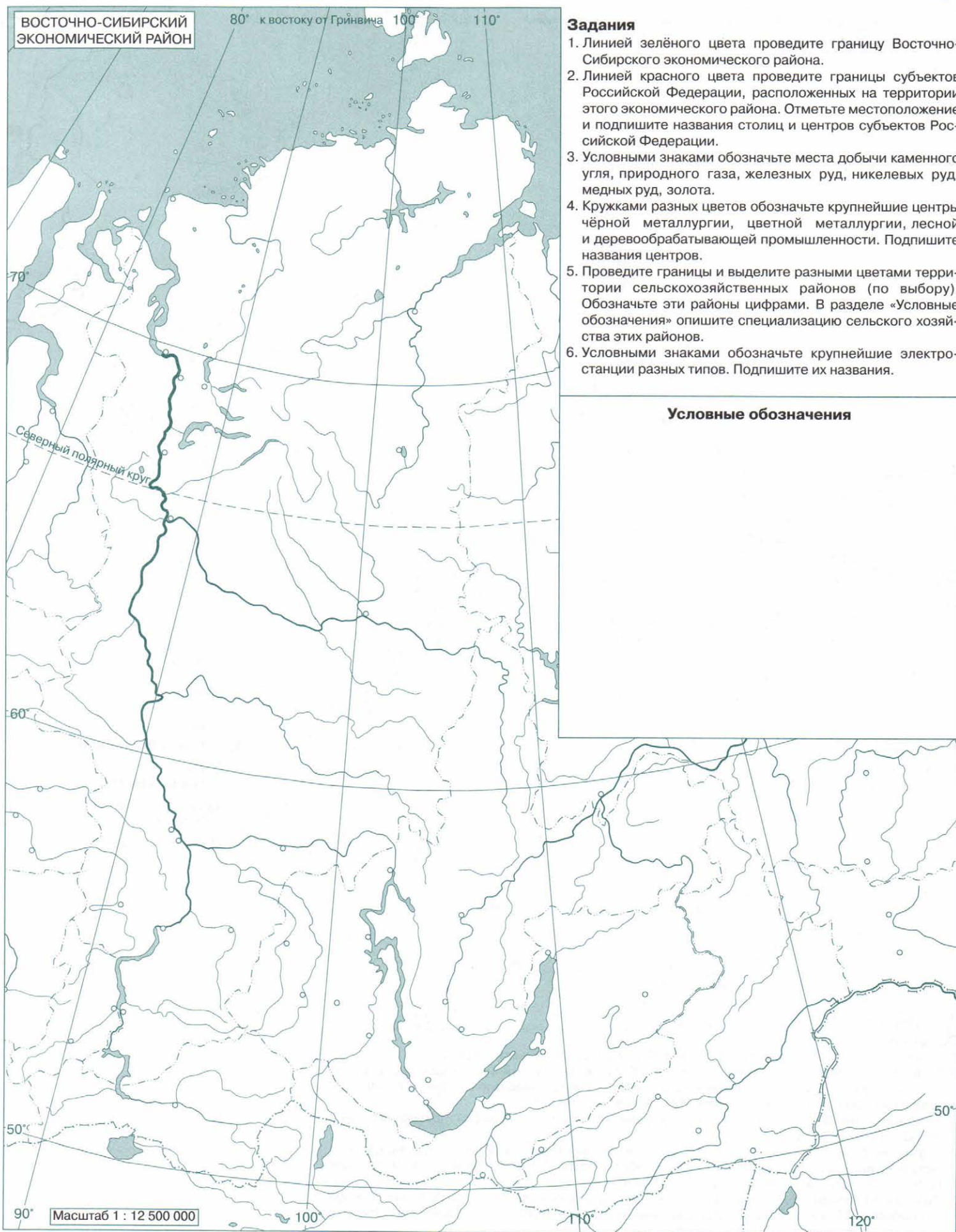
- — — — — государственные полярных владений Российской Федерации
- |-|-|-|- границы субъектов Российской Федерации
- Населённые пункты

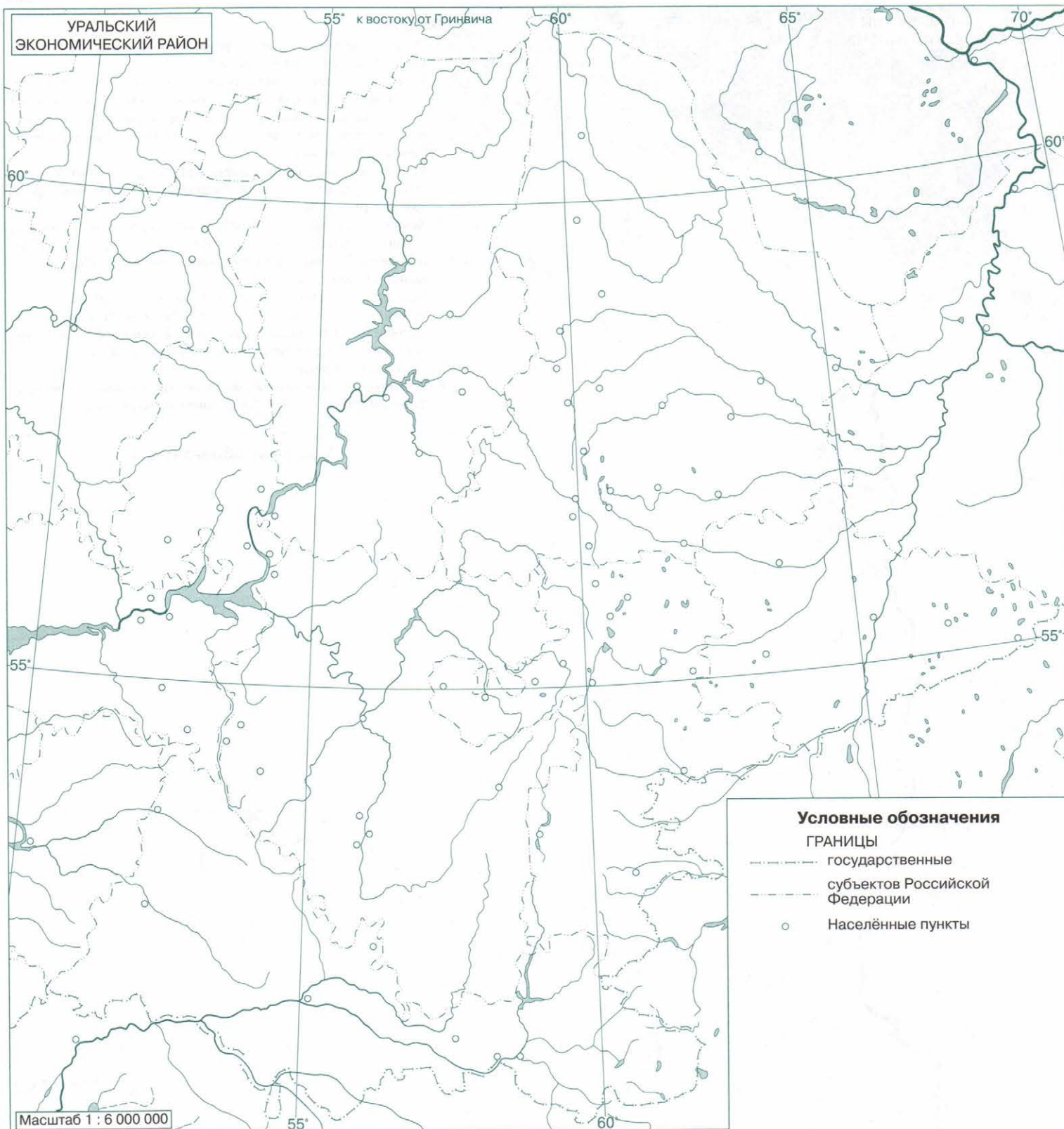


Задания

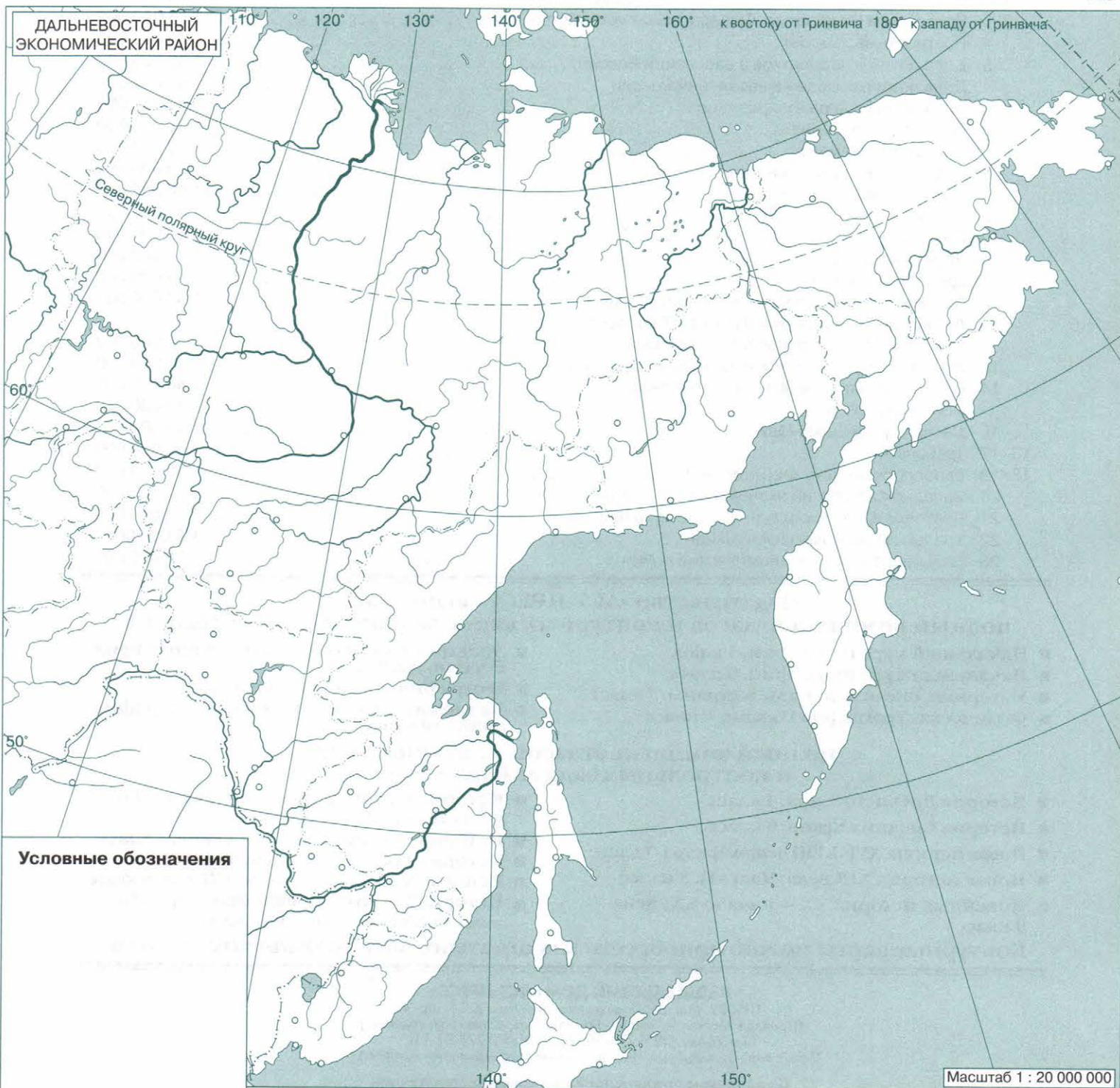
1. Линией зелёного цвета проведите границу Западно-Сибирского экономического района.
2. Линией красного цвета проведите границы субъектов Российской Федерации, расположенных на территории этого экономического района. Отметьте местоположение и подпишите названия столиц и центров субъектов Российской Федерации.
3. Условными знаками обозначьте места добычи каменного угля, нефти, природного газа, железных руд, полиметаллических руд. Подпишите названия крупнейших месторождений каменного угля, нефти и газа.
4. Кружками разных цветов обозначьте крупнейшие центры чёрной металлургии, цветной металлургии, нефтеперерабатывающей промышленности.
5. Проведите границы и выделите разными цветами территории сельскохозяйственных районов (по выбору). Обозначьте эти районы цифрами. В разделе «Условные обозначения» опишите специализацию сельского хозяйства этих районов.

6. Условными знаками обозначьте электростанции разных типов. Подпишите названия электростанций или населённых пунктов, расположенных рядом с электростанциями.
7. Линией чёрного цвета проведите важнейшие нефтепроводы, линией синего цвета – газопроводы. Обозначьте местоположение и подпишите названия населённых пунктов, через которые проходят нефте- и газопроводы.



**Задания**

1. Линией зелёного цвета проведите границу Уральского экономического района.
2. Линией красного цвета проведите границы субъектов Российской Федерации, расположенных на территории этого экономического района. Отметьте местоположение и подпишите названия столиц и центров субъектов Российской Федерации.
3. Условными знаками обозначьте места добычи каменного угля, нефти, природного газа, железных и медных руд.
4. Кружками разных цветов обозначьте крупнейшие центры чёрной металлургии, цветной металлургии, машиностроения и металлообработки, нефтеперерабатывающей и химической промышленности. Подпишите названия центров.
5. Проведите границы и выделите разными цветами территории сельскохозяйственных районов (по выбору). Обозначьте эти районы цифрами. В разделе «Условные обозначения» опишите специализацию сельского хозяйства этих районов.



Задания

1. Линией зелёного цвета проведите границу Дальневосточного экономического района.
2. Линией красного цвета проведите границы субъектов Российской Федерации, расположенных на территории этого экономического района. Отметьте местоположение и подпишите названия столиц и центров субъектов Российской Федерации.
3. Условными знаками обозначьте места добычи каменного угля, нефти, природного газа, полиметаллических руд, золота и алмазов.
4. Кружками разных цветов обозначьте один центр чёрной металлургии, два центра нефтеперерабатывающей промышленности, несколько наиболее крупных центров рыбной промышленности. Подпишите их названия.
5. Проведите границы и выделите разными цветами территории сельскохозяйственных районов (по выбору). Обозначьте эти районы цифрами. В разделе «Условные обозначения» опишите специализацию сельского хозяйства этих районов.
6. Условными знаками обозначьте электростанции разных типов. Подпишите их названия. Линией синего цвета подчеркните названия геотермальных электростанций.
7. Условным знаком (якорь) обозначьте крупные морские порты и подпишите их названия.

Страницы	СОДЕРЖАНИЕ	Масштаб
2–3	Российская Федерация. Федеративное устройство	1:25 000 000
4	Плотность населения	1:40 000 000
5	Доля детей и подростков в населении России	1:40 000 000
	Доля пожилых людей в населении России	1:40 000 000
6	Экономическое районирование	1:40 000 000
7	Производство зерна	1:40 000 000
	Производство мяса	1:40 000 000
8	Нефтяная промышленность	1:40 000 000
	Газовая промышленность	1:40 000 000
9	Угольная промышленность	1:40 000 000
10	Электроэнергетика	1:40 000 000
11	Чёрная металлургия	1:40 000 000
	Цветная металлургия	1:40 000 000
12	Производство продукции машиностроения	1:40 000 000
	Автомобильная промышленность. Тракторное и сельскохозяйственное машиностроение	1:40 000 000
13	Железнодорожное машиностроение. Судостроение	1:40 000 000
14	Производство минеральных удобрений	1:40 000 000
	Производство шин	1:40 000 000
15	Лесная промышленность	1:40 000 000
16–17	Транспорт	1:25 000 000
18–19	Европейская часть территории России	1:10 000 000
20	Западно-Сибирский экономический район	1:12 500 000
21	Восточно-Сибирский экономический район	1:12 500 000
22	Уральский экономический район	1:6 000 000
23	Дальневосточный экономический район	1:20 000 000

Издательство «АСТ-ПРЕСС» выпускает

полный комплект атласов и контурных карт с заданиями по географии

- Начальный курс географии. 5 класс
- Начальный курс географии. 6 класс
- Материки, океаны, народы и страны. 7 класс
- Физическая география России. 8 класс
- Экономическая и социальная география России. 9 класс
- География России. 8–9 классы
- Экономическая и социальная география мира. 10 класс

полный комплект атласов, контурных карт и контрольных заданий по истории

- История Древнего мира. 5 класс
- История Средних веков. 6 класс
- Новая история XVI–XVIII веков. Часть I. 7 класс
- Новая история XIX века. Часть II. 8 класс
- Новейшая история XX – начало XXI века. 9 класс
- История России с древнейших времён до начала XVI века. 6 класс
- История России XVI–XVIII веков. 7 класс
- История России XIX века. 8 класс
- История России XX – начало XXI века. 9 класс
- История России с древнейших времён – начало XXI века. 10–11 классы

Контурные карты можно приобрести как отдельно, так и в комплекте с атласом

ИЗДАТЕЛЬСКИЙ ДОМ «АСТ-ПРЕСС»

105082, Москва, Переведеновский пер., д. 13, стр. 4.
(Проезд в Москве: ст. метро «Бауманская», «Электрозаводская»)
Тел./факс: (495) 276-09-60, тел.: (495) 276-01-11
E-mail: astpress@astpress.ru Информационная поддержка: www.astpress.ru

По вопросам оптовой продажи печатной продукции обращаться в Издательский дом «АСТ-ПРЕСС»:

Офис: 105082, Москва, Переведеновский пер., д. 13, стр. 4
Тел./факс: (495) 276-09-60, тел.: (495) 276-01-11
E-mail: sales@astpress.ru

Склад: 143900, Московская обл., Балашиха,
Западная промзона, ш. Энтузиастов, д. 4
Тел.: (495) 223-62-32 (многоканальный),
факс: (495) 521-94-74

**Книги Издательского дома «АСТ-ПРЕСС» вы всегда можете приобрести в книжных магазинах страны,
в том числе в Интернете**

Контурные карты с заданиями
ЭКОНОМИЧЕСКАЯ И СОЦИАЛЬНАЯ ГЕОГРАФИЯ РОССИИ. 9 КЛАСС

Авторы: А. И. Алексеев, О. В. Гаврилов

Москва
АСТ-ПРЕСС
Издательский дом