

# КОНТУРНЫЕ КАРТЫ

## ИСТОРИЯ ДРЕВНЕГО МИРА

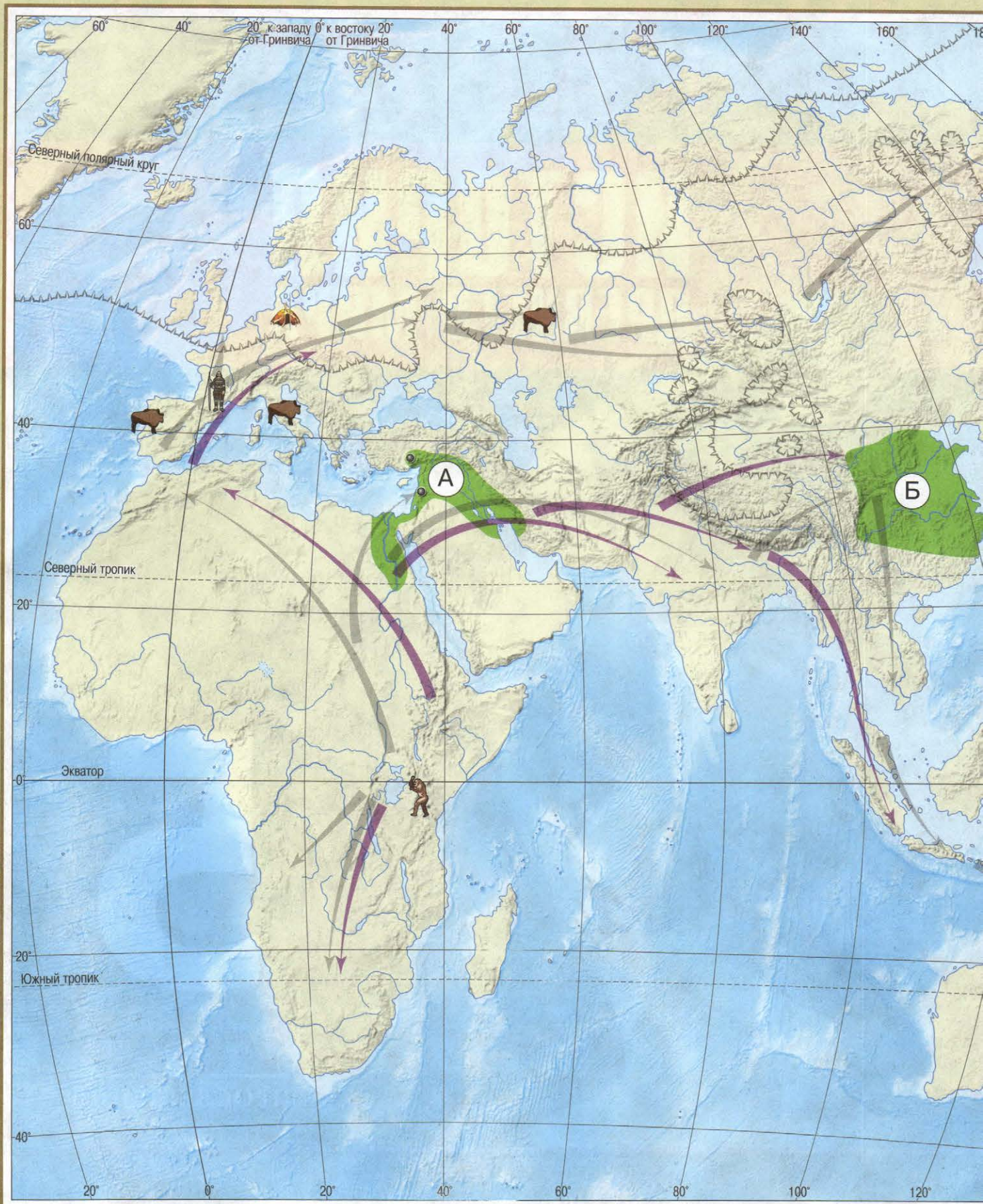


# 5







ПРОСВЕЩЕНИЕ  
ИЗДАТЕЛЬСТВО

ПЕРВОБЫТНЫЙ ПЕРИОД





-  Граница максимального оледенения
-  \_\_\_\_\_
-  Расселение человека разумного современного
-  Зона Плодородного полумесяца

### ЗАДАНИЯ

1. Обведите границу максимального оледенения.
2. Определите, направления расселения какого древнего человека показаны на карте, подпишите его название в легенде. Обозначьте направления расселения человека разумного современного. Подпишите на карте названия материков, до которых дошёл только человек разумный современный.
3. Подпишите название знаменитого памятника наскальной живописи, который находится на территории нашей страны.
4. Подпишите на карте: место, где были обнаружены останки австралопитека; место, по которому получила своё название тупиковая ветвь развития человека разумного; место, по которому получил своё название прямой предок современного человека.
5. Определите и укажите в легенде, какой буквой обозначена зона плодородного полумесяца. Подпишите названия древнейших городов, известных учёным.

## ДРЕВНИЙ ЕГИПЕТ



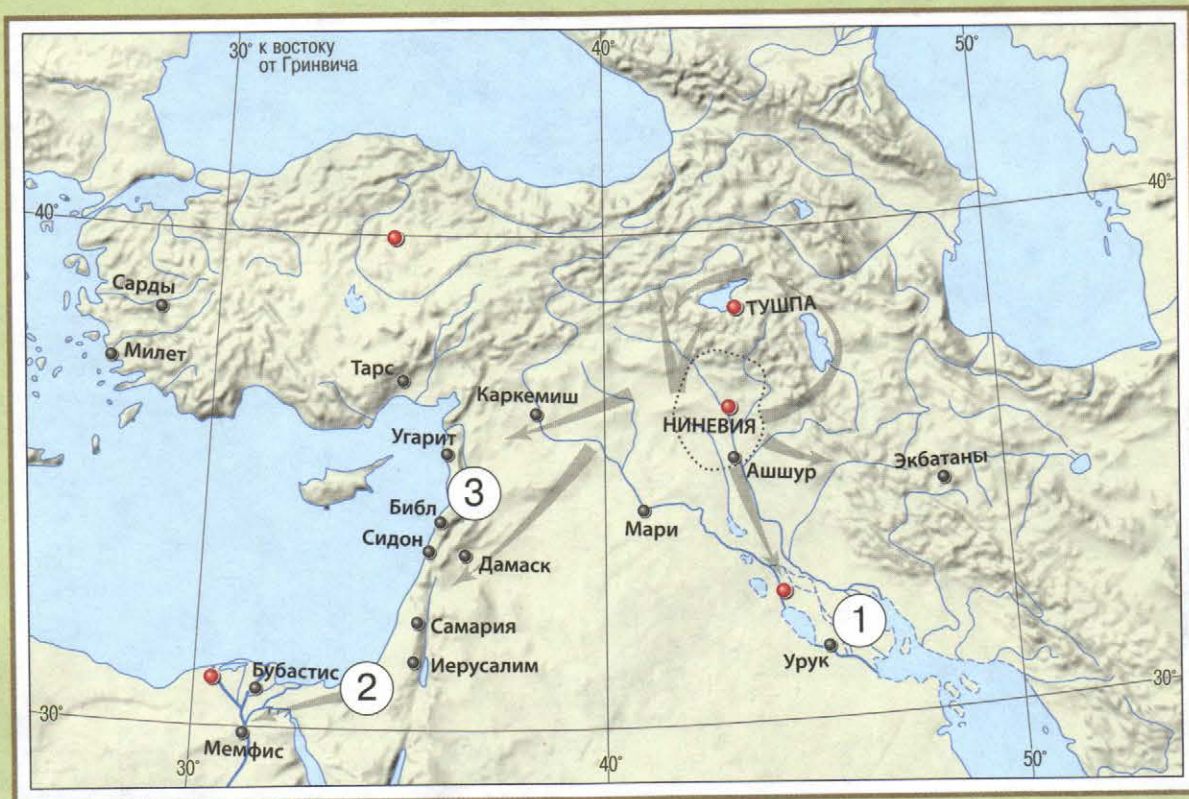
Границы



## ЗАДАНИЯ

1. Подпишите название реки, в долине которой возникла египетская цивилизация, название моря, куда впадала река, и место первого порога.
2. Подпишите в легенде, какая территория обозначена на карте зелёным цветом.
3. Подпишите в легенде, границы каких территорий обозначены на карте.
4. Обведите знак сражения, которое оба царя-противника посчитали своей победой. Подпишите название города, около которого произошла эта битва, и государства, с которым египетский фараон заключил первый из известных историкам международный мирный договор.
5. Подпишите на карте названия городов: красным цветом — названия столиц Египта в эпоху Раннего и Древнего царств и Среднего царства; синим цветом — название города, основанного автором молитвы: «Без Солнца жизнь замирает. При Его восходе оживает. Когда Ты исчезаешь, земля объята кромешной тьмой».

метка

ПЕРЕДНЯЯ АЗИЯ И МЕЖДУРЕЧЬЕ



-  Территория Ассирийского царства в 20 в. до н. э.
-  Завоевательные походы ассирийцев



**Народы**

① \_\_\_\_\_

② \_\_\_\_\_

③ \_\_\_\_\_



**ЗАДАНИЯ**

1. Подпишите названия морей и двух великих рек Междуречья.
2. Закрасьте территорию Ассирийского царства в 20 в. до н. э. Обозначьте направления завоевательных походов ассирийцев.
3. Определите и подпишите в легенде названия народов, места проживания которых обозначены на карте цифрами.
4. Подчеркните на карте названия городов: синим цветом — города, где правил легендарный Гильгамеш; зелёным цветом — города, где царь Соломон воздвиг великолепный храм; чёрным цветом — города, где археологи обнаружили библиотеку царя Ашшурбанапала; красным цветом — города на восточном побережье Средиземного моря, где греки покупали папирус.
5. Древнегреческий историк Геродот писал об одном городе Междуречья, что он «окружён полным водой рвом, затем идёт стена. Через него протекает река по имени Евфрат. В середине храмового священного участка воздвигнута громадная башня, на ней — ещё башня, в общем, восемь башен одна на другой». Подпишите на карте название этого города и год, когда он был разгромлен врагами.

## ИНДИЯ И КИТАЙ



## ЗАДАНИЯ

1. Подпишите названия двух великих рек полуострова Индостан, моря и океаны, омывающие его берега.
2. Закрасьте территорию древнейшей цивилизации на полуострове Индостан, подпишите в легенде её название и время существования. Подпишите на карте названия двух её центров.
3. Стрелками красного цвета покажите направления вторжения и расселения ариев. Обведите границу и подпишите название государства, достигшего расцвета в правление царя, известного как великий покровитель буддизма. В легенде подпишите имя царя и время его правления.



\_\_\_\_\_  
 ← Вторжение и расселение ариев  
 Царь \_\_\_\_\_

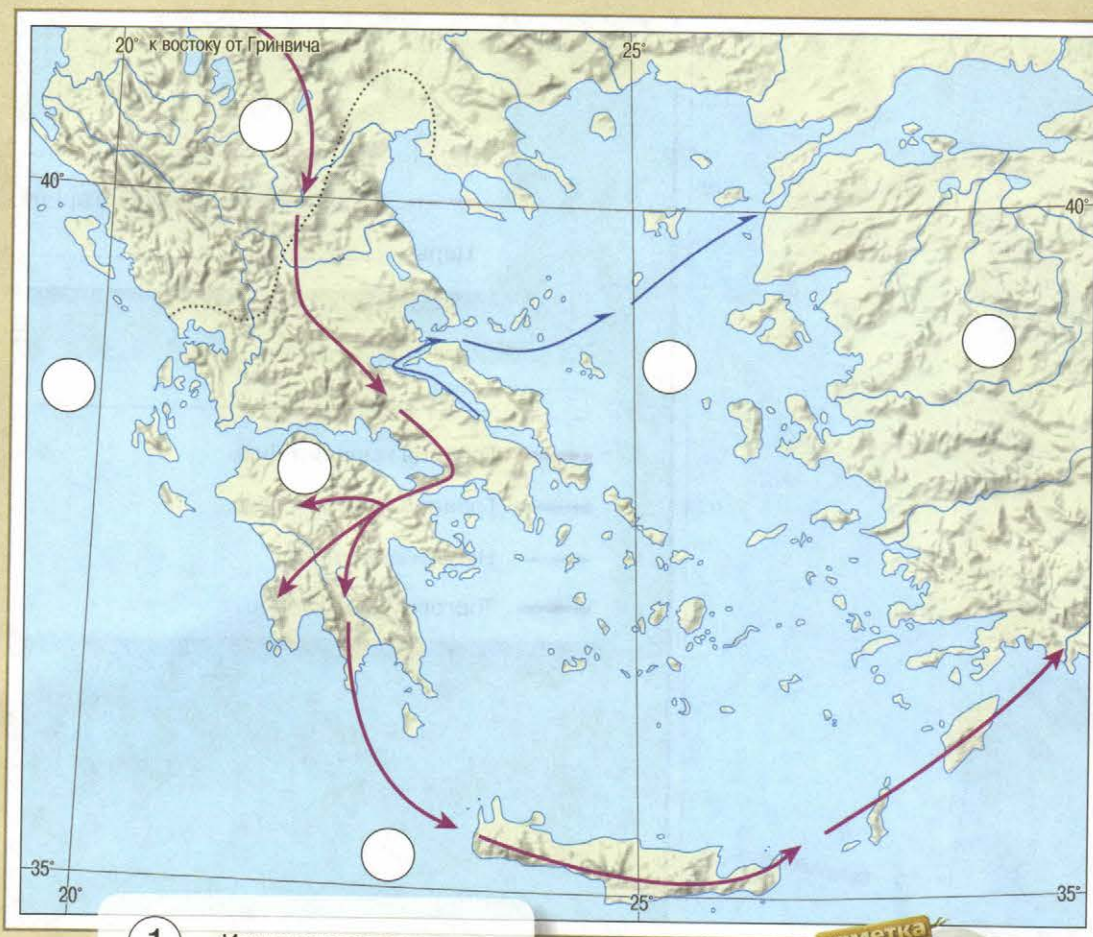
\_\_\_\_\_  
 — Граница империи Цинь  
 — Граница империи Хань  
 ← Набеги кочевников  
 — Торговый путь купцов



## ЗАДАНИЯ

1. Подпишите на карте названия морей, омывающих берега Китая, и двух великих рек.
2. Закрасьте территорию древнейшего государства на территории Китая, обозначьте и подпишите в легенде. Красным цветом обведите границу империи Цинь, а синим — границу империи Хань.
3. Стрелками зелёного цвета покажите направления набегов кочевников. Оранжевым цветом обведите оборонительный рубеж, построенный для защиты от этих набегов.
4. Китайская цивилизация возникла на крайнем востоке Азии и долго развивалась в изоляции. Подпишите и подчеркните на карте названия географических объектов, которые отделяли Китай от остальных земель и народов.
5. Проложите путь для купцов, вывозящих из Китая шёлк, по указанным ориентирам: «Их караван долго собирался в городе Лоян, двигался на запад до крупного города Сиань, затем проходил под защитой Великой Китайской стены на север. Верблюды стойко переносили жар, пересекая пустыню Такла-Макан, и ночную стужу, обходя горы Памира так, чтобы попасть на базары Самарканда или Бактры». Подпишите на карте названия географических объектов, через которые проходит этот путь.


## ДРЕВНЕЙШАЯ ГРЕЦИЯ



- 1 Ионическое море
- 2 Средиземное море
- 3 Эгейское море
- 4 Балканский полуостров
- 5 Полуостров Пелопоннес
- 6 Полуостров Малая Азия

## Цивилизации

<input type="checkbox"/>	_____
<input type="checkbox"/>	_____
	_____
	_____



Граница Персидской империи в 449 г. до н. э.

Владения Персидской империи

## Союзы полисов Эллады

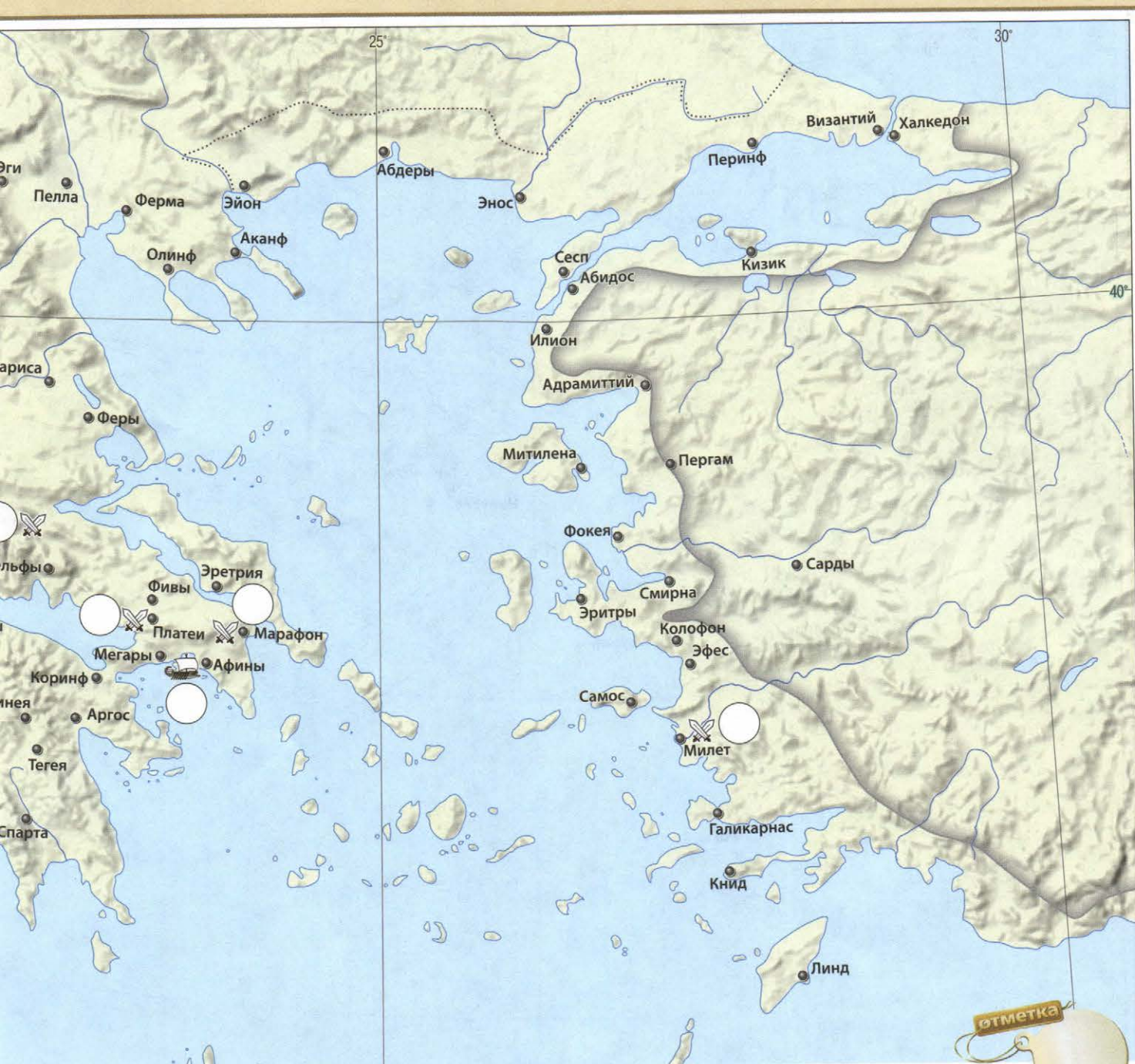
_____
_____

## ЗАДАНИЯ

1. Обозначьте на карте соответствующими цифрами географические объекты, перечисленные в легенде.
2. Определите и подпишите в легенде, какие события 12–11 вв. до н. э. обозначены на карте стрелками.
3. Закрасьте оранжевым цветом территорию, на которой располагались ахейские города-государства, а красным цветом — территорию, которая славилась дворцами и миролюбивым искусством.



## ГРЕКО-ПЕРСИДСКИЕ ВОЙНЫ



### ЗАДАНИЯ

1. Подчеркните названия полисов, поднявших восстание против персов в 500 г. до н. э.
2. Закрасьте владения Персидской империи к началу Греко-персидских войн. Обведите границу её территории к 449 г. до н. э.
3. Нанесите на карту походы участников Греко-персидских войн, маршруты которых из Азии до Афин можно описать в следующих словах: «Войско двинулось не с севера, а с востока, через море, от острова к острову» (используйте красные стрелки); «Огромное войско в сопровождении множества кораблей двигалось вдоль моря. Пройдя по мосту через пролив, отделяющий Малую Азию от Балканского полуострова, войско с севера вторглось на земли Балканской Греции» (используйте зелёные стрелки). Подпишите в легенде участников и даты этих походов.
4. Цифрами на карте обозначьте места сражений, произошедших: в узком проходе между горами и берегом моря по пути из Фессалии в Беотию (1), в проливе между Афинами и островом (2), на равнине в 42 км к северо-востоку от Афин (3). Обведите цифру, обозначающую битву, проигранную греками.
5. После Греко-персидских войн полисы Эллады были объединены в два союза. Обведите названия городов — центров союзов. Напишите в легенде названия этих союзов.

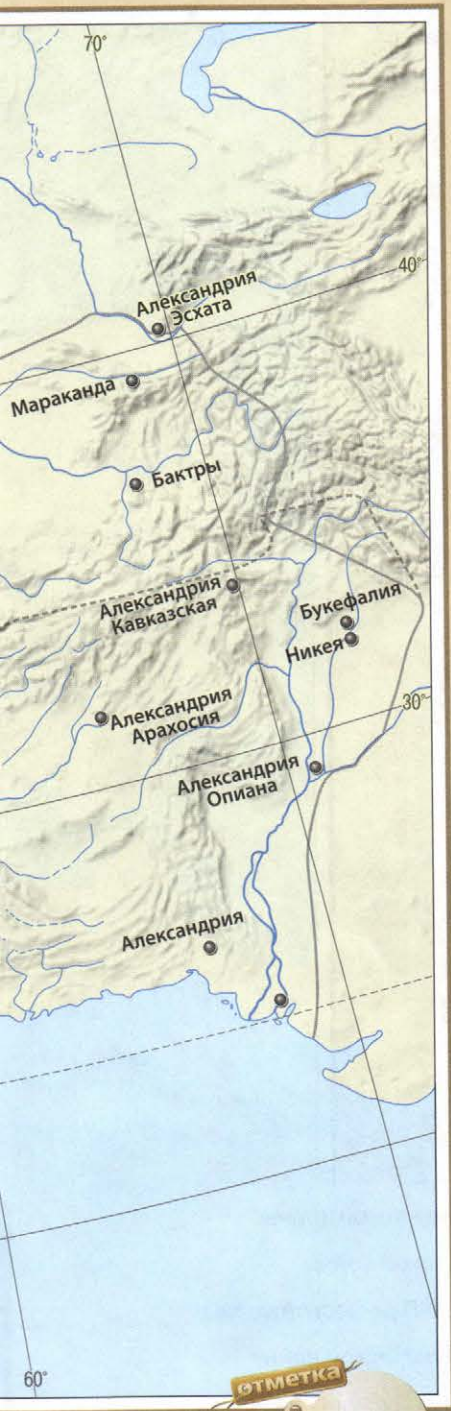





## ПОХОДЫ АЛЕКСАНДРА МАКЕДОНСКОГО. ЭЛЛИНИСТИЧЕСКИЕ ГОСУДАРСТВА







### ЗАДАНИЯ

1. Закрасьте территорию Македонского царства к началу походов Александра Македонского и подпишите название его столицы. Обведите границу государства Александра Македонского к моменту смерти царя и подпишите название его столицы.
2. Подчеркните названия городов, основанных Александром Македонским, которые не носят имя своего основателя.
3. Древние авторы сообщают, что знатный воин из Магадхи Чандрагупта Маурья сумел договориться с одним из преемников Александра — Селевком, взяв в жёны его дочь, подарил ему 500 боевых слонов, а затем одержал победу над царём Магадхи. Закрасьте территорию, отданную индийскому владыке.
4. Разделите на этапы походы Александра Македонского, показав их на карте стрелками разных цветов: зелёным — начало походов от вторжения в Малую Азию до завоевания Египта; синим — разгром Персидской империи; красным — поход через Центральную Азию в Индию. Подпишите над стрелками годы этих походов.
5. Подчеркните красным цветом названия городов, бывших столицами царств Древнего Востока, а в 4 в. до н. э. вошедших в состав державы Александра Македонского.



-  Территория Македонии в 344 г. до н. э.
-  Граница державы Александра Македонского
-  Территория, отданная индийскому владыке

- Походы**
-  в Малую Азию и Египет
  -  в Индию
  -  Разгром Персидской империи



## ДРЕВНИЙ РИМ В 8–3 вв. до н. э.



- 1 Адриатическое море
- 2 Средиземное море
- 3 Тирренское море
- 4 Альпы
- 5 Тибр
- 6 о. Сицилия

- Территория Рима к началу 1-й Пунической войны
- Граница Рима к началу 2-й Пунической войны
- Граница Рима после окончания 2-й Пунической войны
- Походы войск Ганнибала во 2-й Пунической войне
- Территория Карфагена к началу 1-й Пунической войны
- Территории, захваченные Карфагеном в ходе 2-й Пунической войны
- Граница Карфагена после поражения во 2-й Пунической войне

## ЗАДАНИЯ

1. Обозначьте на карте географические объекты, перечисленные в легенде цифрами 1–6.
2. Стрелками покажите нашествие племени, осадившего и сжёгшего Рим. Над стрелками напишите название племени и дату этого события.
3. Подпишите названия народов, занимавших территории: на побережье Тирренского моря к северу от Рима; в самом близком соседстве с Римом; в городах на побережье Южной Италии.

## ПУНИЧЕСКИЕ ВОЙНЫ



## ЗАДАНИЯ

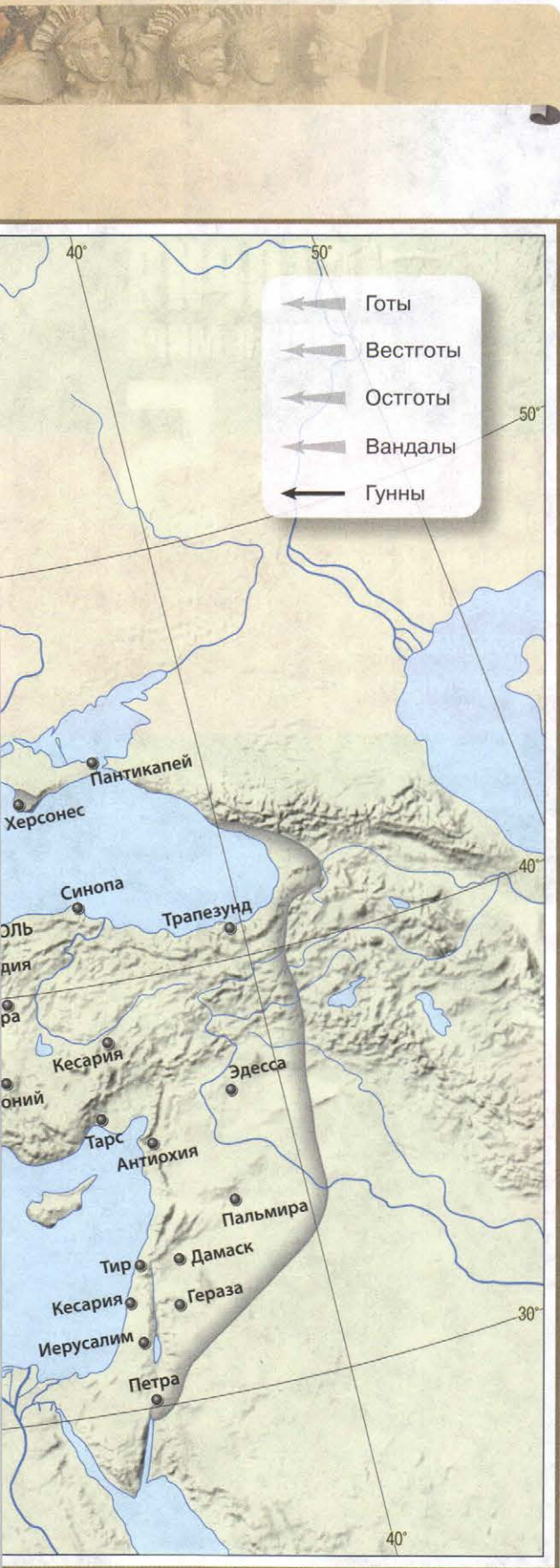
1. Закрасьте территорию Рима к началу 1-й Пунической войны. Обведите соответствующими цветами границы Рима к началу 2-й Пунической войны и после её окончания.
2. Обведите красным цветом места сражений 2-й Пунической войны, в которых победили римляне, зелёным — места сражений, в которых победили карфагеняне.
3. Подпишите в легенде даты начала и окончания Пунических войн, в ходе которых были совершены походы римлян, обозначенные на карте.
4. Обозначьте путь войска Ганнибала в период 2-й Пунической войны. Подпишите на карте названия гор и крупных рек, которые преодолела армия Ганнибала.
5. Закрасьте одним цветом территорию Карфагена к началу 2-й Пунической войны, а другим — территории, захваченные Карфагеном в ходе 2-й Пунической войны. Обведите границу Карфагена после поражения во 2-й Пунической войне.

## ПОЗДНЯЯ РИМСКАЯ ИМПЕРИЯ



## ЗАДАНИЯ

- Обведите соответствующими цветами границы территорий, на которые распалась Римская империя. Укажите в легенде названия образовавшихся государств и год раздела.
- Обведите названия столиц государств, на которые распалась Римская империя.
- Нанесите на карту путь перемещения гуннов. Соответствующим знаком обозначьте место и подпишите год сражения гуннов с римскими войсками. В легенде подпишите название места сражения.
- Покажите на карте и обозначьте в легенде передвижение германских племён, указанных в легенде.
- Подчеркните названия городов: красным цветом — города, где преступники представляли перед синедрионам; зелёным цветом — города, где состоялся Вселенский собор; чёрным цветом — центр патриаршества на Африканском континенте.



## СОДЕРЖАНИЕ

Первобытный период .....	2–3
Древний Египет .....	4
Передняя Азия и Междуречье .....	5
Индия и Китай .....	6–7
Древнейшая Греция .....	8
Греко-персидские войны .....	8–9
Походы Александра Македонского. Эллинистические государства .....	10–11
Древний Рим в 8–3 вв. до н. э. ....	12
Пунические войны .....	12–13
Поздняя Римская империя .....	14–15

## КОНТУРНЫЕ КАРТЫ

ИСТОРИЯ  
ДРЕВНЕГО МИРА

5

Контурные карты составлены и подготовлены к изданию  
АО «Издательство «Просвещение» в 2017 г.

Руководитель центра «Сферы» А.В. Сильянова  
Авторы-составители: И.Л. Друбачевская, И.Е. Уколова

- Редактор М.А. Григорьева
- Картограф М.Ю. Ширяева
- Художественное оформление серии: А.П. Асеев
- Компьютерная вёрстка,  
подготовка к печати: Д.В. Шейкина
- Дизайн обложки: С.Г. Куркина
- Корректор Е.А. Воеводина

- Лицензия №77-00411Ф от 12.05.14  
Подписано в печать 19.09.18  
Формат 60×90 1/8. Печ. л. 2,0  
Бумага офсетная  
Уч.-изд. л. 3,33  
Тираж 15 500 экз. Заказ № 53097СМ.

- АО «Издательство «Просвещение»  
Российская Федерация, 127473, г. Москва, ул. Краснопролетарская, д. 16,  
стр. 3, этаж 4, помещение I.  
Тел.: +7 (495) 789-3040  
www.prosv.ru

- Отпечатано по заказу АО «ПолиграфТрейд» в  
филиале «Смоленский полиграфический комбинат»  
ОАО «Издательство «Высшая школа».  
214020, г. Смоленск, ул. Смольянинова, д. 1  
Тел.: +7(4812) 31-11-96. Факс: +7(4812) 31-31-70.  
E-mail: spk@smolpk.ru http://www.smolpk.ru

ISBN 978-5-09-064943-8

© Географическая основа. Росреестр, 2009  
© АО «Издательство «Просвещение», 2019  
Все права защищены

# ВСЕОБЩАЯ ИСТОРИЯ

## КОНТУРНЫЕ КАРТЫ

## ИСТОРИЯ ДРЕВНЕГО МИРА

# 5

**СЕРИЯ АТЛАСОВ  
И КОНТУРНЫХ  
КАРТ ПО ВСЕОБЩЕЙ  
ИСТОРИИ**

- ИСТОРИЯ ДРЕВНЕГО МИРА. 5 класс
- ИСТОРИЯ СРЕДНИХ ВЕКОВ. 6 класс
- ИСТОРИЯ НОВОГО ВРЕМЕНИ. 7 класс
- ИСТОРИЯ НОВОГО ВРЕМЕНИ. 8 класс
- ИСТОРИЯ НОВОГО ВРЕМЕНИ. 9 класс
- ИСТОРИЯ НОВЕЙШЕГО ВРЕМЕНИ. 10 класс

Полный ассортимент продукции издательства «Просвещение» вы можете приобрести в официальном интернет-магазине [shop.prosv.ru](http://shop.prosv.ru):

- низкие цены;
- оперативная доставка по всей России;
- защита от подделок;
- привилегии постоянным покупателям;
- разнообразные акции в течение всего года.

ISBN 978-5-09-064943-8



9 785090 649438



**ПРОСВЕЩЕНИЕ**  
ИЗДАТЕЛЬСТВО

6+

