



А. А. Плешаков
Н. Н. Гара
З. Д. Назарова

Окружающий МИР Тесты



ШКОЛА РОССИИ

А. А. Плешаков, Н. Н. Гара, З. Д. Назарова

Окружающий МИР



Тесты

Учебное пособие

11-е издание, переработанное

Москва
«Просвещение»
2023

4 **класс**

УДК 373.167.1:502+502(075.2)
ББК 20я71
ПЗ8

6+

Серия «Школа России» основана в 2001 году

Учебное пособие «Тесты. 4 класс» подготовлено к учебнику «Окружающий мир. 4 класс», доработанному в соответствии с требованиями Федерального государственного образовательного стандарта начального общего образования.

Пособие обеспечит возможность организовать эффективный контроль результатов обучения четвероклассников по каждой теме учебника. На основе пособия ученики освоят способы выполнения тестовых заданий различных видов.

Красочные иллюстрации помогут превратить проверку и контроль в интересную и творческую работу, которая будет способствовать развитию внимания и памяти четвероклассников.

Для соблюдения правил информационной безопасности поисковый запрос в Интернете осуществляется детьми с помощью взрослых (педагогических работников, родителей или законных представителей несовершеннолетних обучающихся).

Границы государств даны на октябрь 2022 г.

ISBN 978-5-09-099252-7

© АО «Издательство «Просвещение», 2014, 2023
© Художественное оформление.
АО «Издательство «Просвещение», 2014, 2023
Все права защищены

1. ЗЕМЛЯ И ЧЕЛОВЕЧЕСТВО

МИР ГЛАЗАМИ АСТРОНОМА

1. Что такое астрономия?

- А Наука о веществах
- Б Наука о небесных, или космических, телах
- В Наука о живой природе
- Г Наука о погоде

2. Вселенная — это:

- А пространство вокруг Земли, где движется Луна
- Б пространство вокруг Солнца, где обращаются планеты
- В необъятное пространство со звёздами, планетами и другими небесными телами

3. Солнце и движущиеся вокруг него небесные тела составляют:

- А Солнечную систему
- Б Вселенную
- В Космос
- Г созвездие

4. Солнце — это:

А планета

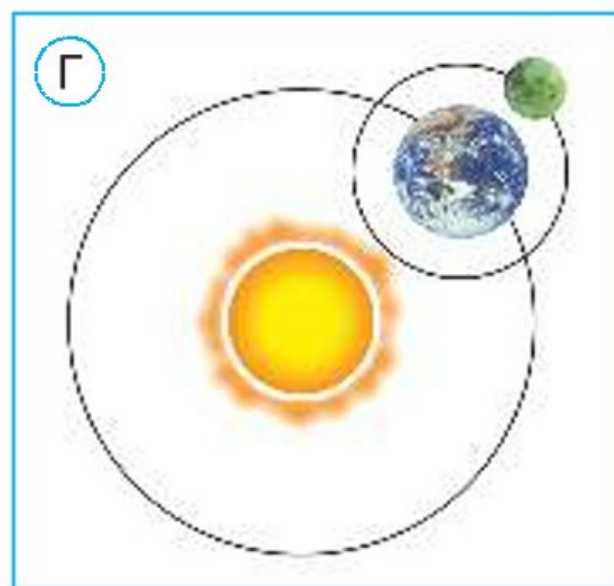
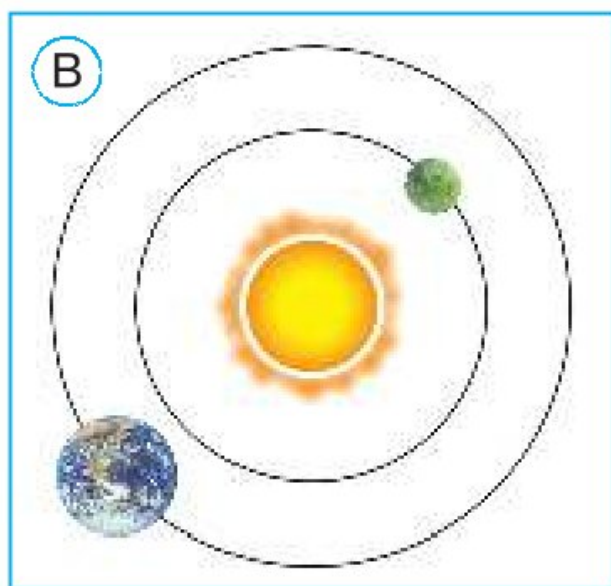
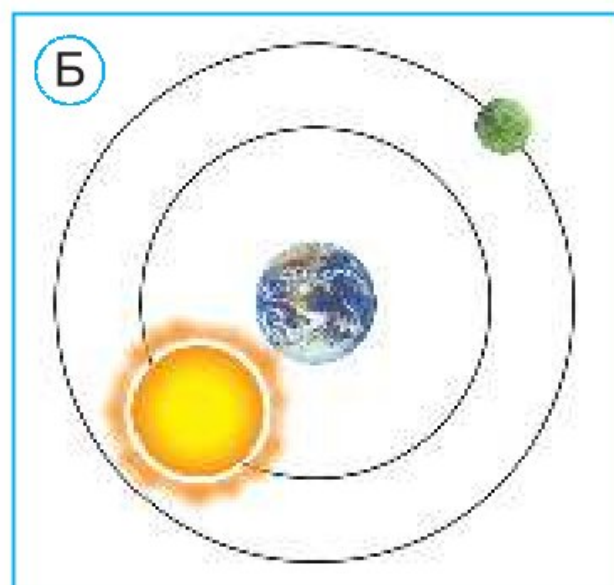
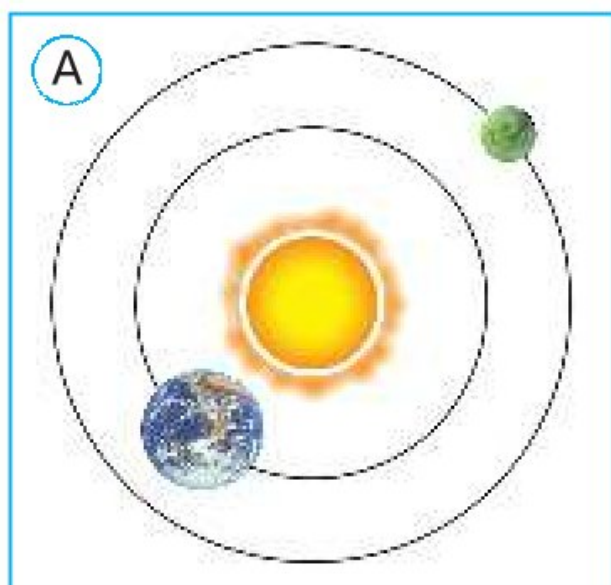
В спутник Земли

Д комета

Б звезда

Г созвездие

5. На какой схеме правильно показано взаимное расположение Солнца, Земли и Луны?



6. Отметь небесные тела.

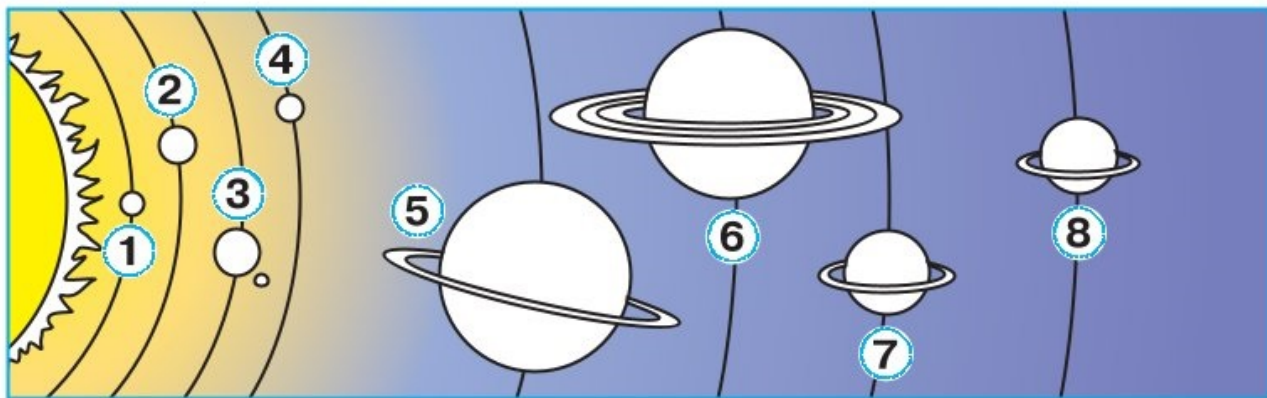
- | | |
|------------------------------------|--|
| <input type="checkbox"/> А Звезда | <input type="checkbox"/> Б Планета |
| <input type="checkbox"/> В Самолёт | <input type="checkbox"/> Г Комета |
| <input type="checkbox"/> Д Птица | <input type="checkbox"/> Е Спутник планеты |

ПЛАНЕТЫ СОЛНЕЧНОЙ СИСТЕМЫ

7. Сколько планет в Солнечной системе?


- А 5 Б 8 В 9 Г 10

8. В каком ряду планеты перечислены в порядке их удаления от Солнца?



- А Юпитер, Венера, Земля, Сатурн, Марс, Уран, Нептун, Меркурий
- Б Нептун, Уран, Сатурн, Юпитер, Марс, Земля, Венера, Меркурий
- В Меркурий, Венера, Земля, Марс, Юпитер, Сатурн, Уран, Нептун

9. На каком рисунке изображены Земля с Лунной, Марс и Сатурн?



А



Б



В

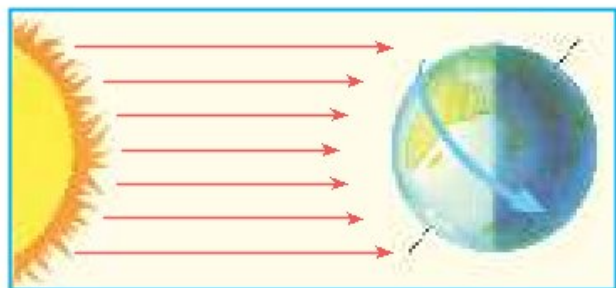
10. Какая планета Солнечной системы самая большая?

- А Земля
- Б Меркурий
- В Сатурн
- Г Юпитер
- Д Венера
- Е Марс

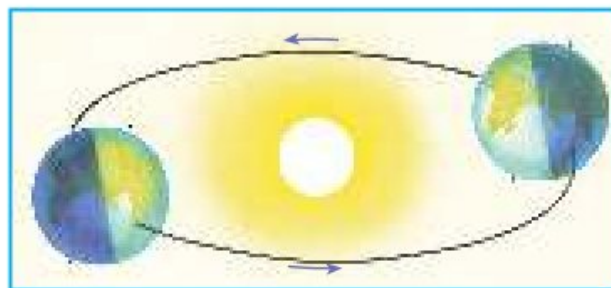
11. У каких планет обнаружены кольца?

- А Меркурий
- Б Сатурн
- В Юпитер
- Г Марс
- Д Нептун
- Е Уран

12. В каком варианте правильно названы схемы?



1



2

- А № 1. Смена дня и ночи
№ 2. Смена времён года
- Б № 1. Смена времён года
№ 2. Смена дня и ночи

МИР ГЛАЗАМИ ГЕОГРАФА

13. География — это:

- А наука о небесных телах
- Б наука о живой природе
- В наука о веществах
- Г одна из наук о Земле

14. Первая географическая карта мира появилась примерно 2500 лет назад:

- А в Древнем Египте
- Б в Древнем Риме
- В в Древней Греции

15. Первый глобус, известный учёным, был создан:

- А 2500 лет назад в Древней Греции
- Б более 500 лет назад в Германии
- В 100 лет назад в Китае

16. Одна из первых географических карт России называлась:

- А «Великий план»
- Б «Большой чертёж»
- В «Книга Большому чертежу»

17. К географическим объектам НЕ относятся:

- А материки
- Б океаны
- В звёзды
- Г Солнце и Луна
- Д острова
- Е реки

18. Найди и отметь фрагмент политической карты мира.



А



Б

МИР ГЛАЗАМИ ИСТОРИКА

19. История — это:

- А одна из наук о Земле
- Б наука о космических телах
- В наука о прошлом людей
- Г наука о живой природе

20. Что относится к историческим источникам?



21. Что такое архив?

- А Хранилище документов
- Б Коллекция старинных предметов
- В Собрание книг

22. Предметы старины хранятся:

- А в библиотеках
- Б в музеях
- В на складах



23. Что изучает археология?

- А Документы, хранящиеся в архивах
- Б Жизнь великих учёных
- В Древние предметы, сооружения

24. Узнай по описанию.

Они появились на Руси около тысячи лет назад. В них год за годом велись записи о событиях того времени. Сейчас с их помощью учёные-историки узнают о прошлом нашей Родины.

- А Дневники
- Б Календари
- В Летописи
- Г Компьютеры

Когда и где?

25. Век — это:

- (А) 10 лет (Б) 100 лет (В) 1000 лет

26. Десять веков составляют:

- (А) год
(Б) столетие
(В) тысячелетие

27. В России принято летосчисление:

- (А) от года основания Москвы
(Б) от начала правления царя Петра Первого
(В) от Рождества Христова

28. Найди и отметь фрагмент исторической карты.



(А)



(Б)



(В)

29. В каких случаях год и век соотнесены неверно?

- А) 1147 год — XII век
- Б) 1703 год — XIX век
- В) 1242 год — XV век
- Г) 1380 год — XIV век

30. В каком фрагменте ленты времени допущена ошибка?

А)

Годы	1601—1700	1701—1800	1801—1900
Века	XVII	XVIII	XIX

Б)

Годы	1601—1700	1701—1800	1801—1900
Века	XVII	XVIII	XXI

МИР ГЛАЗАМИ ЭКОЛОГА

31. К экологическим проблемам относятся:

- А) загрязнение океана
- Б) борьба с международным терроризмом
- В) вырубка тропических лесов
- Г) борьба с безработицей
- Д) исчезновение видов растений и животных

32. Что такое WWF?

- А Всемирный фонд дикой природы
- Б Международный союз охраны природы
- В Международный союз охраны птиц

33. Изображение какого животного является эмблемой Всемирного фонда дикой природы?



А



Б



В

34. Как переводится название «Гринпис»?

- А «Зелёный двор»
- Б «Зелёный дом»
- В «Зелёный сад»
- Г «Зелёный мир»

35. Международный день Матери-Земли отмечается:

- А 22 марта
- Б 22 апреля
- В 5 июня
- Г 22 мая

36. 5 июня отмечается:

- А Всемирный день водных ресурсов
- Б Международный день лесов
- В Всемирный день почв
- Г Всемирный день окружающей среды

Международная Красная книга

37. В международную Красную книгу внесены:

- А выдающиеся памятники истории и культуры
- Б уникальные сооружения современности
- В самые редкие виды растений и животных разных стран

38. Что НЕ относится к мерам охраны животных из Красной книги?

- А Запрет охоты на животных
- Б Охрана мест обитания животных
- В Борьба с незаконным отловом и продажей животных
- Г Разведение животных в неволе и последующее возвращение их в природную среду
- Д Организация экскурсий для туристов в места обитания редких животных

39. Узнай животное по описанию.

О его существовании учёные узнали только в середине XIX века. Животное обитает в горных лесах Китая, питается бамбуком. Изображение этого животного стало эмблемой одной из международных экологических организаций.

- Ⓐ Гребнистый крокодил Ⓑ Орангутан
Ⓒ Жук-геркулес Ⓓ Большая панда

40. В какой подписи содержится ошибка?



- Ⓐ Большая панда. Горилла. Белый носорог
Ⓑ Большая панда. Орангутан. Белый носорог

41. Международную Красную книгу подготовил и выпустил:

- Ⓐ Всемирный фонд дикой природы
Ⓑ Гринпис
Ⓒ Международный союз охраны природы

2. Природа России

Равнины и горы России

42. Узнай по описанию.

Эта равнина — одна из крупнейших на Земле. Её поверхность не совсем ровная. Здесь есть низменности, возвышенности, холмы.

- Ⓐ Восточно-Европейская (Русская) равнина
- Ⓑ Западно-Сибирская равнина
- Ⓒ Среднесибирское плоскогорье

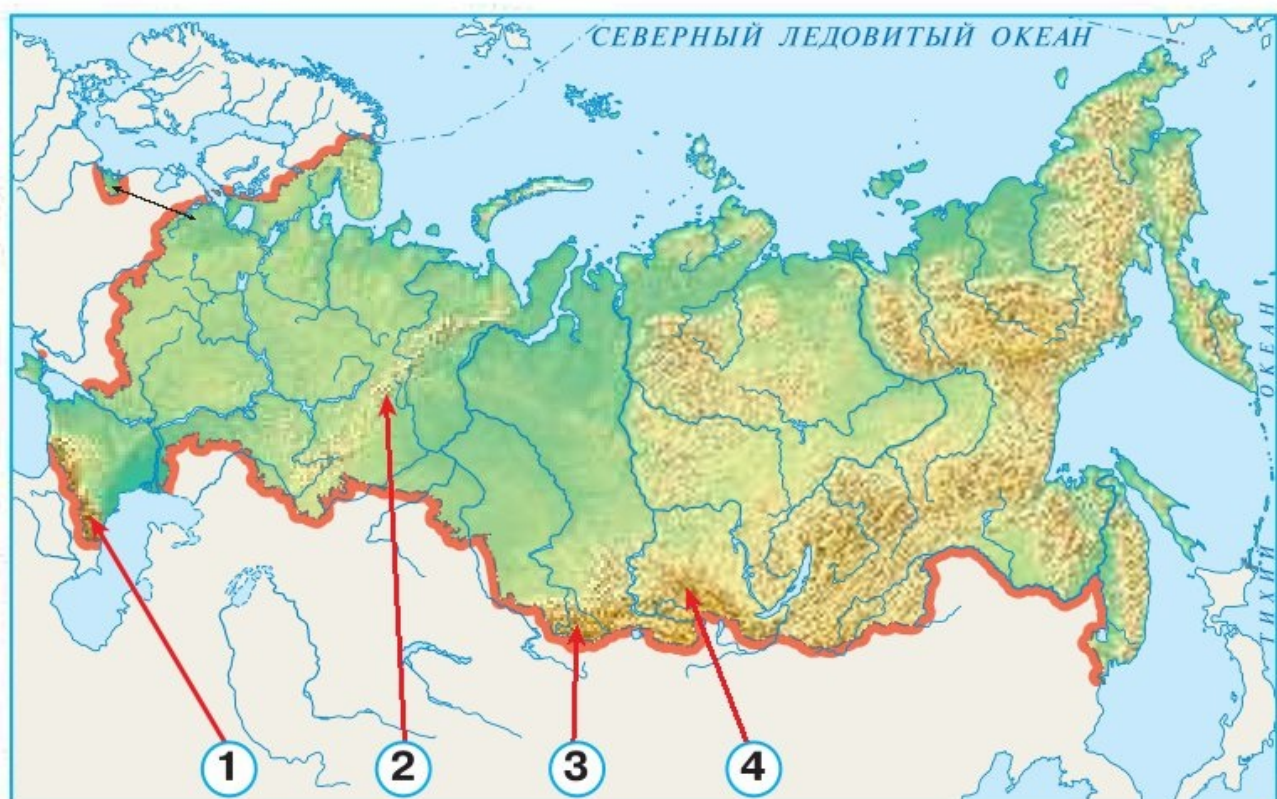
43. Самые высокие горы России:

- Ⓐ Кавказские горы
- Ⓑ Уральские горы
- Ⓒ вулканы Камчатки

44. На какой фотографии изображена гора Эльбрус?



45. В каком ряду правильно названы горы, пронумерованные на карте?



- Ⓐ 1. Уральские горы. 2. Алтай. 3. Саяны. 4. Кавказские горы
- Ⓑ 1. Кавказские горы. 2. Уральские горы. 3. Алтай. 4. Саяны
- Ⓒ 1. Кавказские горы. 2. Алтай. 3. Уральские горы. 4. Саяны

46. К объектам Всемирного природного наследия относятся:

- Ⓐ Уральские горы
- Ⓑ «Золотые горы Алтая»
- Ⓑ Кавказские горы
- Ⓒ Вулканы Камчатки

47. Где находится гора Эльбрус?

- А На Русской равнине Б На Урале
 В На Камчатке Г На Кавказе

Моря, озёра и реки России

48. Моря каких океанов омывают берега России?

- А Северного Ледовитого
 Б Индийского
 В Тихого
 Г Атлантического
 Д Южного

49. Балтийское, Чёрное и Азовское моря — это моря:

- А Северного Ледовитого океана
 Б Атлантического океана
 В Тихого океана

50. Самое большое озеро России:

- А Байкал Б Ладожское
 В Онежское Г Каспийское

51. Самое глубокое озеро России:

- Ⓐ Ладожское Ⓑ Каспийское
Ⓒ Байкал Ⓓ Онежское

52. Из какого озера вытекает река Нева?

- Ⓐ Из озера Байкал Ⓑ Из Онежского озера
Ⓒ Из Ладожского озера

53. В каком ряду правильно названы реки, пронумерованные на карте?



- Ⓐ 1. Лена. 2. Обь. 3. Енисей. 4. Волга. 5. Амур
Ⓑ 1. Волга. 2. Енисей. 3. Лена. 4. Амур. 5. Обь
Ⓒ 1. Волга. 2. Обь. 3. Енисей. 4. Лена. 5. Амур

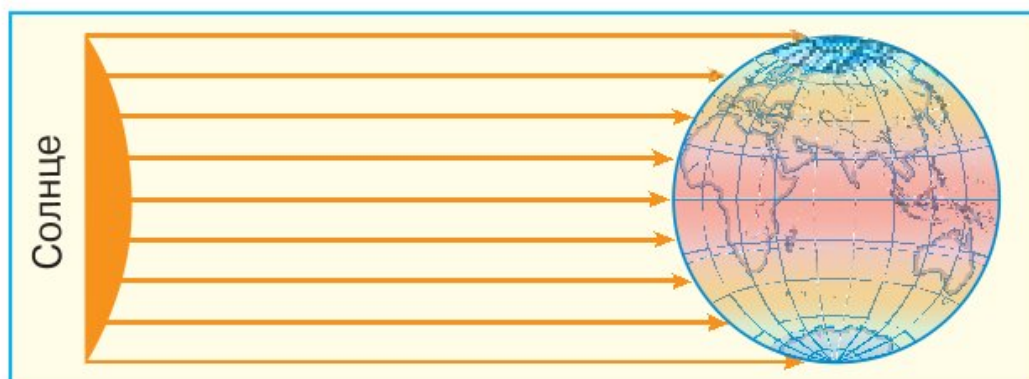
Природные зоны России

54. На какой карте можно проследить, как меняется природа России в направлении с севера на юг?
- А На политической карте мира
 - Б На физической карте мира
 - В На физической карте России
 - Г На карте природных зон России
55. Какая из этих природных зон самая северная?
- А Тундра
 - Б Тайга
 - В Арктические пустыни
 - Г Субтропики
56. В каком ряду основные природные зоны перечислены в порядке их смены с севера на юг?
- А Степи, пустыни, тундра, смешанные и широколиственные леса, тайга
 - Б Тундра, тайга, смешанные и широколиственные леса, степи, пустыни
 - В Тундра, тайга, пустыни, степи, смешанные и широколиственные леса

57. В каком ряду названы только промежуточные природные зоны?

- Ⓐ Арктические пустыни, тундра, тайга
- Ⓑ Тундра, лесотундра, тайга
- Ⓒ Лесотундра, лесостепь, полупустыня

58. Как правильно подписать эту схему?



- Ⓐ Схема круговорота воды в природе
- Ⓑ Схема смены дня и ночи
- Ⓒ Схема смены времён года
- Ⓓ Схема нагревания поверхности Земли солнечными лучами

59. Высотной поясностью называется:

- Ⓐ смена природных зон с севера на юг
- Ⓑ смена природных зон с юга на север
- Ⓒ изменение картины природы в горах с высотой
- Ⓓ чередование основных и промежуточных природных зон

Зона арктических пустынь

60. Каким номером на карте обозначена зона арктических пустынь?



- А 1 Б 2 В 3

61. Узнай явление по описанию.

Это явление можно увидеть полярной ночью в Арктике. В небе появляется свечение, напоминающее разноцветный, переливающийся занавес.

- А НЛО Б Млечный путь
В Полярное сияние Г Гроза

62. Какие растения НЕ растут в арктической пустыне?

- А Полярный мак
- Б Роза
- В Орешник
- Г Дуб
- Д Мох

63. На каком рисунке изображены чайка и кайра?



А



Б



В

64. Отметь признаки приспособленности белого медведя к условиям жизни в Арктике.

- А Ноги, превратившиеся в лапы
- Б Густая длинная шерсть
- В Белый цвет меха
- Г Мощные клыки, похожие на сабли
- Д Широкие лапы

65. Какой заповедник находится в зоне арктических пустынь?

- А Ильменский заповедник
- Б Дальневосточный морской заповедник
- В Заповедник «Остров Врангеля»
- Г Приокско-Террасный заповедник

Тундра

66. Каким номером на карте обозначена зона тундры?




- А 1
- Б 2
- В 3

67. По каким причинам в тундре много болот и озёр?

- Ⓐ Постоянно идут дожди.
- Ⓑ Многолетняя мерзлота не пропускает дождевую и талую воду на глубину.
- Ⓒ Из-за низкой температуры воздуха вода с поверхности почвы испаряется медленно.
- Ⓓ Почва бедна перегноем.

68. На каком рисунке изображены ягель и карликовая берёза?



69. Какое звено в цепи питания пропущено?




- Ⓐ Комар
- Ⓑ Дикий северный олень
- Ⓒ Лемминг
- Ⓓ Волк

70. Узнай по описанию.

У этой растительноядной птицы летом оперение бурое, а зимой — белое. Её ноги к зиме покрываются перьями до самых когтей.

- Ⓐ Белая сова Ⓑ Кречет
Ⓒ Кулик Ⓓ Белая куропатка

71. Отметь животных тундры, внесённых в Красную книгу России.



ЛЕСА РОССИИ

72. В каком ряду правильно названы лесные зоны, пронумерованные на карте?



- А 1. Смешанные леса. 2. Тайга. 3. Широколиственные леса
- Б 1. Широколиственные леса. 2. Смешанные леса. 3. Тайга
- В 1. Тайга. 2, 3. Смешанные и широколиственные леса

73. Какие из этих деревьев образуют тайгу?

- А Ель Б Липа В Кедровая сосна
- Г Дуб Д Пихта Е Лиственница

74. На каком рисунке изображены кедровка, соболь и бурундук?



А



Б



В

75. Узнай по описанию.

Этот таёжный зверёк имеет между передними и задними ногами кожные складки, покрытые шерстью. Благодаря им он может перелетать (планировать) с дерева на дерево.

А Рысь

Б Лось

В Соболь

Г Летяга

76. Какие деревья НЕ характерны для широколиственных лесов?

А Сосна

Б Дуб

В Вяз

Г Пихта

Д Клён

Е Ясень

77. Какое звено в цепи питания пропущено?



- А Лось
- Б Благородный олень
- В Рысь
- Г Бурундук

ЛЕС И ЧЕЛОВЕК

78. Почему леса называют «лёгкими» нашей планеты?

- А Лесные растения выделяют кислород и поглощают углекислый газ.
- Б Лесные растения поглощают углекислый газ и выделяют азот.
- В Лесные растения выделяют углекислый газ и поглощают азот.

79. Отметь только мероприятия по охране природы.

- А Заготовка древесины
- Б Посадка лесов
- В Запрещение охоты на лесных животных
- Г Браконьерство
- Д Создание заповедников

83. В зоне смешанных и широколиственных лесов находится:

- А заповедник «Остров Врангеля»
- Б Таймырский заповедник
- В Приокско-Террасный заповедник

Зона степей

84. Каким номером на карте обозначена зона степей?



- А 1
- Б 2
- В 3


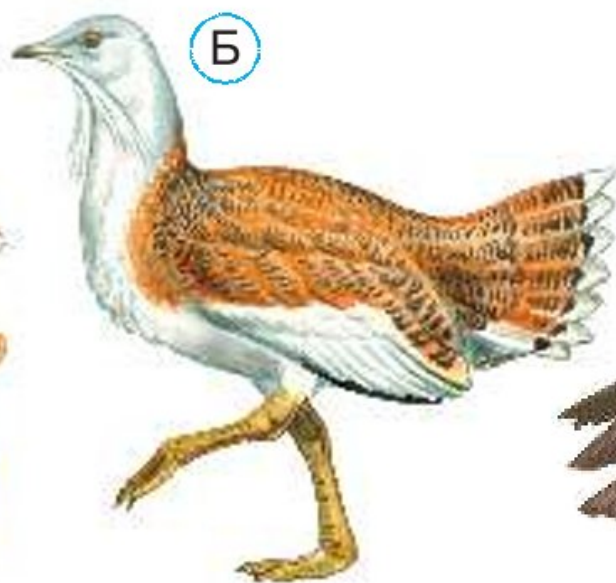
85. По какой причине в зоне степей не растут деревья?

- Ⓐ Бедные почвы
- Ⓑ Недостаток влаги
- Ⓓ Сильные ветры

86. Как ковыль приспособлен к условиям жизни в степи?

- Ⓐ Цветёт весной, до наступления летней жары
- Ⓑ Имеет очень узкие листья, которые испаряют мало влаги
- Ⓓ Запасает влагу в толстых, мясистых листьях


87. Какое звено в цепи питания пропущено?



88. Отметь на рисунке кобылку.



89. В каком ряду правильно названы птицы, внесённые в Красную книгу России?



- А 1. Степной орёл. 2. Дрофа. 3. Журавль-красавка
- Б 1. Журавль-красавка. 2. Дрофа. 3. Степной орёл
- В 1. Дрофа. 2. Степной орёл. 3. Журавль-красавка

Пустыни

90. Каким номером на карте природных зон обозначены полупустыни и пустыни?




- А 1 Б 2 В 3 Г 4 Д 5

91. В пустынях:

- А лето тёплое и влажное
Б лето тёплое, засушливое, часто дуют суховеи
В лето очень жаркое, дождей почти не бывает, нередко песчаные бури

92. Какое растение пустыни добывает воду с глубины почти 20 метров?

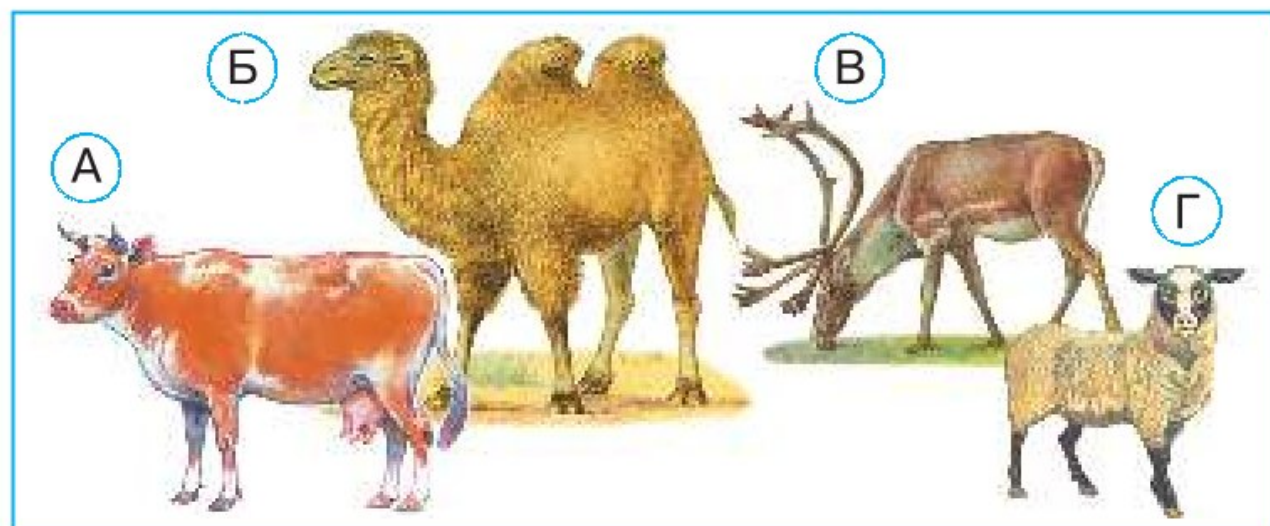


93. Узнай по описанию.

У этого животного длинные и сильные задние ноги. С их помощью оно прыгает на большое расстояние. А длинный хвост помогает ему поддерживать равновесие.

- А Ушастый ёж Б Скарабей
В Песчаный удавчик Г Тушканчик

94. Каких домашних животных разводят в пустынях и полупустынях?



95. Какой заповедник создан для сохранения природы полупустынь и пустынь?
- Ⓐ Таймырский заповедник
 - Ⓑ Заповедник «Остров Врангеля»
 - Ⓒ Заповедник «Чёрные Земли»
 - Ⓓ Приокско-Террасный заповедник




У ЧЁРНОГО МОРЯ

96. Почему на Черноморском побережье Кавказа и Южном берегу Крыма тёплые зимы?
- Ⓐ Благодаря плодородной почве
 - Ⓑ Благодаря богатой растительности
 - Ⓒ Благодаря морю и горам
97. Что показано на фотографиях?



- Ⓐ Цветок абрикоса. Листья кипариса
- Ⓑ Цветок магнолии. Листья инжира
- Ⓒ Цветок персика. Листья пальмы

98. На каком рисунке изображены цикада и богомол?



99. Какие из этих морских обитателей — рыбы?

- А Дельфин
- Б Морской конёк
- В Медуза
- Г Морская игла
- Д Краб

100. Какие растения Черноморского побережья Кавказа внесены в Красную книгу России?

- А Кипарис
- Б Иглица колхидская
- В Тис ягодный
- Г Грецкий орех
- Д Самшит колхидский
- Е Абрикос

101. В каком городе-курорте находится парк Дендрарий?

- А Кисловодск
- Б Ялта
- В Сочи
- Г Евпатория
- Д Алушта
- Е Анапа

3. РОДНОЙ КРАЙ — ЧАСТЬ БОЛЬШОЙ СТРАНЫ

ПОВЕРХНОСТЬ НАШЕГО КРАЯ

102. Что НЕ относится к формам земной поверхности?

- А Равнина Б Гора В Озеро
 Г Овраг Д Холм Е Река

103. Углубление на поверхности земли с пологими, поросшими растениями склонами, называется:

- А карьер Б овраг В балка

104. Котлован, где добывают полезные ископаемые, называется:

- А траншея Б карьер В террикон

105. Что из перечисленного ниже имеет отношение к проблеме мусора?

- А Неправильная распашка склона
 Б Свалка
 В Образование оврага

- 106.** Отметь то, что требуется для борьбы с оврагами.
- Ⓐ Вырубка лесов
 - Ⓑ Установка поперёк оврага плетней из ивовых кольев и прутьев
 - Ⓒ Распашка земли вдоль склона
 - Ⓓ Посадка деревьев и кустарников по краям оврага

Водные богатства нашего края

- 107.** В каком ряду перечислены только водные объекты естественного происхождения?
- Ⓐ Пруд, озеро, ручей
 - Ⓑ Канал, водохранилище, пруд
 - Ⓒ Река, море, океан
- 108.** К водным объектам искусственного происхождения относятся:
- Ⓐ Рыбинское водохранилище
 - Ⓑ озеро Байкал
 - Ⓒ Чёрное море
 - Ⓓ Беломорско-Балтийский канал
 - Ⓔ река Енисей

109. В каком ряду правильно названы условные знаки карты?



- А 1. Каналы. 2. Реки. 3. Озёра
- Б 1. Каналы. 2. Реки. 3. Водохранилища
- В 1. Реки. 2. Каналы. 3. Озёра и водохранилища

110. В каком утверждении говорится о значении рек и озёр в природе?

- А Реки и озёра радуют людей своей красотой.
- Б Реки и озёра — источник воды для растений и животных.
- В Реки и озёра — водные дороги для судов.
- Г Реки и озёра — источник воды для заводов и фабрик.

111. В каких утверждениях говорится о значении водных богатств в жизни людей?



- А Реки, озёра, моря — места для отдыха людей.
- Б Реки, озёра, моря — дом для водных растений и животных.
- В Реки и озёра — источник воды для хозяйства человека.

112. Какие действия людей НЕ приводят к загрязнению вод?

- Ⓐ Катание на моторной лодке
- Ⓑ Купание, игра на пляже
- Ⓒ Мытьё машины или мотоцикла в реке, озере
- Ⓓ Катание на вёсельной лодке
- Ⓔ Выбрасывание мусора в реку, озеро, море
- Ⓕ Стирка и полоскание белья


НАШИ ПОДЗЕМНЫЕ БОГАТСТВА

113. В каком ряду правильно названы полезные ископаемые?



- Ⓐ Железная руда, нефть, торф
- Ⓑ Гранит, известняк, каменный уголь
- Ⓒ Песок, глина, природный газ

- 114.** На каком рисунке показаны условные знаки, обозначающие каменный уголь, нефть, природный газ?



- 115.** Отметь свойство железной руды.

- А Горючесть Б Пластичность
 В Плавкость

- 116.** Узнай по описанию.

Это полезное ископаемое тёмно-коричневого цвета, состоит из остатков растений, рыхлое, непрочное. Хорошо горит. Служит топливом, удобрением. Залежи этого полезного ископаемого очень важно оберегать от пожаров.

- А Гранит Б Железная руда
 В Глина Г Торф

- 117.** Найди неверное утверждение.

- А Изделия из гранита называются керамикой.
 Б Торф может служить подстилкой для животных на фермах.
 В Из железной руды выплавляют чугун, а из чугуна — сталь.
 Г Известняк используют при строительстве зданий, дорог.

118. В каком ряду перечислены только полезные ископаемые, используемые в качестве топлива?

- Ⓐ Гранит, нефть, железная руда
- Ⓑ Торф, природный газ, каменный уголь
- Ⓒ Каменный уголь, глина, нефть

ЗЕМЛЯ-КОРМИЛИЦА

119. В каком ряду правильно названы изображённые почвы?



- Ⓐ Подзолистая почва; серая лесная почва; тундровая почва
- Ⓑ Подзолистая почва; серая лесная почва; болотная почва
- Ⓒ Подзолистая почва; серая лесная почва; чернозём

120. Узнай по описанию.

Эта почва — самая плодородная. Она особенно богата перегноем, который придаёт ей очень тёмный или даже чёрный цвет.

- Ⓐ Тундровая почва
- Ⓑ Серая лесная почва
- Ⓒ Болотная почва
- Ⓓ Чернозём

121. Найди неверное утверждение.

- Ⓐ Подзолистые почвы распространены в тайге и смешанных лесах.
- Ⓑ Серые лесные почвы характерны для лиственных лесов.
- Ⓒ Чернозёмы характерны для зоны тундры.

122. Какая экологическая проблема выражена этими знаками?



- Ⓐ Загрязнение почвы
- Ⓑ Уничтожение почвы
- Ⓒ Разрушение почвы, образование оврагов

123. Один сантиметр почвы образуется в природе за:

- Ⓐ 2—3 месяца Ⓑ 25—30 лет
Ⓒ 250—300 лет Ⓓ 2—3 миллиона лет

124. Какое мероприятие показано на фотографии?



- Ⓐ Вспашка Ⓑ Сев
Ⓒ Снегозадержание

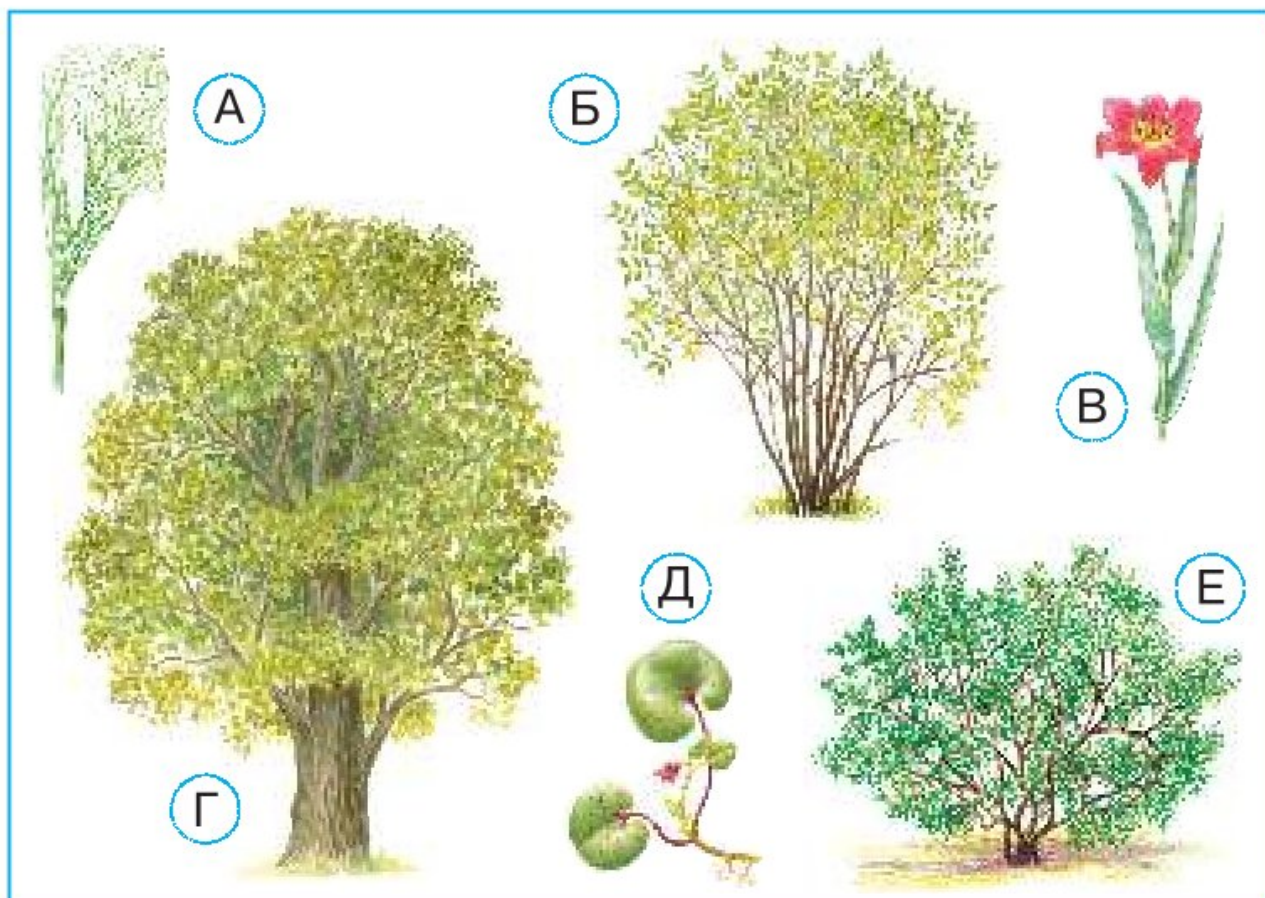
ЖИЗНЬ ЛЕСА

125. Живые организмы леса составляют:


- Ⓐ природный заповедник
Ⓑ природное сообщество
Ⓒ природный парк



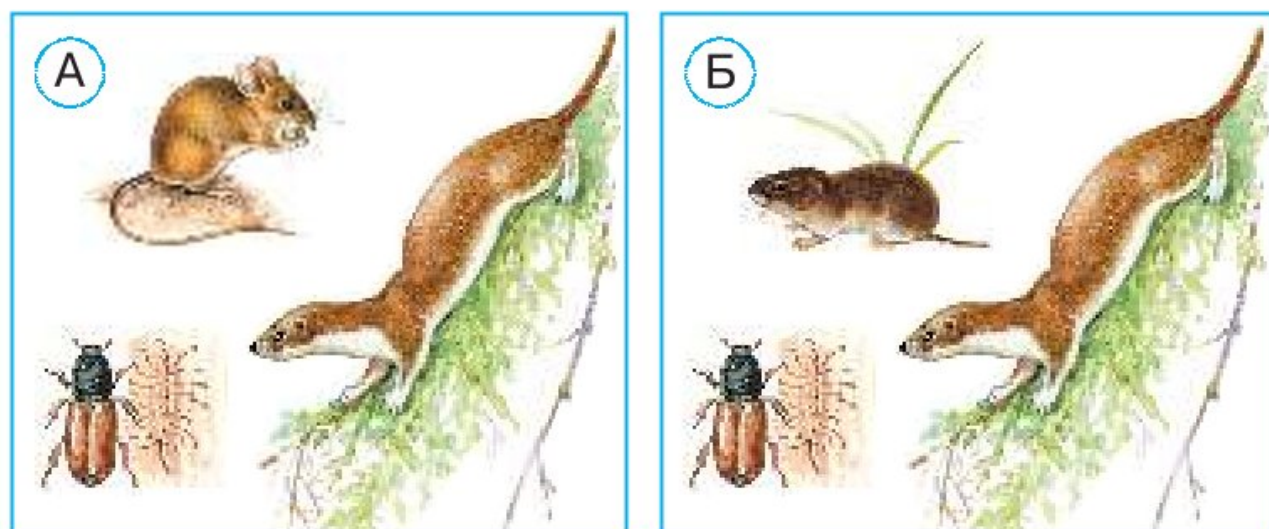
126. Отметь растения леса.



127. На каком рисунке изображены дятел, иволга и дрозд?



128. На каком рисунке изображены жук-короед, лесная мышь, ласка?



129. Какое звено в цепи питания пропущено?



- (А) Белка (Б) Кабан (В) Шелкопряд
(Г) Дятел (Д) Лось (Е) Ласка

130. Отметь верные утверждения.

- (А) Опавшие листья и другие отмершие части растений образуют на поверхности почвы лесную подстилку.
(Б) Под действием бактерий лесная подстилка постепенно перегнивает, обогащая почву перегноем.
(В) Работу бактерий в лесной подстилке затрудняют насекомые и их личинки.

Жизнь луга

131. На каком рисунке изображены тысячелистник, мышиный горошек и мятлик?



132. Почему на лугу не живут крупные животные?

- А Им не хватает воды.
- Б Для них нет пищи.
- В Им негде прятаться.

133. Какое из этих насекомых НЕ имеет жала?

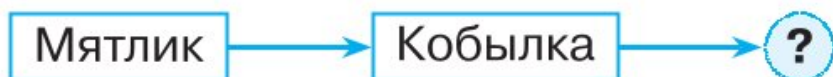


134. Узнай по описанию.

Эта птица взлетает редко, в основном бегаёт по земле. Своё присутствие на лугу выдаёт громким скрипучим криком «дёрг-дёрг».

- Ⓐ Коростель
- Ⓑ Перепел
- Ⓒ Трясогузка

135. Какое звено в цепи питания пропущено?



- Ⓐ Махаон
- Ⓑ Коростель
- Ⓒ Полёвка

136. Надо ли весной поджигать на лугу сухую траву? Отметь несколько причин.

- Ⓐ Да, потому что от этого лучше растёт молодая трава.
- Ⓑ Нет, потому что сгорают молодые ростки и погибают подземные части многих растений.
- Ⓒ Нет, потому что погибают животные луга.
- Ⓓ Нет, потому что огонь может перейти на дома и другие постройки человека.
- Ⓔ Да, потому что погибают опасные для человека насекомые.
- Ⓕ Да, потому что у огня можно согреться.

Жизнь в пресных водах

137. На каком рисунке изображены рогоз, стрелолист и ряска?



138. Почему водомерки не тонут?

- А Они бегают по воде очень быстро.
- Б Они охотятся на комаров.
- В Их ножки снизу покрыты жиром.

139. Отметь только двустворчатых моллюсков.

- А Перловица
- Б катушка
- В Прудовик
- Г Беззубка

140. Какой из этих обитателей пресных вод НЕ относится к рыбам?



141. В каком ряду перечислены млекопитающие, живущие у воды?

- А Утка, цапля, лебедь
- Б Ондатра, бобр, водяная крыса
- В Суслик, хомяк, тушканчик

142. Какие животные «фильтруют» воду, добывая из неё питание для себя?

- А Жуки-плавунцы
- Б Речные раки
- В Бобры
- Г Двустворчатые моллюски

4. СТРАНИЦЫ ВСЕМИРНОЙ ИСТОРИИ

Мир древности: далёкий и близкий

- 143.** Переход от мира первобытности к Древнему миру произошёл:
- Ⓐ с изобретением орудий труда
 - Ⓑ с началом изготовления глиняной посуды
 - Ⓒ с появлением письменности, городов, государств
 - Ⓓ с началом изготовления тканей
- 144.** История Древнего мира длилась:
- Ⓐ несколько десятилетий
 - Ⓑ несколько столетий
 - Ⓒ несколько тысячелетий
 - Ⓓ несколько миллионов лет
- 145.** Река, на берегах которой возникло Египетское царство, называется:
- | | |
|------------|--------|
| Ⓐ Амазонка | Ⓑ Сена |
| Ⓒ Темза | Ⓓ Нил |

146. Какое из этих сооружений НЕ имеет отношения к Древнему Египту?

А



Б



В




Г



147. Отметь всё, к чему имеет отношение это изображение.

- А Древний Египет
- Б Древняя Греция
- В Древний Рим
- Г Афины
- Д Акрополь
- Е Парфенон



148. Центром общественной жизни города Рима в древности был:

- А Колизей
- Б Римский форум
- В Пантеон

СРЕДНИЕ ВЕКА: ВРЕМЯ РЫЦАРЕЙ И ЗАМКОВ

149. Средневековье продолжалось:

- Ⓐ сотни тысяч лет
- Ⓑ несколько тысяч лет
- Ⓒ тысячу лет

150. История Средних веков длилась:

- Ⓐ с конца I века до конца X века
- Ⓑ с конца V века до конца XV века
- Ⓒ с конца X века до конца XX века

151. На какой фотографии изображён средневековый город?



Ⓐ



Ⓑ



Ⓒ

152. Какие из этих храмов построены в Средние века?



153. Узнай по описанию.

Эти неприступные твердыни возвышались по всей Европе. Они говорили о силе и могуществе их владельцев, служили им надёжной защитой.

- | | | | |
|-------------------------|--------|-------------------------|--------|
| <input type="radio"/> А | Замки | <input type="radio"/> Б | Храмы |
| <input type="radio"/> В | Кремли | <input type="radio"/> Г | Дворцы |

154. Годом рождения книгопечатания считается:

- | | | | |
|-------------------------|----------|-------------------------|----------|
| <input type="radio"/> А | 801 год | <input type="radio"/> Б | 1205 год |
| <input type="radio"/> В | 1445 год | <input type="radio"/> Г | 1492 год |


НОВОЕ ВРЕМЯ: ВСТРЕЧА ЕВРОПЫ И АМЕРИКИ

155. Когда наступило Новое время?
- А) Вслед за миром первобытности
 - Б) Вслед за историей Древнего мира
 - В) Вслед за историей Средних веков
156. История Нового времени продолжалась до:
- А) последнего десятилетия XIX века
 - Б) второго десятилетия XX века
 - В) первого десятилетия XXI века
 - Г) второго десятилетия XXI века
157. Кто из путешественников возглавил первую кругосветную экспедицию?




**Христофор
Колумб**

А



**Фернан
Магеллан**

Б



**Фаддей
Беллинсгаузен**

В



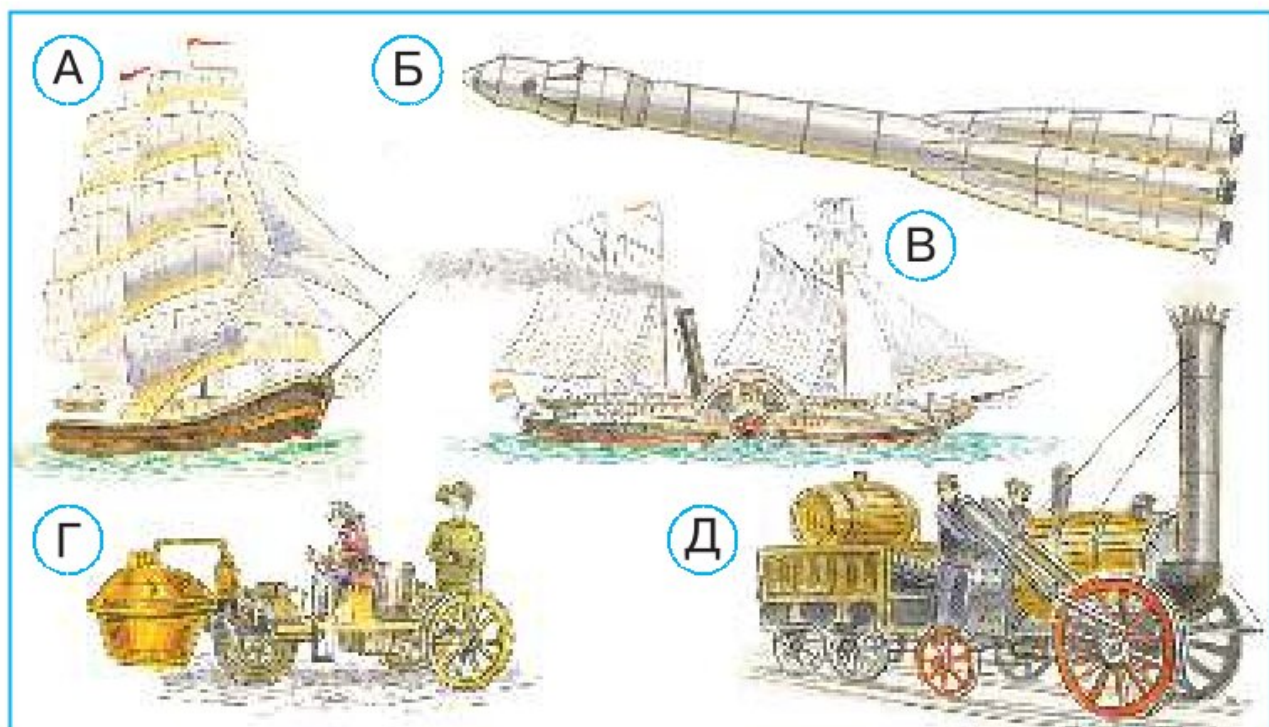
**Михаил
Лазарев**

Г

158. Антарктида была открыта путешественниками из:

- Ⓐ Португалии
- Ⓑ Франции
- Ⓒ Испании
- Ⓓ России

159. Отметь средства транспорта, которые появились в Новое время.



160. В каком ряду перечислены только изобретения Нового времени?

- Ⓐ Фотография, телефон, телевизор, видеокамера
- Ⓑ Фотография, телефон, телеграф, радио
- Ⓒ Фотография, радио, компьютер, мобильный телефон

НОВЕЙШЕЕ ВРЕМЯ: ИСТОРИЯ ПРОДОЛЖАЕТСЯ СЕГОДНЯ

161. Отсчёт истории Новейшего времени ведётся:

- А с конца XIX века Б с начала XXI века
 В со второго десятилетия XX века

162. Отметь портреты путешественников XX века.

А



**Руаль
Амундсен**

Б



**Фаддей
Беллинсгаузен**

В



**Михаил
Лазарев**

Г



Тур Хейердал

Д



Юрий Сенкевич

Е




Жак-Ив Кусто

Ж




**Христофор
Колумб**

З



**Фернан
Магеллан**

И



**Роберт
Пири**

- 163.** К достижениям XX века НЕ относится:
- А создание ООН
 - Б начало освоения космоса
 - В изобретение парохода и паровоза
 - Г появление сети Интернет
 - Д создание Списка Всемирного наследия и международной Красной книги
- 164.** Когда была создана Организация Объединённых Наций (ООН)?
- А После Первой мировой войны
 - Б После Второй мировой войны
- 165.** Первый полёт человека в космос состоялся:
- А 7 ноября 1958 года
 - Б 12 апреля 1961 года
- 166.** В каком ряду исторические эпохи перечислены в правильной последовательности?
- А История Древнего мира; история Средних веков; история Нового времени; история Новейшего времени
 - Б История Древнего мира; история Средних веков; история Новейшего времени; история Нового времени

5. СТРАНИЦЫ ИСТОРИИ РОССИИ

Государство Русь

- 167.** На карте Европы государство Русь появилось:
- А в V веке
 - Б в IX веке
 - В в XI веке
- 168.** Главой Руси был:
- А король
 - Б царь
 - В князь
 - Г император
 - Д президент
- 169.** Какую веру приняла Русь в X веке?
- А Христианство
 - Б Ислам
 - В Буддизм
- 170.** Какой из перечисленных городов был столицей Древнерусского государства?
- А Новгород
 - Б Смоленск
 - В Псков
 - Г Чернигов
 - Д Суздаль
 - Е Киев

171. Какой князь вошёл в историю как креститель Руси?

- А Олег
- Б Владимир
- В Ярослав Мудрый
- Г Юрий Долгорукий



172. В каком году произошло крещение Руси?

- А В 889 году
- Б В 955 году
- В В 988 году
- Г В 1908 году

СТРАНА ГОРОДОВ

173. На какой схеме изображён древний Новгород?



А



Б

174. Что такое кремль?

- А Укреплённый центр древнего русского города
- Б Любая крепость
- В То же, что замок

175. Отметь только то, что располагалось внутри кремля.


- А Княжеский дворец
- Б Дома ремесленников
- В Главная городская церковь
- Г Дома торговцев
- Д Дома знати
- Е Торговая площадь

176. Древний Новгород возник на берегах реки:



- А Днепр
- Б Волга
- В Москва-река
- Г Волхов

177. Что изображено на фотографии?

- А Наскальный рисунок
- Б Папирус
- В Берестяная грамота



178. Что НЕ относится к достопримечательностям Великого Новгорода?



Из книжной сокровищницы Руси

179. В каком веке жили Кирилл и Мефодий?

А В VI веке

Б В IX веке

В В XII веке

Г В XIII веке

180. На какой фотографии изображён памятник Кириллу и Мефодию в Москве?



181. «Повесть временных лет» — это:

- А книга А. С. Пушкина Б летопись
 В энциклопедия

182. Найди неверное утверждение.

- А Письменность на Руси стала широко распространяться после принятия христианства.
 Б В Киеве и других городах Древнерусского государства существовали библиотеки.
 В Грамотными на Руси были только представители знати.

183. Отметь только то, что имеет отношение к древнерусским книгам.

- А Печатный станок Б Пергамен
 В Литеры Г Гусиное перо
 Д Переписчик Е Наборщик

184. Какая из этих книг была создана в Древнерусском государстве?



ТРУДНЫЕ ВРЕМЕНА НА РУССКОЙ ЗЕМЛЕ

- 185.** В каком веке Русь попала в зависимость к Золотой Орде?
- А В X веке Б В XIII веке
 В В XVIII веке Г В XIX веке
- 186.** Кто возглавил поход монголов на Русь в 1237 году?
- А Чингисхан Б Наполеон
 В Мамай Г Батый
- 187.** Что Русь была вынуждена выплачивать Золотой Орде?
- А Выкуп Б Налог В Дань
- 188.** На какой карте показаны места важнейших сражений против шведских захватчиков и немецких рыцарей-крестоносцев?



189. Какой русский князь одержал победы в битвах на северо-западных рубежах Руси?

- А Ярослав Мудрый Б Александр Невский
 В Юрий Долгорукий

190. Ледовое побоище происходило:

- А на реке Неве
 Б на Ладожском озере
 В на Онежском озере
 Г на Чудском озере



Русь РАСПРАВЛЯЕТ КРЫЛЬЯ

191. В каком ряду перечислены города Северо-Восточной Руси?

- А Псков, Новгород, Полоцк, Смоленск
 Б Москва, Владимир, Суздаль, Ростов, Тверь, Ярославль
 В Киев, Чернигов, Козельск, Рязань

192. Какие мастера изготавливали оружие и доспехи?

- А Гончары Б Бронники
 В Камнерезы Г Щитники
 Д Плотники Е Лучники

193. Отметь памятник основателю Троицкого монастыря (Троице-Сергиевой лавры).



194. При каком князе в Москве происходили эти события?

Искусные каменщики возвели на Боровицком холме первые белокаменные соборы. Умелые плотники обнесли Кремль новыми дубовыми стенами. Возле Кремля возникла большая торговая площадь.

- А При Юрии Долгоруком
- Б При Иване Калите
- В При Дмитрии Донском

195. Что такое «калита»?

- А Кошель с деньгами
- Б Кольчуга
- В Воинский шлем

196. Что получили в наследство от Ивана Калиты московские князья?

- А Соболью шубу
- Б Золотой перстень
- В Шапку Мономаха

Куликовская битва

197. О какой битве идёт речь в летописи?

...Известно стало, что Мамай собрал силу великую и идёт на Русскую землю; и были все люди страхом великим охвачены.

...Началось сражение, и многие пали, но помог Бог великому победоносному Дмитрию, и побеждены были противники и полному разгрому подверглись.

- А О Невской битве
- Б О Ледовом побоище
- В О Куликовской битве

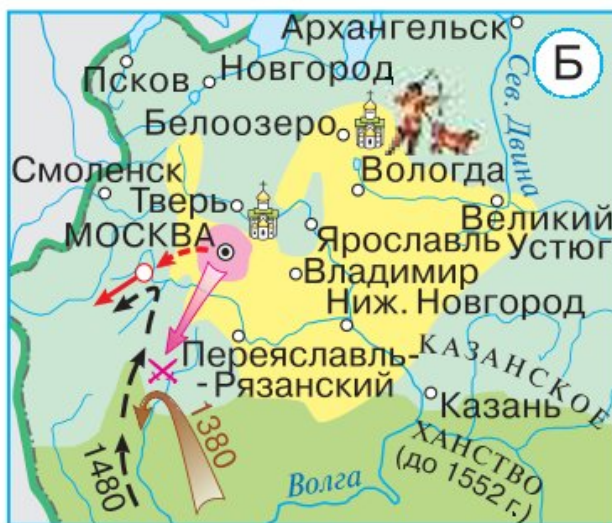
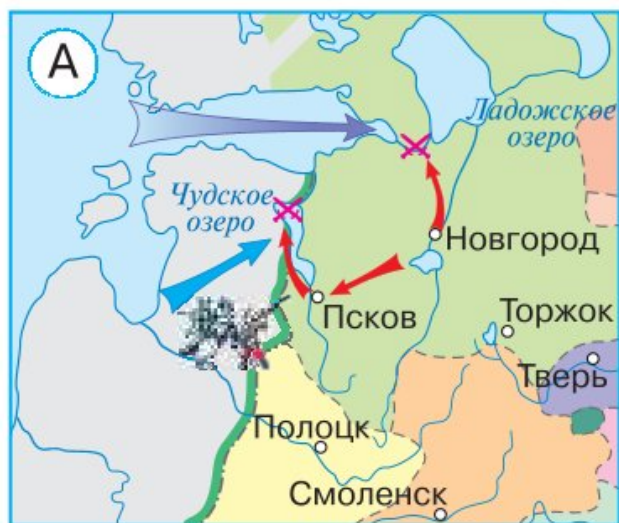
198. В каком году произошла Куликовская битва?

- А В 1237 году
- Б В 1240 году
- В В 1380 году

199. Где расположено Куликово поле?

- А Между Волгой и её притоком — Окой
- Б Между Доном и его притоком — Непрядвой
- В Между Обью и её притоком — Иртышом

200. На каком из фрагментов карт обозначено место Куликовской битвы?



201. Какой русский князь одержал победу на Куликовом поле?

- А Иван Калита
- Б Александр Невский
- В Дмитрий Донской



202. Отметь верные утверждения.

- А В результате победы на Куликовом поле Орда была окончательно сломлена.
- Б Победа на Куликовом поле дала народу веру в то, что зависимость Руси от чужеземцев не будет вечной.
- В Благодаря победе на Куликовом поле возросло значение Москвы и её князя в глазах русских людей.

ИВАН ТРЕТИЙ

203. В каком утверждении содержится ошибка?

- А При Иване Третьем Москва объединила вокруг себя многие русские земли.
- Б Иван Третий отказался платить дань хану Батыю.
- В При Иване Третьем закончилась зависимость Руси от Орды.

204. На какой реке происходили эти события?

Обе рати встали друг против друга на противоположных берегах реки. Несколько раз ордынцы пытались переправиться через реку, но безуспешно. Русские обстреливали их из луков и пушек. Хан Ахмат отступил и увёл своё войско.


- А На Дону
- Б На Днепре
- В На Северной Двине
- Г На Угре

205. В каком году русская рать встретилась с ордынским войском на реке Угре?

- А В 1380 году
- Б В 1480 году
- В В 1580 году
- Г В 1600 году



206. Какой облик приобрёл Московский Кремль при Иване Третьем?



207. Изображение двуглавого орла впервые появилось:

- А на монете
- Б на печати Ивана Третьего
- В на стене Московского Кремля



Россия в правление царя Ивана Васильевича Грозного

208. С какого времени правителей России стали называть царями?

- А Со времени правления Ивана Калиты
- Б Со времени правления Ивана Третьего
- В Со времени правления Ивана Грозного

209. Отметь верные утверждения.

- А Венчание на царство произошло в 1547 году в Успенском соборе Московского Кремля.
- Б Иван Четвёртый именовался Государем всея Руси.
- В При Иване Четвёртом состоялся первый Земский собор.
- Г Иван Грозный присоединил к России Казанское и Астраханское ханства, башкирские земли.

210. Какой из этих памятников поставлен первопечатнику Ивану Фёдорову?



211. Кто был помощником Ивана Фёдорова?

- А Пересвет
- Б Пётр Мстиславец
- В Ослябя

212. Первой русской печатной книгой считается:

- А «Повесть временных лет»
- Б «Букварь»
- В «Апостол»

213. В каком веке появилась первая русская печатная книга?

- А В XV веке
- Б В XVI веке
- В В XVII веке
- Г В XVIII веке

214. Кто возглавил дружину казаков для защиты русских земель от набегов сибирского хана Кучума?

- А Дмитрий Донской
- Б Ермак Тимофеевич
- В Пересвет

ПАТРИОТЫ РОССИИ

215. В начале XVII века против России выступили:

- А монгольские завоеватели
- Б шведские захватчики
- В немецкие рыцари-крестоносцы
- Г польские захватчики

216. Кто создал народное ополчение и повёл его на борьбу с врагом?

- Ⓐ Торговый человек Кузьма Минин
- Ⓑ Царь Фёдор Иванович
- Ⓒ Князь Дмитрий Михайлович Пожарский

217. На какой фотографии изображён памятник К. Минину и Д. Пожарскому?



218. В каком году польские захватчики были разгромлены и изгнаны из Москвы?

- Ⓐ В 1612 году
- Ⓑ В 1613 году
- Ⓒ В 1818 году

219. Какой праздник отмечается в современной России в память о событиях 1612 года?

- Ⓐ День России — 12 июня
- Ⓑ День народного единства — 4 ноября
- Ⓒ День Конституции — 12 декабря

220. Когда в России начали править цари из рода Романовых?

- Ⓐ В 1564 году
- Ⓑ В 1612 году
- Ⓒ В 1613 году


ПЁТР ВЕЛИКИЙ

221. Узнай по описанию, о каком царе идёт речь.

Во время путешествия в Европу молодой царь трудился плотником на верфях Голландии и Англии, чтобы самому постичь премудрости корабельного дела. За свою жизнь он освоил около 14 специальностей.

- Ⓐ Об Иване Третьем
- Ⓑ О Михаиле Фёдоровиче Романове
- Ⓒ О Петре Первом

222. Какой из памятников Петру Первому отражает его любовь к корабельному делу?





223. Найди неверное утверждение.

- А Пётр Первый ввёл в России новый календарь и повелел отсчитывать годы от Рождества Христова.
- Б При Петре Первом Россия превратилась в морскую державу.
- В При Петре Первом в Санкт-Петербурге открылся первый музей — Кунсткамера.
- Г При Петре Первом в Москве открылась первая типография.

224. В каком году был основан Санкт-Петербург?

- А В 1613 году
- Б В 1703 году
- В В 1721 году
- Г В 1803 году

225. В каком ряду правильно подписаны фотографии?



- Ⓐ Адмиралтейство. Летний дворец Петра Первого. Александро-Невская лавра
- Ⓑ Петропавловская крепость. Летний дворец Петра Первого. Александро-Невская лавра
- Ⓒ Летний дворец Петра Первого. Александро-Невская лавра. Зимний дворец

226. В 1721 году Пётр Первый был провозглашён:

- Ⓐ царём
- Ⓑ великим князем
- Ⓒ королём
- Ⓓ императором

Михаил Васильевич Ломоносов

227. О ком идёт речь в этом описании?

В самых разных областях деятельности раскрылся талант этого великого человека. Он прославился как учёный (физик, химик, геолог, астроном, географ, историк!), а также как поэт и художник.

- А Пётр Первый Б М. В. Ломоносов
 В Иван Фёдоров Г Д. М. Пожарский

228. В каком году родился М. В. Ломоносов?

- А В 1703 году Б В 1711 году
 В В 1721 году Г В 1725 году

229. На какой карте правильно обозначена родина М. В. Ломоносова?



А



Б



В

230. По каким учебникам учился М. В. Ломоносов?

- А «Букварь» Ивана Фёдорова
- Б «Грамматика» Мелетия Смотрицкого
- В «Арифметика» Леонтия Магницкого

231. По предложению М. В. Ломоносова был открыт:

- А Московский университет
- Б Московский зоопарк
- В Московский планетарий

232. На какой фотографии изображён памятник М. В. Ломоносову?



ЕКАТЕРИНА ВЕЛИКАЯ

233. На каком портрете изображена Екатерина Великая?



234. Сколько лет правила императрица Екатерина Великая?

- А 24 года Б 34 года В 40 лет

235. Верно ли утверждение?

При Екатерине Второй русским дворянам жилось особенно вольготно. А вот крепостные крестьяне полностью зависели от своих господ.

- А Да Б Нет

236. Какой из памятников Петру Первому был создан по приказу Екатерины Великой и имеет надпись «Петру Первому — Екатерина Вторая»?



237. В царствование Екатерины Второй Россия утвердилась на берегах:

- А Балтийского моря
- Б Чёрного моря
- В Азовского моря

238. Отметь всё, что имеет отношение к Александру Васильевичу Суворову.

- А Полководец
- Б Флотоводец
- В Крепость Измаил
- Г Черноморский флот
- Д «Наука побеждать»

ОТЕЧЕСТВЕННАЯ ВОЙНА 1812 ГОДА

239. Отметь имена тех людей, которые имеют отношение к войне 1812 года.

- А Хан Ахмат
- Б Денис Давыдов
- В Наполеон Бонапарт
- Г А. В. Суворов
- Д М. И. Кутузов
- Е Ф. Ф. Ушаков

240. На каком портрете изображён Михаил Илларионович Кутузов?



241. Главное сражение Отечественной войны 1812 года:

- А Невская битва
- Б Куликовская битва
- В Бородинская битва



242. Какое решение приняло русское командование после Бородинской битвы?

- Ⓐ Дать под стенами Москвы ещё одно сражение.
- Ⓑ Оставить Москву неприятелю, но сберечь войско.

243. Найди неверное утверждение.

- Ⓐ Наполеон вошёл в Москву, но спустя месяц оставил её.
- Ⓑ Большой урон отступающей армии Наполеона наносили партизаны.
- Ⓒ Одним из отрядов партизан командовал генерал Николай Николаевич Раевский.
- Ⓓ Захватчики были изгнаны с российской земли, а русская армия дошла до Парижа.

244. Какой храм был сооружён в Москве в память о победе в Отечественной войне 1812 года?



СТРАНИЦЫ ИСТОРИИ XIX ВЕКА

245. Когда произошло восстание декабристов?

- А 16 мая 1703 года
- Б 26 августа 1812 года
- В 14 декабря 1825 года



246. Почему Александр Второй вошёл в историю России как царь-освободитель?

- А Освободил страну от монгольского нашествия
- Б Освободил страну от французских захватчиков
- В Освободил крепостных крестьян, подписав манифест о крестьянской вольности

247. В каком году состоялось освобождение крепостных крестьян в России?

- А В 1812 году
- Б В 1861 году
- В В 1913 году
- Г В 1917 году

248. Отметь технические новшества, появившиеся в России в XIX веке.

- А Электрическое освещение
- Б Трамвай
- В Железная дорога
- Г Компьютер
- Д Печатный станок
- Е Телефон


249. В каком году открылась железная дорога между Петербургом и Москвой?

- Ⓐ В 1812 году Ⓑ В 1825 году
Ⓒ В 1851 году Ⓓ В 1861 году

250. Какой музей был открыт в Москве в XIX веке?



Кунсткамера



Политехнический музей

Россия вступает в XX век

251. Кто был последним российским государем?

- Ⓐ Александр Третий
Ⓑ Павел Первый
Ⓒ Пётр Третий
Ⓓ Николай Второй

252. На каком портрете изображён Николай Второй?



253. В каком году началась Первая мировая война?

- А** В 1905 году **Б** В 1914 году
В В 1917 году

254. Как во время Первой мировой войны стал называться Санкт-Петербург?

- А** Петроград **Б** Ленинград
В Питер

255. Когда к власти пришла партия большевиков?

- А** В марте 1917 года
Б В октябре 1917 года
В Летом 1918 года

256. Что произошло после событий октября 1917 года?

- Ⓐ Император отрёкся от престола.
- Ⓑ Власть перешла в руки Временного правительства.
- Ⓒ В стране началась Гражданская война.
- Ⓓ Большевики расстреляли царскую семью.

СТРАНИЦЫ ИСТОРИИ 1920–1930-х годов

257. Как называлось государство, образовавшееся на территории бывшей Российской империи? Отметь полное и сокращённые названия.

- Ⓐ Союз Советских Социалистических Республик
- Ⓑ Россия
- Ⓒ Российская Федерация
- Ⓓ Советский Союз
- Ⓔ СССР

258. В каком году образовался Советский Союз?

- Ⓐ В 1917 году
- Ⓑ В 1920 году
- Ⓒ В 1922 году
- Ⓓ В 1930 году

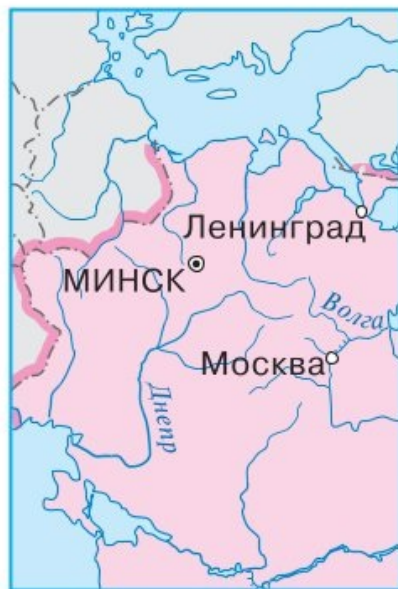
259. Сколько союзных республик со временем вошло в состав СССР?

- Ⓐ 15 Ⓑ 20 Ⓒ 30

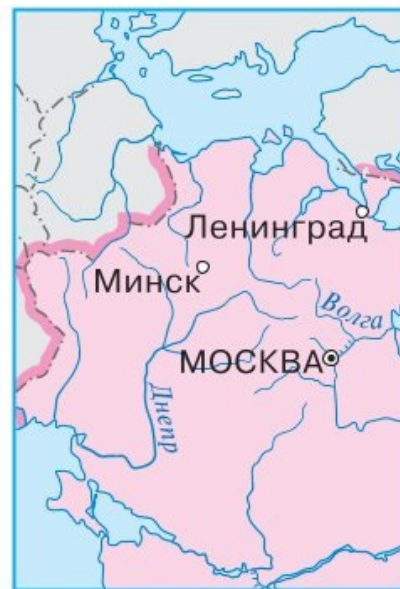
260. На каком фрагменте карты обозначена столица Советского Союза?



Ⓐ



Ⓑ



Ⓒ

261. В каком ряду названы только республики Советского Союза?

- Ⓐ Армения, Монголия, Киргизия, Китай
Ⓑ Молдавия, Азербайджан, Турция, Таджикистан
Ⓒ Иран, Афганистан, Узбекистан, Туркмения
Ⓓ Россия, Белоруссия, Украина, Казахстан

262. Отметь хорошее в жизни Советской страны в 1920—1930-е годы.

- А Началась борьба с неграмотностью; образование стало доступно всем.
- Б Были уничтожены многие исторические памятники; в Москве был взорван храм Христа Спасителя.
- В В стране появились новые города, заводы, электростанции.
- Г В Москве началось строительство метро.
- Д Многих людей, которые честно трудились, объявляли «врагами народа».

ВЕЛИКАЯ ОТЕЧЕСТВЕННАЯ ВОЙНА И ВЕЛИКАЯ ПОБЕДА

263. В каком году началась Вторая мировая война?

- А В 1914 году
- Б В 1939 году
- В В 1941 году

264. В каком году началась Великая Отечественная война?

- А В 1933 году
- Б В 1939 году
- В В 1941 году

265. Какие события Великой Отечественной войны отражены на этих фотографиях?



- А Оборона Москвы
- Б Блокада Ленинграда
- В Бои в Сталинграде

266. Какой полководец руководил штурмом столицы Германии — Берлина?

- А Кирилл Афанасьевич Мерецков
- Б Александр Михайлович Василевский
- В Георгий Константинович Жуков

267. Какое событие изображено на фотографии?



- А Победа советских войск под Москвой
- Б Окружение немецких войск под Сталинградом
- В Разгром врага под Курском
- Г Водружение красного знамени над зданием рейхстага в Берлине

268. Какой день стал Днём Победы в войне с фашистской Германией?

- А 22 июня 1941 года
- Б 9 мая 1945 года

СТРАНА, ОТКРЫВШАЯ ПУТЬ В КОСМОС

- 269.** Какая страна первой вышла в космос?
- Ⓐ Советский Союз
 - Ⓑ Соединённые Штаты Америки
 - Ⓒ Франция
 - Ⓓ Китай
- 270.** В каком году на орбиту был выведен первый искусственный спутник Земли?
- Ⓐ В 1951 году
 - Ⓑ В 1957 году
 - Ⓒ В 1961 году
 - Ⓓ В 1967 году
- 271.** На каком портрете изображён конструктор космических ракет Сергей Павлович Королёв?



Ⓐ



Ⓑ



Ⓒ

272. Отметь хорошее в жизни Советской страны в 1970-е годы XX века.

- А Тысячи людей смогли переехать из коммуналок в отдельные квартиры.
- Б Многие молодые люди не только заканчивали школу, но и получали высшее образование.
- В Вырубались ценнейшие леса, заводы и фабрики загрязняли воздух и воду; под угрозой загрязнения оказалось озеро Байкал.
- Г В магазинах нельзя было купить многих необходимых вещей; привычными стали длинные очереди за товарами.
- Д Были введены в строй мощные электростанции: Братская, Красноярская, Саяно-Шушенская.

273. Когда в стране была объявлена политика гласности?

- А В начале 1980-х годов
- Б В середине 1980-х годов
- В В конце 1980-х годов

274. В каком году Советский Союз прекратил своё существование и республики, входившие в его состав, стали независимыми государствами?

- А В 1980 году
- Б В 1991 году
- В В 2000 году

6. СОВРЕМЕННАЯ РОССИЯ

ОСНОВНОЙ ЗАКОН РОССИИ И ПРАВА ЧЕЛОВЕКА

- 275.** Отметь верные утверждения.
- А Конституция — Основной закон нашей страны.
 - Б Слово «конституция» в переводе с латинского языка означает «заявление».
 - В В Конституции России сказано: «Человек, его права и свободы являются высшей ценностью».
- 276.** Всеобщая Декларация прав человека была принята Организацией Объединённых Наций:
- А В 1948 году
 - Б В 1958 году
 - В В 1968 году
- 277.** Права человека принадлежат каждому:
- А по его заслугам
 - Б по его желанию
 - В по праву рождения
 - Г по усмотрению начальства

278. Каждый человек имеет право:

- Ⓐ на жизнь
- Ⓑ на свободу и безопасность
- Ⓒ на бесплатную квартиру
- Ⓓ на защиту законом

279. Слово «конвенция» в переводе с латинского языка означает «соглашение». Конвенция о правах ребёнка была принята:

- Ⓐ 10 декабря 1948 года Организацией Объединённых Наций
- Ⓑ 20 ноября 1989 года Организацией Объединённых Наций
- Ⓒ 1 сентября 1998 года Правительством России

280. Согласно Конвенции о правах ребёнка, ребёнком считается каждый юный житель планеты, не достигший:

- Ⓐ 12 лет
- Ⓑ 16 лет
- Ⓒ 18 лет

281. О каких правах ребёнка говорится в этом описании? Выбери ответы на с. 96.

Когда малыш появился на свет, родители зарегистрировали его рождение, дали ему имя, стали постоянно заботиться о нём.

- Ⓐ Право на жизнь
- Ⓑ Право на имя
- Ⓒ Право на заботу родителей
- Ⓓ Право на бесплатное образование
- Ⓔ Право на отдых
- Ⓕ Право на занятия искусством, спортом

282. Какие права ребёнка отражены на этих фотографиях?



- Ⓐ На бесплатное образование; на занятия искусством
- Ⓑ На отдых; на охрану здоровья
- Ⓒ На бесплатное образование; на отдых

283. Как называется должность человека, который следит в нашей стране за соблюдением прав ребёнка?

- Ⓐ Ответственный за права ребёнка
- Ⓑ Уполномоченный по правам ребёнка при Президенте Российской Федерации
- Ⓒ Судья по правам ребёнка

Мы – граждане России

284. Что относится к ПРАВАМ гражданина России?

- Ⓐ Свобода и личная неприкосновенность
- Ⓑ Защита своей чести и доброго имени
- Ⓒ Соблюдение Конституции и законов России
- Ⓓ Защита Отечества
- Ⓔ Участие в управлении делами государства
- Ⓕ Забота о сохранении природы, исторического и культурного наследия

285. Что относится к ОБЯЗАННОСТЯМ гражданина России? Выбери ответы на с. 97—98.

- Ⓐ Свободный труд и образование
- Ⓑ Соблюдение Конституции и законов России

- В Отдых
- Г Владение имуществом
- Д Забота о сохранении природы, исторического и культурного наследия
- Е Защита Отечества


286. С какого возраста гражданин России имеет право участвовать в управлении делами государства?

- А С 16 лет
- Б С 18 лет
- В С 20 лет

287. Главой нашего государства является:

- А Президент Российской Федерации
- Б Председатель Правительства Российской Федерации
- В Председатель Совета Федерации
- Г Председатель Государственной думы

288. На какой фотографии изображена резиденция Президента России?



289. Парламент нашей страны называется:

- Ⓐ Совет Федерации
- Ⓑ Государственная дума
- Ⓒ Президентский совет
- Ⓓ Федеральное собрание

Славные символы России

290. Где правильно подписаны части герба России?



291. Что на гербе России означают короны, соединенные лентами, скипетр и держава?

- Ⓐ Сильную власть и единство государства
- Ⓑ Готовность народа встать на защиту родной земли

292. В каком порядке сверху вниз расположены цвета российского флага?

- А Белый, красный, синий
- Б Белый, синий, красный
- В Красный, синий, белый
- Г Синий, белый, красный

293. Какой царь ввёл в России трёхцветный флаг?

- А Иван Грозный
- Б Пётр Первый
- В Александр Второй

294. В каком году трёхцветный флаг стал государственным флагом современной России?

- А В 1991 году
- Б В 1998 году
- В В 2004 году

295. На торжественных церемониях при исполнении Государственного гимна России:

- А все встают
- Б женщины снимают головные уборы
- В военные выполняют воинское приветствие

296. Отметь авторов музыки и слов Государственного гимна Российской Федерации.

- А С. В. Михалков
- Б С. Я. Маршак
- В Д. Д. Шостакович
- Г А. В. Александров

ТАКИЕ РАЗНЫЕ ПРАЗДНИКИ

- 297.** Когда отмечается День России?
- Ⓐ 12 июня
 - Ⓑ 22 августа
 - Ⓒ 4 ноября
- 298.** 12 декабря отмечается:
- Ⓐ День Государственного флага Российской Федерации
 - Ⓑ День народного единства
 - Ⓒ День Конституции
- 299.** Когда и кем в России было введено празднование Нового года 1 января?
- Ⓐ В 1613 году Михаилом Фёдоровичем Романовым
 - Ⓑ В 1700 году Петром Первым
 - Ⓒ В 1790 году Екатериной Второй
- 300.** В какой из праздников в школах принято поздравлять мальчиков?
- Ⓐ В День учителя
 - Ⓑ В День Конституции
 - Ⓒ В День защитника Отечества

301. В какой из праздников в школах принято поздравлять девочек?

- А В Международный женский день
- Б В Новый год
- В В День весны и труда

302. Какой праздник представлен на этих фотографиях?



- А Новый год
- Б День весны и труда
- В День Победы

Путешествие по России

303. Какие народы России живут на Дальнем Востоке?

- А Буряты, якуты, тувинцы, хакасы
- Б Чукчи, коряки, ительмены, эскимосы
- В Аварцы, адыгейцы, черкесы, осетины

304. Узнай город по фотографии.



- А Архангельск
- Б Вологда
- В Псков

305. Узнай праздник по описанию.

Этот праздник проводят после завершения весенних полевых работ. Смельчаки состязаются в беге, прыжках, борьбе, конных скачках, перетягивании каната.

- А Русская Масленица
- Б Праздник весны Цаган сар
- В Сабантуй — праздник плуга

306. Где расположены эти города?

Ярославль, Кострома, Нижний Новгород, Казань, Саратов, Астрахань

- А На Урале Б На Дальнем Востоке
 В На Волге Г В Сибири

307. Отметь города, расположенные на юге России.

- А Ростов-на-Дону Б Мурманск
 В Сочи Г Симферополь
 Д Иркутск Е Новороссийск

308. Узнай город по фотографии.




- А Владивосток Б Челябинск
 В Белгород Г Нижний Новгород

Мои тесты


Придумай тесты для своих одноклассников по любым из изученных тем. Проверь ответы ребят. Оцени их знания.















Тесты для повторения

Этот раздел поможет тебе вспомнить и повторить некоторые важные темы из предыдущих классов.

1. В какой строке правильно перечислены цвета полос флага России (сверху вниз)?

- А Красный, белый, синий
- Б Белый, синий, красный
- В Синий, белый, красный

2. Что изображено на гербе России?

- А Золотое солнце
- Б Золотой лев
- В Золотой двуглавый орёл

3. Сколько народов живёт в России?

- А Около 100
- Б Более 180
- В Более 300

4. Что такое семья?

- А Все родственники человека
- Б Самое близкое окружение человека
- В Знакомые и друзья

5. Что НЕ относится к природе?

- А Луна Б Берёза
 В Книга Г Аист

6. К неживой природе относится:

- А синица Б снежинка
 В белый гриб Г дуб

7. К живой природе относится:

- А майский жук Б глина
 В сосулька Г Сириус

8. Отметь сезонное явление природы.

- А Восход солнца Б Ледоход
 В Лунное затмение

9. Полярная звезда находится в созвездии:

- А Большая Медведица
 Б Малая Медведица
 В Большой Пёс

10. Отметь горную породу.

- А Кварц Б Слюда В Гранит

11. Один твёрдый стебель (ствол) имеют:

- А деревья Б травы В кустарники

12. Перья — это признак:

- А насекомых Б рыб
 В птиц Г зверей

13. Белка, поедающая орех, демонстрирует связь:

- А между неживой и живой природой
 Б между растениями и животными
 В между различными животными

14. К дикорастущим растениям относится:

- А огурец Б гладиолус В одуванчик

15. К домашним животным НЕ относится:

- А корова Б курица В мышь

16. Экология изучает:

- А связи между живыми существами и окружающей их средой
 Б погоду В вещества

17. Что НЕ является веществом?

- А Сахар Б Соль
 В Крахмал Г Воздух

18. К земноводным относится:

- А стрекоза Б лягушка В крокодил

19. Что такое почва?

- А Верхний плодородный слой земли
- Б Всё, что находится под ногами

20. К цветковым растениям относится:

- А папоротник
- Б яблоня
- В лиственница

21. При дыхании растения поглощают:

- А кислород
- Б углекислый газ

22. При питании растения выделяют:

- А углекислый газ
- Б кислород

23. Ласка, сова, божья коровка — это:

- А растительноядные животные
- Б хищные животные

24. Отметь растение, внесённое в Красную книгу России.

- А Тысячелистник
- Б Лотос
- В Пастушья сумка

25. Отметь животное, внесённое в Красную книгу России.

- А Зубр
- Б Лиса
- В Поползень

26. Особо охраняемые природные территории:

- А бульвары и скверы
- Б ботанические сады и зоопарки
- В заповедники и национальные парки

27. К внутреннему строению тела человека относится:

- А голова
- Б живот
- В желудок

28. Носовая полость, трахея, бронхи, лёгкие — это части:

- А дыхательной системы
- Б нервной системы
- В опорно-двигательной системы

29. В каком ряду приведены примеры продуктов, богатых углеводами?

- А Творог, рыба, мясо
- Б Хлеб, овсяная каша, картофель
- В Масло, сметана, сливки

30. Что НЕ относится к правилам здорового образа жизни?

- А Правильно питайся!
- Б Соблюдай чистоту!
- В Сочетай труд и отдых!
- Г Меньше двигайся!

- 31.** Пешеход должен переходить дорогу:
- А там, где путь короче
 - Б по пешеходному переходу
 - В там, где нет машин
- 32.** Отметь сигнал светофора, разрешающий переходить дорогу.
- А Красный
 - Б Жёлтый
 - В Зелёный
- 33.** Для вызова пожарных нужно набрать номер:
- А 101
 - Б 102
 - В 103
 - Г 104
- 34.** Единый номер телефона экстренной помощи:
- А 101
 - Б 102
 - В 103
 - Г 112
- 35.** К съедобным грибам относится:
- А маслёнок
 - Б мухомор
 - В желчный гриб
- 36.** Отметь ядовитое растение.
- А Черника
 - Б Голубика
 - В Вороний глаз
- 37.** Главная задача экономики:
- А производство товаров
 - Б оказание услуг
 - В удовлетворение потребностей людей

38. Какая отрасль экономики производит автомобили, компьютеры, одежду?

- А Сельское хозяйство Б Торговля
 В Промышленность

39. Отраслью промышленности является:

- А растениеводство Б животноводство
 В электроэнергетика

40. Отметь строительную профессию.

- А Машинист поезда Б Крановщик
 В Сталевар Г Повар

41. Доходом семьи НЕ является:

- А оплата покупок Б зарплата В пенсия

42. Что НЕ является стороной горизонта?

- А Север Б Юг В Запад
 Г Восток Д Компас

43. К формам земной поверхности НЕ относятся:

- А равнины Б горы В реки

44. Отметь водный объект естественного происхождения.

- А Пруд Б Озеро В Водохранилище

45. К материкам НЕ относится:

- А Евразия
- Б Африка
- В Америка
- Г Антарктида

46. Границу с Россией имеет:

- А Китай
- Б Турция
- В Аргентина

47. На севере Европы находятся:

- А Италия и Греция
- Б Швеция и Норвегия
- В Германия и Австрия

48. Какой город входит в Золотое кольцо России?

- А Сочи
- Б Петрозаводск
- В Суздаль
- Г Владивосток

49. К объектам Всемирного природного наследия в России относится:

- А Национальный парк «Серенгети»
- Б Озеро Байкал
- В Большой Барьерный риф

50. К объектам Всемирного культурного наследия в России относится:

- А Афинский Акрополь
- Б Великая Китайская стена
- В Московский Кремль и Красная площадь

ОТВЕТЫ

(Числами обозначены номера заданий,
буквами — верные ответы.)

- | | | |
|----------------|-------------|-------------|
| 1. Б | 25. Б | 49. Б |
| 2. В | 26. В | 50. Г |
| 3. А | 27. В | 51. В |
| 4. Б | 28. Б | 52. В |
| 5. Г | 29. Б, В | 53. В |
| 6. А, Б, Г, Е | 30. Б | 54. Г |
| 7. Б | 31. А, В, Д | 55. В |
| 8. В | 32. А | 56. Б |
| 9. А | 33. В | 57. В |
| 10. Г | 34. Г | 58. Г |
| 11. Б, В, Д, Е | 35. Б | 59. В |
| 12. А | 36. Г | 60. А |
| 13. Г | 37. В | 61. В |
| 14. В | 38. Д | 62. Б, В, Г |
| 15. Б | 39. Г | 63. А |
| 16. Б | 40. А | 64. Б, В, Д |
| 17. В, Г | 41. В | 65. В |
| 18. Б | 42. А | 66. Б |
| 19. В | 43. А | 67. Б, В |
| 20. А, Г, Е | 44. Б | 68. А |
| 21. А | 45. Б | 69. Б |
| 22. Б | 46. В, Г | 70. Г |
| 23. В | 47. Г | 71. Б, В, Д |
| 24. В | 48. А, В, Г | 72. В |

73. А, В, Д, Е
74. В
75. Г
76. А, Г
77. В
78. А
79. Б, В, Д
80. Б
81. В, Д
82. Б, В, Е
83. В
84. Б
85. В
86. Б
87. В
88. Б
89. В
90. Д
91. В
92. А
93. Г
94. Б, Г
95. В
96. В
97. Б
98. А
99. Б, Г
100. Б, В, Д
101. В
102. В, Е
103. В

104. Б
105. Б
106. Б, Г
107. В
108. А, Г
109. В
110. Б
111. А, В
112. Б, Г
113. Б
114. В
115. В
116. Г
117. А
118. Б
119. В
120. Г
121. В
122. А
123. В
124. В
125. Б
126. Б, Г, Д
127. Б
128. А
129. Г
130. А, Б
131. В
132. В
133. Б
134. А

135. Б
136. Б, В, Г
137. А
138. В
139. А, Г
140. Б
141. Б
142. Г
143. В
144. В
145. Г
146. В
147. Б, Г, Е
Д, Е
148. Б
149. В
150. Б
151. А
152. В, Г
153. А
154. В
155. В
156. Б
157. Б
158. Г
159. В, Г, Д
160. Б
161. В
162. А, Г, Д,
Е, И
163. В

164. Б
165. Б
166. А
167. Б
168. В
169. А
170. Е
171. Б
172. В
173. Б
174. А
175. А, В, Д
176. Г
177. В
178. В
179. Б
180. А
181. Б
182. В
183. Б, Г, Д
184. А
185. Б
186. Г
187. В
188. А
189. Б
190. Г
191. Б
192. Б, Г, Е
193. А
194. Б

195. А
196. В
197. В
198. В
199. Б
200. Б
201. В
202. Б, В
203. Б
204. Г
205. Б
206. А
207. Б
208. В
209. А, В, Г
210. А
211. Б
212. В
213. Б
214. Б
215. Г
216. А, В
217. Б
218. А
219. Б
220. В
221. В
222. Б
223. Г
224. Б
225. Б

226. Г
227. Б
228. Б
229. А
230. Б, В
231. А
232. Б
233. В
234. Б
235. А
236. А
237. Б, В
238. А, В, Д
239. Б, В, Д
240. А
241. В
242. Б
243. В
244. Б
245. В
246. В
247. Б
248. А, Б, В, Е
249. В
250. Б
251. Г
252. Б
253. Б
254. А
255. Б

- 256.** В, Г
257. А, Г, Д
258. В
259. А
260. В
261. Г
262. А, В, Г
263. Б
264. В
265. Б
266. В
267. Г
268. Б
269. А
270. Б
271. Б
272. А, Б, Д
273. Б



- 274.** Б
275. А, В
276. А
277. В
278. А, Б, Г
279. Б
280. В
281. А, Б, В
282. А
283. Б
284. А, Б, Д
285. Б, Д, Е
286. Б
287. А
288. А
289. Г
290. А
291. А



- 292.** Б
293. Б
294. А
295. А, В
296. А, Г
297. А
298. В
299. Б
300. В
301. А
302. В
303. Б
304. В
305. В
306. В
307. А, В, Г, Е
308. Г



ОТВЕТЫ НА ТЕСТЫ ДЛЯ ПОВТОРЕНИЯ

1. Б
2. В
3. Б
4. Б
5. В
6. Б
7. А
8. Б
9. Б
10. В
11. А
12. В
13. Б
14. В
15. В
16. А
17. Г



18. Б
19. А
20. Б
21. А
22. Б
23. Б
24. Б
25. А
26. В
27. В
28. А
29. Б
30. Г
31. Б
32. В
33. А
34. Г



35. А
36. В
37. В
38. В
39. В
40. Б
41. А
42. Д
43. В
44. Б
45. В
46. А
47. Б
48. В
49. Б
50. В



СОДЕРЖАНИЕ

1. ЗЕМЛЯ И ЧЕЛОВЕЧЕСТВО

Мир глазами астронома	3
Планеты Солнечной системы	5
Мир глазами географа	7
Мир глазами историка	9
Когда и где?	11
Мир глазами эколога	12
Международная Красная книга	14

2. ПРИРОДА РОССИИ

Равнины и горы России	16
Моря, озёра и реки России	18
Природные зоны России	20
Зона арктических пустынь	22
Тундра	24
Леса России	27
Лес и человек	29
Зона степей	31
Пустыни	34
У Чёрного моря	36

3. РОДНОЙ КРАЙ — ЧАСТЬ БОЛЬШОЙ СТРАНЫ

Поверхность нашего края	38
Водные богатства нашего края	39

Наши подземные богатства	41
Земля-кормилица	43
Жизнь леса	45
Жизнь луга	48
Жизнь в пресных водах	50

4. СТРАНИЦЫ ВСЕМИРНОЙ ИСТОРИИ

Мир древности: далёкий и близкий	52
Средние века: время рыцарей и замков . . .	54
Новое время: встреча Европы и Америки . . .	56
Новейшее время: история продолжается сегодня	58

5. СТРАНИЦЫ ИСТОРИИ РОССИИ

Государство Русь	60
Страна городов	61
Из книжной сокровищницы Руси	63
Трудные времена на Русской земле	65
Русь расправляет крылья	66
Куликовская битва	68
Иван Третий	70
Россия в правление царя Ивана Васильевича Грозного	71
Патриоты России	73
Пётр Великий	75
Михаил Васильевич Ломоносов	78
Екатерина Великая	80
Отечественная война 1812 года	82
Страницы истории XIX века	84

Россия вступает в XX век	85
Страницы истории 1920—1930-х годов . . .	87
Великая Отечественная война и Великая Победа	89
Страна, открывшая путь в космос	92

6. СОВРЕМЕННАЯ РОССИЯ

Основной закон России и права человека . . .	94
Мы — граждане России	97
Славные символы России	99
Такие разные праздники	101
Путешествие по России	102

МОИ ТЕСТЫ	105
----------------------------	-----

ТЕСТЫ ДЛЯ ПОВТОРЕНИЯ	112
---------------------------------------	-----

ОТВЕТЫ	120
-------------------------	-----





Учебное издание

Серия «Школ России»

Плешаков Андрей Ан тольевич

Гара Н т лья Никол евн

Назарова Зоя Дмитриевн

ОКРУЖАЮЩИЙ МИР

Тесты

4 класс

Учебное пособие
для общеобразовательных организаций

Редакция естественно-математических предметов

Зведующий редакцией *О. А. Подымова*

Ответственный за выпуск *Е. В. Марвина*

Редактор *Н. В. Семёнова*

Редактор-корректор *Н. В. Заболотная*

Художественный редактор *Н. Л. Жигулина*

Художники *В. Д. Колганов, С. В. Богачёв, П. А. Жиличкин,*

В. В. Бастрыкин, О. И. Руновская, Е. В. Семёнов

Дизайн обложки и макет *Т. Н. Распоповой*

Компьютерная верстка *Е. В. Семёнова*

Технический редактор *Р. С. Еникеева*

Корректор *А. В. Рудакова*

Налоговая льгота — Общероссийский классификатор продукции ОК 005-93—953000.

Изд. лиц. Серия ИД № 05824 от 12.09.01. Подписано в печать 22.10.19.

Формат 70 × 90^{1/16}. Бумага офсетная. Гарнитура Pragmatica. Печать офсетная.

Уч.-изд. л. 4,84. Тираж 17 300 экз. Заказ № _____.

Акционерное общество «Издательство «Просвещение».

Российская Федерация, 127473, г. Москва, ул. Космопролетарская,

д. 16, стр. 3, этаж 4, помещение 1.

Предложения по оформлению и содержанию учебников —

электронная почта «Горячей линии» — fru@prosv.ru.

Отпечатано в России.

Отпечатано по заказу АО «ПолиграфТрейд»

в филиале «Тверской полиграфический комбинат детской литературы»

ОАО «Издательство «Высшая школа».

170040, г. Тверь, проспект 50 лет Октября, 46.

Тел.: +7(4822) 44-85-98. Факс: +7(4822) 44-61-51.