



ВСЕОБЩАЯ ИСТОРИЯ
НОВЕЙШАЯ ИСТОРИЯ. 1914 – НАЧАЛО XXI ВЕКА

КОНТУРНЫЕ КАРТЫ



10-11

классы

ЛИНЕЙНАЯ СТРУКТУРА
КУРСА

ВСЕОБЩАЯ ИСТОРИЯ
НОВЕЙШАЯ ИСТОРИЯ. 1914 – НАЧАЛО XXI ВЕКА

10–11

классы

КОНТУРНЫЕ КАРТЫ





Москва • «Просвещение» • 2023



Военно-политические блоки держав Европы к 1914 г.



УСЛОВНЫЕ ОБОЗНАЧЕНИЯ

-  Страны Тройственного союза и их столицы
ВЕНА
-  Страны Антанты (Тройственного соглашения) и их столицы
ПАРИЖ















Масштаб 1:36 500 000



ЗАДАНИЯ

1. Цветом выделите на карте колониальные державы и их владения.
2. Нанесите границы сфер влияния колониальных держав.
3. Укажите войны за передел мира, произошедшие в конце XIX — начале XX в.
4. На карте-врезке обозначьте страны — члены Антанты и Тройственного союза.

УСЛОВНЫЕ ОБОЗНАЧЕНИЯ

 Великобритания	 Дания	 Первые войны за передел мира в эпоху империализма
 Российская империя	 Османская империя	
 Франция	 Германия	
 Нидерланды	 Италия	
 Испания	 США	
 Португалия	 Япония	
	 Бельгия	

Масштаб 1:100 000 000

УСЛОВНЫЕ ОБОЗНАЧЕНИЯ

- Государства Антанты и их союзники
- Германия и её союзники
- Направления главных ударов: войск Германии и её союзников
- ← войск Антанты
- X Места и даты крупнейших сражений 5—12.9.14

ЗАДАНИЯ
Первая мировая война

1. Обозначьте различным цветом государства Антанты и их союзников, Германию и её союзников.
2. Подпишите названия государств, укажите даты их вступления в войну и даты капитуляции Германии и её союзников.
3. Покажите направления главных ударов войск воюющих сторон.
4. Условными знаками отметьте революции в России (1917 г.), Австро-Венгрии и Германии (1918 г.).



ВОЕННЫЕ ДЕЙСТВИЯ В АФРИКЕ



УСЛОВНЫЕ ОБОЗНАЧЕНИЯ

- Колонии Германии
- Основные направления действий войск Антанты

Масштаб 1:100000000

ЗАДАНИЯ

Военные действия в Африке

1. Обозначьте колонии Германии и подпишите их названия.
2. Покажите основные направления действий войск Антанты.

РАЗДЕЛ ОСМАНСКОЙ ИМПЕРИИ (1920—1923 гг.)



ЗАДАНИЯ

1. Обозначьте цветной линией границы Османской империи в 1914 г.
2. Выделите территорию Турции в границах 1923 г.
3. Подпишите названия государств, образовавшихся к 1923 г. после распада Османской империи.

ТЕРРИТОРИАЛЬНЫЕ ИЗМЕНЕНИЯ В ЕВРОПЕ ПО ВЕРСАЛЬСКОМУ МИРНОМУ ДОГОВОРУ 1919 г.



УСЛОВНЫЕ ОБОЗНАЧЕНИЯ

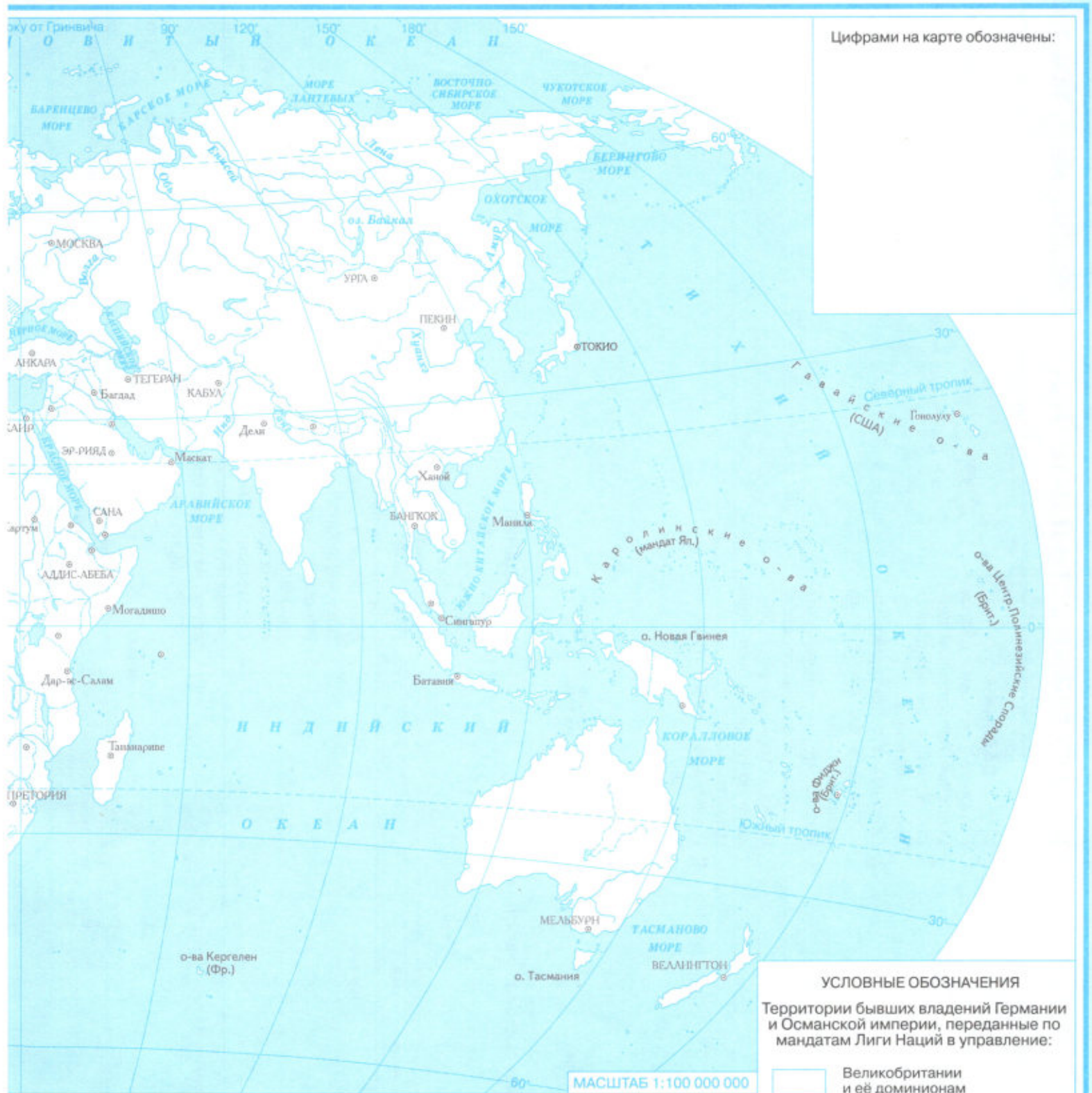
Территории, отошедшие от Германии по Версальскому мирному договору:

	Франции		Польше
	Бельгии		Дании

ЗАДАНИЯ

1. Выделите границу Германии после Версальского мирного договора 1919 г. Подпишите названия государств.
2. Покажите разными цветом территории, отошедшие от Германии к Франции, Бельгии, Польше, Дании.
3. Обозначьте территорию:
 - а) взятую под контроль Антанты;
 - б) получившую статус «вольного города»;
 - в) переданную под управление Лиги Наций.

МИРОВОЙ ВОЙНЫ



ЗАДАНИЯ

1. Выделите границы и подпишите красным цветом названия независимых государств, образовавшихся с 1917 по 1923 г.
2. Обозначьте разным цветом территории бывших владений Германии и Османской империи, переданные по мандатам Лиги Наций в управление Великобритании и её доминионам, Франции, Бельгии, Японии.
3. Обозначьте и подпишите названия стран, где в 1924—1939 гг. происходили национально-освободительные войны и вооружённые восстания.

НАРАСТАНИЕ МЕЖДУНАРОДНОЙ НАПРЯЖЁННОСТИ НАКАНУНЕ ВТОРОЙ МИРОВОЙ ВОЙНЫ

НАЦИОНАЛЬНО-РЕВОЛЮЦИОННАЯ ВОЙНА В ИСПАНИИ И ИТАЛО-ГЕРМАНСКАЯ ИНТЕРВЕНЦИЯ.

Июль 1936 — март 1939 г.



УСЛОВНЫЕ ОБОЗНАЧЕНИЯ

Основные направления действий войск:

- франкистов и интервентов
- ← республиканцев

ЗАДАНИЯ

1. Покажите разным цветом основные направления действий войск франкистов и республиканцев.
2. Обозначьте территорию, занятую франкистами к концу февраля 1939 г.
3. Подпишите и подчеркните названия портовых городов, через которые в республиканскую Испанию поступали грузы из СССР.
4. Подпишите дату падения Мадрида.

Территория, занятая франкистами к концу февраля 1939 г.



УСЛОВНЫЕ ОБОЗНАЧЕНИЯ

- Территории и государства, захваченные Германией и Италией с марта 1938 по апрель 1939 г.
- Территории, переданные Германией и Италией Венгрии по Венским арбитражам



ЗАДАНИЯ:

1. Выделите границы государств накануне Второй мировой войны.
2. Подпишите названия государств и подчеркните подписи названий государств, участвовавших в Мюнхенском соглашении 1938 г.
3. Обозначьте территории и государства, захваченные Германией и Италией с марта 1938 по апрель 1939 г.
4. Обозначьте территории, переданные Германией и Италией Венгрии по первому и второму Венским арбитражам.

ЗАДАНИЯ

1. Выделите границы государств. Обозначьте территорию государства Маньчжоу-Го.
2. Подпишите дату начала вторжения японских войск в Северо-Восточный Китай.
3. Нанесите основные направления действий японских войск.
4. Обозначьте места нападения японских войск на территории СССР и Монголии.

ЯПОНСКАЯ АГРЕССИЯ В СЕВЕРО-ВОСТОЧНОМ КИТАЕ. 1931—1937 гг.



УСЛОВНЫЕ ОБОЗНАЧЕНИЯ

- Основные направления действий японских войск
- Нападение японских войск на территории СССР и Монголии и их разгром

Территория марionетного государства Маньчжоу-Го



ВТОРАЯ МИРОВАЯ ВОЙНА. ВОЕННЫЕ ДЕЙСТВИЯ 1 СЕНТЯБРЯ 1939 г. — 21 ИЮНЯ 1941 г. ПЕРВЫЙ ПЕРИОД ВЕЛИКОЙ ОТЕЧЕСТВЕННОЙ ВОЙНЫ 22 ИЮНЯ 1941 г. — 18 НОЯБРЯ 1942 г.



ЗАДАНИЯ

1. Выделите границы и подпишите названия государств.
2. Обозначьте территории Германии и её союзников.
3. Обозначьте государства и территории, оккупированные агрессорами с 1 сентября 1939 г. по 21 июня 1941 г.
4. Покажите основные направления действий германских войск:
 - а) с 1 сентября 1939 г. по 21 июня 1941 г.;
 - б) с 22 июня 1941 г. по 18 ноября 1942 г.
5. Нанесите линию советско-германского фронта на 18 ноября 1942 г.
6. Обозначьте основные контрудары Красной Армии и контрнаступление под Москвой.

Цифрами на карте обозначены:

ВТОРОЙ И ТРЕТИЙ ПЕРИОДЫ ВЕЛИКОЙ ОТЕЧЕСТВЕННОЙ ВОЙНЫ 19 НОЯБРЯ 1942 г. — 9 МАЯ 1945 г. ВОЕННЫЕ ДЕЙСТВИЯ В ЗАПАДНОЙ ЕВРОПЕ



ЗАДАНИЯ

1. Выделите границы и подпишите названия государств и союзных республик СССР.
2. Выделите территорию Германии.
3. Обозначьте линии советско-германского фронта на начало второго и третьего периодов Великой Отечественной войны и рубеж выхода советских войск и войск союзников к 8—9 мая 1945 г.
4. Покажите разным цветом основные направления действий войск Красной Армии по периодам Великой Отечественной войны, войск союзников и контрудары германских войск.
5. Подпишите дату подписания акта о капитуляции Германии.

Цифрами на карте обозначены:

ЕВРОПА ПОСЛЕ ВТОРОЙ МИРОВОЙ ВОЙНЫ



ЗАДАНИЯ

1. Выделите границы государств и покажите территории, отошедшие к СССР и Польше в результате войны.
2. Обозначьте границы советской, американской, английской и французской зон оккупации Германии.
3. Подпишите различным цветом названия государств — участников НАТО и ОВД.
4. Подчеркните линиями разного цвета подписи названий государств — членов СЭВ и ЕЭС.
5. Обозначьте центры народных движений в 1950-х — начале 1980-х гг.

Цифрами на карте обозначены:

СТРАНЫ ВОСТОЧНОЙ АЗИИ И ИНДОКИТАЯ В СЕРЕДИНЕ XX – НАЧАЛЕ XXI В.



РАСПАД СССР



ЕВРОПА В КОНЦЕ XX – НАЧАЛЕ XXI в.




ЗАДАНИЯ

1. Подпишите названия государств.
2. Обозначьте государства, в которых в конце XX в. впервые были проведены демократические выборы.
3. Подчеркните названия государств, входящих в Европейский союз.
4. Выделите границы государств — членов СНГ и НАТО.
5. Подчеркните названия столиц государств, образовавшихся в 1990—2000-е гг.

Цифрами на карте обозначены:

СЕРИЯ АТЛАСОВ И КОНТУРНЫХ КАРТ ПО ВСЕОБЩЕЙ ИСТОРИИ

- **ИСТОРИЯ ДРЕВНЕГО МИРА**
5 КЛАСС
- **ИСТОРИЯ СРЕДНИХ ВЕКОВ**
6 КЛАСС
- **ИСТОРИЯ НОВОГО ВРЕМЕНИ**
КОНЕЦ XV — XVII ВЕК
7 КЛАСС
- **ИСТОРИЯ НОВОГО ВРЕМЕНИ**
XVIII ВЕК
8 КЛАСС
- **ИСТОРИЯ НОВОГО ВРЕМЕНИ**
XIX — НАЧАЛО XX ВЕКА
9 КЛАСС
- **НОВЕЙШАЯ ИСТОРИЯ**
1914 — НАЧАЛО XXI ВЕКА
10–11 КЛАССЫ



ISBN 978-5-09-105957-1



9 785091 059571

Официальный
интернет-магазин
издательства
«Просвещение»
shop.prosv.ru


ПРОСВЕЩЕНИЕ
ИЗДАТЕЛЬСТВО

www.prosv.ru

12

